



اختر الإجابة الصحيحة من بين البدائل التالية :

- (١) يعتبر الخليج العربي المنفذ البحري الوحيد لدولة .....  
( السعودية - الأردن - العراق - عُمان ) ( تمى الأمديد / الدقهلية )
- (٢) يقع الوطن العربي بالكامل في شرق المحيط .....  
( الهادى - الهندى - الأطلنطى - القطبى الشمالى )
- (٣) أى من الظواهر الجغرافية التالية تُعد حدوداً فاصلة للوطن العربى ؟ .....



جبال زاغروس

د



قناة السويس

ج



البحر الأحمر

ب

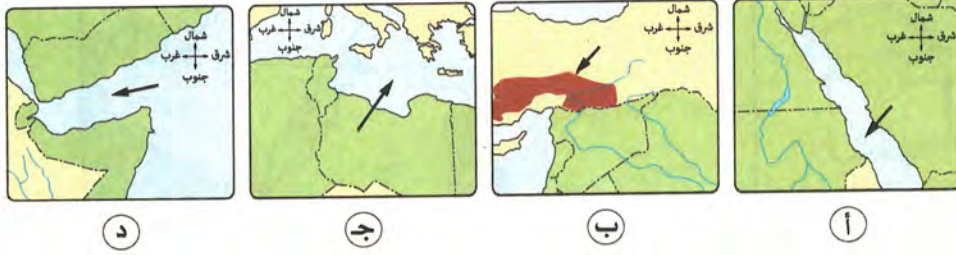


خليج عدن

أ

- (٤) الدولة العربية التى تقع خارج الامتداد الفلكى للوطن العربى هى .....  
( موريتانيا - البحرين - جزر القمر - المغرب ) ( روض الفرج / القاهرة )
- (٥) أى من الدول العربية تقع بأكملها في المحيط الهندى ؟ .....
- ( البحرين - عُمان - جيبوتى - جزر القمر ) ( كفر الشيخ )
- (٦) يحد الوطن العربى من الجنوب المحيط .....  
( الهندى - الهادى - الأطلنطى - القطبى الشمالى ) ( بورسعيد )
- (٧) أى من الدول الآتية تقع في الجناح العربى الأفريقى ؟ .....
- ( سوريا - البحرين - الإمارات - جيبوتى ) ( العجوة / الجيزة )
- (٨) تمتلك دولة ..... سواحل تطل على بحر ومحيط.  
( السعودية - السودان - المغرب - سوريا ) ( السويس )

- (٩) تتنوع الثروات المعدنية في الوطن العربي بسبب .....
- (تنوع التكوينات الجيولوجية - التنوع المناخي - التنوع النباتي - الموقع الفلكي )
- (١٠) أي من الخرائط التالية توضح حدًا طبيعيًا للوطن العربي ساعده على الاتصال بالعالم الخارجي ؟ .....



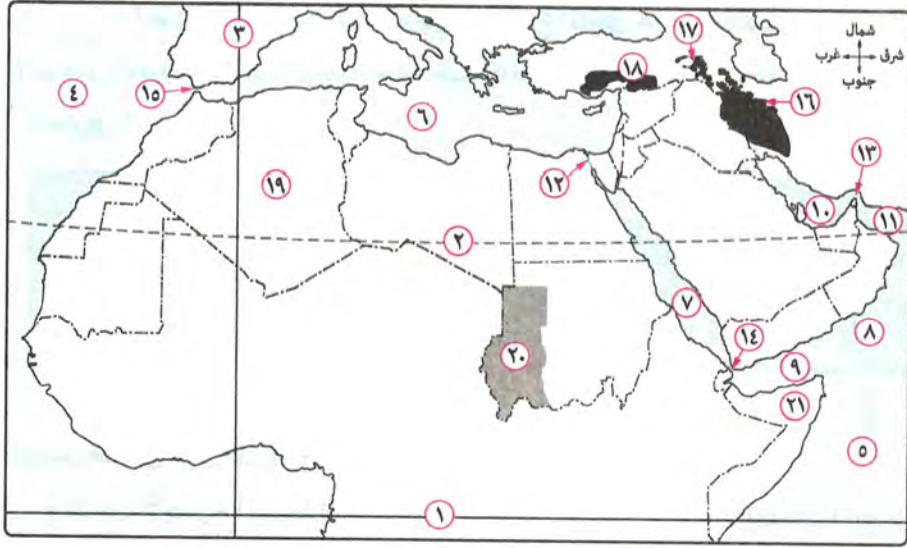
- (١١) يصل مضيق جبل طارق بين البحر المتوسط و .....
- ( البحر الأحمر - المحيط الأطلنطي - المحيط الهادى - المحيط الهندى ) نيج حمادى / قنا
- (١٢) يصل مضيق هرمز بين الخليج العربى وخليج عمان وبالتالى .....
- ( المحيط الهندى - المحيط الأطلنطي - البحر الأحمر - البحر المتوسط )
- (١٣) يقع مضيق هرمز تحت إشراف دولتى .....
- ( جيبوتى واليمن - عُمان وقطر - عُمان وإيران - الصومال وجيبوتى )
- (١٤) أى من الدول العربية التالية تمر بها دائرة الاستواء ؟ .....
- ( الصومال - جيبوتى - السودان - موريتانيا ) القرن / الشرقية
- (١٥) تعد من الدول العربية التى تشرف على مضيق باب المندب دولة .....
- ( عُمان - المغرب - مصر - جيبوتى ) ميت غمر / الدقهلية
- (١٦) تعد من أهم المشكلات السياسية التى توجد فى الجناح العربى الآسيوى مشكلة .....
- ( فلسطين - سبتة ومليلة - دارفور - جنوب السودان ) شمالوط / المنيا

## ٢ أكمل العبارات الآتية بكلمات مناسبة :

- (١) تمتد أراضى الوطن العربى فى قارقتى آسيا و ..... ويفصل بينهما .....
- (٢) يحد وطننا العربى من الجنوب الصحراء الكبرى و .....
- (٣) من الأماكن المقدسة فى وطننا العربى التى يقصدها الناس للزيارة ..... بالسعودية .
- (٤) تعد مدينتى ..... و ..... من المدن المحتلة إلى الآن بالمغرب .  
الشرابية / القاهرة

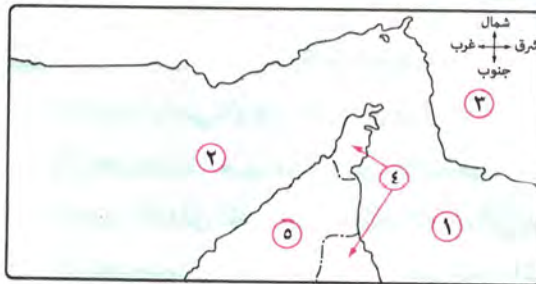


### ٣ أمامك خريطة للوطن العربي، اكتب مدلول الأرقام التي عليها :



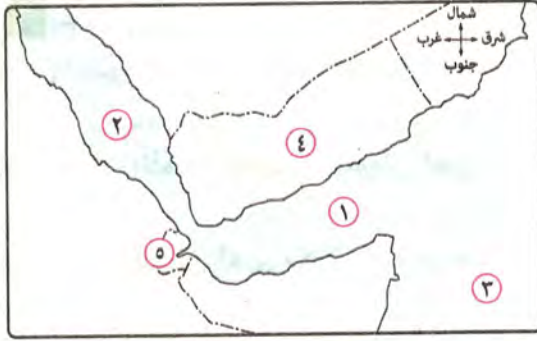
- |                         |                  |                                    |
|-------------------------|------------------|------------------------------------|
| ..... (٣) خط            | ..... (٢) مدار   | ..... (١) دائرة                    |
| ..... (٦) البحر         | ..... (٥) المحيط | ..... (٤) المحيط                   |
| ..... (٩) خليج          | ..... (٨) البحر  | ..... (٧) البحر                    |
| ..... (١٢) ممر مائي     | ..... (١١) خليج  | ..... (١٠) الخليج                  |
| ..... (١٥) مضيق         | ..... (١٤) مضيق  | ..... (١٣) مضيق                    |
| ..... (١٨) جبال         | ..... (١٧) جبال  | ..... (١٦) جبال                    |
| ..... (٢٠) مشكلة سياسية | ..... (١٩) دولة  | ..... (٢١) دولة تطل على خليج ومحيط |

### ٤ أمامك خرائط للمضايق في الوطن العربي، اكتب مدلول الأرقام التي عليها :



#### (١) مضيق هرمز:

- |                  |
|------------------|
| ..... (١) خليج   |
| ..... (٢) الخليج |
| ..... (٣) دولة   |
| ..... (٤) دولة   |
| ..... (٥) دولة   |



(ب) مضيق باب المندب :

- (١) خليج .....  
 (٢) البحر .....  
 (٣) المحيط .....  
 (٤) دولة .....  
 (٥) دولة .....



(ج) مضيق جبل طارق :

- (١) البحر .....  
 (٢) المحيط .....  
 (٣) دولة .....  
 (٤) دولة .....

٥ اكتب كلمة (صواب) أمام العبارة الصحيحة، وكلمة (خطأ) أمام العبارة غير الصحيحة، مع التصويب :

- (١) يقع الوطن العربي وسط قارات العالم القديم آسيا وأفريقيا وأستراليا. جرجا / سوهاج ( )  
 (٢) تمتلك كل الدول العربية سواحل تطل على البحار أو المحيطات. بلطيم / كفر الشيخ ( )  
 (٣) تقع دولة جزر القمر في المحيط الهندي شمال دائرة الاستواء. بلبيس / الشرقية ( )  
 (٤) يحد الوطن العربي من الشمال البحر الأحمر وجبال طوروس. ( )  
 (٥) يحد الوطن العربي من الشمال الشرقي جبال كردستان وجبال زاغروس. ( )  
 (٦) تبلغ مساحة الوطن العربي نحو ١٣ مليون كم<sup>٢</sup>. ساقلتة / سوهاج ( )  
 (٧) يبلغ عدد دول الوطن العربي بالجناح الآسيوي عشرة دول، وبالجناح الأفريقي اثنتي عشرة دولة. ( )  
 (٨) قامت على أرض الوطن العربي العديد من الحضارات منها الحضارة المصرية القديمة وحضارة بلاد العراق القديم. ( )  
 (٩) يطل وطننا العربي على ثلاثة أذرع مائية مهمة. العمرانية / الجيزة ( )  
 (١٠) تشرف دولتي المغرب وإسبانيا على مضيق جبل طارق. التل الكبير / الإسماعيلية ( )  
 (١١) تشرف اليمن كدولة عربية على مضيق هرمز. ( )  
 (١٢) تصل قناة السويس بين البحر الأحمر والبحر المتوسط. ( )  
 (١٣) تعد مشكلة جنوب السودان إحدى المشكلات السياسية في الجناح العربي الأفريقي. ( )



## ٦ بم تفسر...؟

- الخصوص / القليوبية (١) تتوفر في الوطن العربي عوامل وحدته.  
.....
- كفر الدوار / البحيرة (٢) الأهمية الحضارية للوطن العربي. 
- .....
- العمرائية / الجيزة (٣) للوطن العربي مكانة دينية مهمة. 
- .....
- بسيون / الغربية (٤) الأهمية الاقتصادية والاستراتيجية لوطننا العربي. 
- .....
- الإسماعيلية (٥) تنوع الموارد الاقتصادية في الوطن العربي.  
.....
- (٦) لعب الوطن العربي عبر تاريخه دورًا مهمًا في التجارة العالمية.  
.....
- (٧) مضيق باب المندب مضيق عربي خالص.  
.....
- الساحل / القاهرة (٨) تقسيم الوطن العربي إلى دول مختلفة المساحة. 
- .....

## ٧ ما النتائج المترتبة على...؟

- شبين الكوم / المنوفية (١) امتداد حدود الوطن العربي مع ظواهر طبيعية. 
- .....
- (٢) الموقع الجغرافي للوطن العربي. 
- .....
- البلينا / سوهاج (٣) تحكم الوطن العربي في ممرات مائية مهمة. 
- .....
- رشيد / البحيرة (٤) الأهمية الاستراتيجية للوطن العربي. 
- .....

## ٨ ماذا يحدث إذا لم يتعرض الوطن العربي للاستعمار الأوروبي؟

- الزرقا / دمياط  
.....



٩ ما المقصود بكل من ... ؟

- (١) موقع فلكى : ..... نصرالنوبة / أسوان  
 (٢) موقع جغرافي : ..... دمياط  
 (٣) أهمية استراتيجية : ..... غرب مدينة نصر / القاهرة

١٠ دلل جغرافيًا على صحة كل عبارة مما يأتي :

- (١) وقوع دولة جزر القمر خارج النطاق الفلكي للوطن العربي.  
 .....  
 (٢) لموقع الوطن العربي آثار سلبية وأخرى إيجابية على البلاد العربية .  
 ميت غمر / الدقهلية  
 .....

١١ حدد العنصر غير المناسب للمجموعة فيما يلي ، مع ذكر السبب :

- (١) اليمن - المغرب - الكويت - العراق .  
 .....  
 (٢) مشكلة جنوب السودان - مشكلة الجزر الإماراتية - مشكلة دارفور - مشكلة سبتة ومليلة .  
 .....

١٢ وضح أوجه الشبه والاختلاف بين : مضيق هرمز ، ومضيق باب المندب .

بليس / الشرقية

.....

١٣ «حرصت الشعوب العربية على مقاومة الاستعمار بأشكاله المختلفة» .

في ضوء العبارة السابقة ، وضح :

- (١) أسباب استيلاء الدول الاستعمارية الأوروبية على الوطن العربي .  
 .....

- (٢) الآثار الناتجة عن تعرض الوطن العربي للاستعمار الأوروبي .  
 .....

١٤ «تخيل أنك سافرت في سفينة بحرية من ميناء الإسكندرية في مصر إلى دولة موريتانيا» .

الإسماعيلية

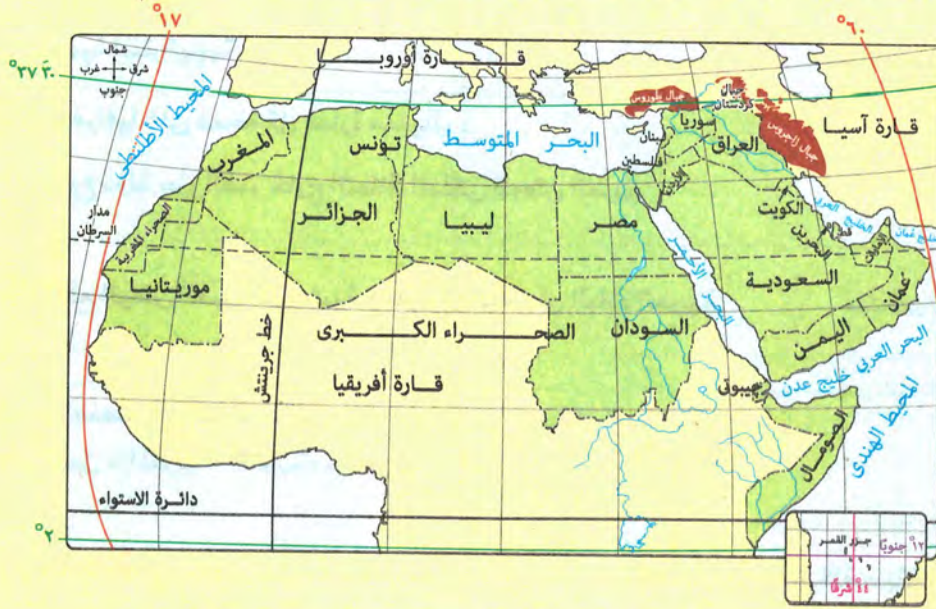
في ضوء هذه العبارة ، أجب عما يأتي :

- (١) ما اسم المضيق الذى ستمر عليه ؟ .....  
 (٢) ما اسم الدولة غير العربية التى تشرف على نفس المضيق ؟ .....



أسئلة للتمييز

١٥ استعن بخريطة الوطن العربي، للإجابة على كل من (١)، (ب):



(١) اكتب كلمة (صواب) أو كلمة (خطأ) أمام كل عبارة مما يأتي، مع التصويب :

- ( ) (١) تقع أطول حدود برية للوطن العربي في الجناح الأفريقي .
- ( ) (٢) يتميز الجناح العربي الأفريقي عن الجناح العربي الآسيوي بصغر مساحة الدول .
- ( ) (٣) أقصى امتداد ليابس الوطن العربي شمالاً يوجد في الجناح العربي الآسيوي .

القرين / الشرقية

- ( ) (٤) تشترك دولة جزر القمر مع بعض دول الوطن العربي في دوائر العرض وتختلف في خطوط الطول .
- ( ) (٥) الحدود الشمالية للوطن العربي حدود بحرية في كل قطاعاته .

(ب) اكتب ما تدل عليه كل عبارة مما يأتي :

- (.....) (١) دولة عربية تقع بالكامل في نصف الكرة الأرضية الجنوبي .
- (.....) (٢) أصغر دولة عربية مطلة على البحر المتوسط .



## ١٦ اختر الإجابة الصحيحة مما بين القوسين :

- (١) أقرب دوائر العرض الرئيسية لدولة جزر القمر .....  
( دائرة الاستواء - مدار السرطان - مدار الجدى - الدائرة القطبية الجنوبية ) منية النصر / الدقهلية
- (٢) يقترب اليباس العربى من اليباس الأوزوبى عند .....  
( مضيق باب المندب - مضيق هرمز - مضيق جبل طارق - قناة السويس )
- (٣) تقع دولتا ..... بالكامل فى نصف الكرة الأرضية الغربى.  
( موريتانيا والمغرب - الجزائر وموريتانيا - الجزائر والمغرب - تونس والمغرب ) أجا / الدقهلية
- (٤) أى من الدول العربية التالية تقع بأكملها بين دائرة الاستواء ومدار السرطان ؟ دولة .....  
( جزر القمر - السودان - الكويت - تونس )
- (٥) يختلف البحر المتوسط عن البحر الأحمر فى .....  
( الاتصال بمحيط - الفصل بين قارتين - الامتداد - وجود المضائق ) سمالوط / المنيا
- (٦) الممر المائى الذى يصل بين خليجين عربيين هو .....  
( مضيق هرمز - مضيق جبل طارق - مضيق باب المندب - قناة السويس ) الزرقا / دمياط
- (٧) ممر مائى يفصل بين يابس دولتين عربيتين هو .....  
( مضيق باب المندب - مضيق هرمز - مضيق جبل طارق - قناة السويس ) دسوق / كفر الشيخ
- (٨) تتسم دولة ..... بعدم الترابط بين أجزائها.  
( السعودية - عُمان - العراق - الأردن ) السنبلابوين / الدقهلية
- (٩) أقصى امتداد ليابس الوطن العربى شرقاً يوجد بدولة .....  
( السعودية - العراق - عُمان - قطر )
- (١٠) يلتقى مدار السرطان مع خط جرينتش جنوب دولة .....  
( الجزائر - موريتانيا - المغرب - ليبيا ) أبو حمص / البحيرة

## ١٧ ما تقييمك لكل عبارة مما يأتى... ؟

(١) لعبت الحدود الشمالية للوطن العربى دورين مختلفين.

بورسعيد

(٢) يشرف الوطن العربى على عدة مضائق وممرات بحرية، تزيد كل منها من أهمية الآخر.



(٣) التكوينات الجيولوجية في منطقة الخليج العربي زادت من أهمية المضائق والممرات التي يشرف عليها الوطن العربي.



١٨ الصورة التي أمامك لمضيق له أهميته الاستراتيجية والتجارية،

من خلال ما درست حدد :

(١) المسطحات المائية التي يصل بينها.

(٢) الدول العربية التي يُعد منفذًا خارجيًا لتجارتها.

١٩ أيد صحة كل عبارة مما يأتي :

(١) لعب موقع الوطن العربي دورًا هامًا في نقل الديانات السماوية إلى العالم كله.

(٢) أثر الاستعمار الذي تعرض له الوطن العربي بشكل سلبي على الاستفادة سياحيًا من بعض الأماكن المقدسة.

٢٠ حدد المعلومات غير الصحيحة على الخريطة (١) وأعد كتابتها صحيحة على الخريطة (٢) :



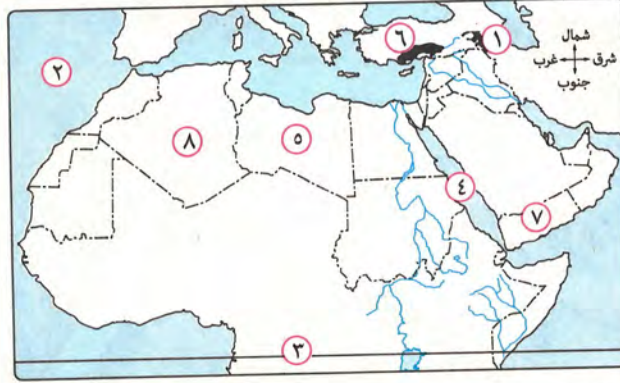
الخريطة رقم (٢)



الخريطة رقم (١)



١ (١) أمامك خريطة للوطن العربي من خلالها، أجب عما يأتي :



- (١) يمثل الرقم ٣ دائرة عرض .....  
 (٢) يمثل جبال طوروس الرقم .....  
 (٣) يشير رقم ٢ إلى المحيط .....  
 (٤) يشير الرقم ٤ إلى مسطح مائي .....  
 (٥) يشير الرقم ٤ إلى مسطح مائي .....  
 (٦) يمثل الرقم ٧ دولة .....  
 (٧) يمثل جبال طوروس الرقم .....  
 (٨) يشير إلى دولة الجزائر الرقم .....

(ب) ما العلاقة بين : المسطحات المائية، والأهمية الاستراتيجية للوطن العربي ؟ بيا / بنى سويف  
 (ج) ماذا يحدث إذا لم : تمتد حدود الوطن العربي مع ظواهر طبيعية ؟ نصر النوبة / أسوان

٢ (١) اختر الإجابة الصحيحة مما بين القوسين :

- (١) أى من الدول العربية الآتية تقع في الجناح العربي الآسيوى ؟  
 ( لبنان - السودان - تونس - المغرب )  
 (٢) المدخل الغربى للبحر المتوسط يتمثل في .....  
 ( مضيق موزمبيق - مضيق باب المندب - قناة السويس - مضيق جبل طارق )  
 (٣) أقصى امتداد ليابس الوطن العربي غربًا يتمثل في دولة .....  
 ( موريتانيا - الجزائر - جيبوتي - تونس ) شرق شبرا الخيمة / القليوبية  
 (ب) ما النتائج المترتبة على : تنوع الأقاليم المناخية والنباتية في الوطن العربي ؟ الساحل / القاهرة  
 (ج) ما مدى مصداقية العبارة التالية :  
 مشكلة سبتة ومليلة من المشكلات الاقتصادية بالجناح العربي الأفريقي ؟ قها / القليوبية



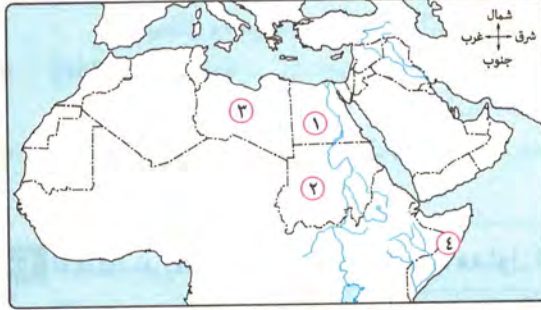


السؤال المسبوق بالعلامة من أسئلة الكتاب المدرسي

تذكر • فهم • تطبيق • مستويات عليا

## 1 اختر الإجابة الصحيحة من بين البدائل التالية :

(١) يرجع تكون المرتفعات في غرب السعودية إلى .....  
( الحركات الالتوائية - الحركات الانكسارية - التعرية المائية - الثورات البركانية )



(٢) بالاستعانة بالخريطة المقابلة حدد الدولة

التي تقع بها واحة الكفرة .....

- (١) الدولة رقم ١
- (ب) الدولة رقم ٢
- (ج) الدولة رقم ٣
- (د) الدولة رقم ٤

(٣) تكونت الدالات والشواطئ نتيجة .....

( الحركات الانكسارية - التعرية المائية - الحركات الالتوائية - الثورات البركانية ) وسط / الإسكندرية  
(٤) أدى تعرض الصخور الصلبة بالوطن العربي لحركات باطنية إلى تكوّن .....

( جبال التوائية - جبال بركانية - جبال انكسارية - سهول فيضية )

(٥) من الجبال الالتوائية في وطننا العربي جبال .....

( البحر الأحمر - كردستان - الشام - اليمن ) الزقازيق / الشرقية

(٦) تُعد جبال ..... من الجبال الانكسارية في وطننا العربي.

( الحجاز - عُمان - كردستان - زاجروس ) الزيتون / القاهرة

(٧) تقع شرق دولة العراق جبال .....

(٨) أى من عوامل تشكيل سطح الأرض الآتية كانت سبباً في نشأة جبال أطلس ؟ .....




(د)



(ج)



(ب)



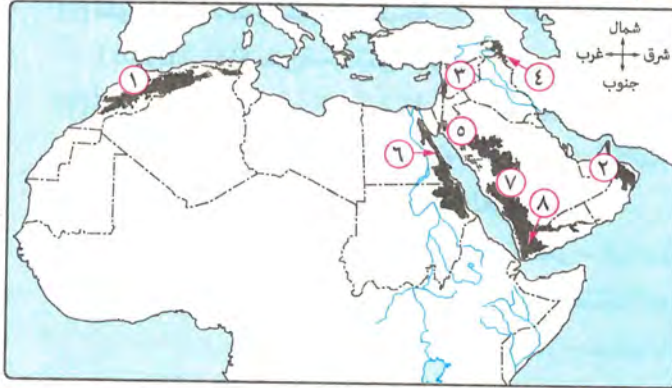
(أ)

(٩) تمتد جبال عسير على الساحل الشرقي لـ .....

( البحر المتوسط - الخليج العربي - البحر الأحمر - خليج عدن )

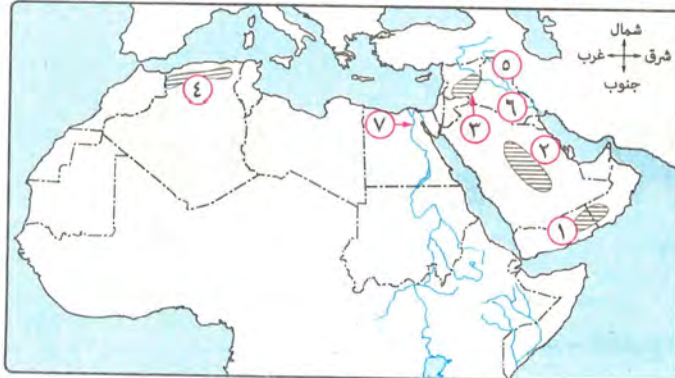
- (١٠) يظهر أثر الحركات الانكسارية في الجناح العربي الأفريقي في الجهات .....  
 (الشرقية - الغربية - الجنوبية - الشمالية)
- (١١) تمتد جبال البحر الأحمر بالجناح العربي الآسيوي في دولتي .....  
 (العراق وسوريا - السعودية واليمن - سوريا ولبنان - عُمان وقطر)
- (١٢) تقع هضبة الشطوط بين سلاسل جبال .....  
 (البحر الأحمر - الشام - أطلس - عُمان) منفلوط / أسبوط
- (١٣) تحصر جبال الشام عدة سهول تجرى فيها الأنهار مثل نهرى .....  
 (الليطاني والفرات - الليطاني والعاصي - دجلة والفرات - العاصي ودجلة) يوسف الصديق / الفيوم
- (١٤) تعتبر هضبة ..... من هضاب الجناح العربي الأفريقي.  
 (بادية الشام - نجد - الشطوط - حضرموت) سمنود / الغربية
- (١٥) تقع هضبة حضرموت في ..... شبه الجزيرة العربية.  
 (شمال - جنوب - شرق - وسط) أسوان

٢ أمامك خريطة للوطن العربي، اكتب مدلول الأرقام التي عليها :



- (١) جبال .....
- (٢) جبال .....
- (٣) جبال .....
- (٤) جبال .....
- (٥) جبال .....
- (٦) جبال .....
- (٧) جبال .....
- (٨) مرتفعات .....

٣ أمامك خريطة للوطن العربي، اكتب مدلول الأرقام التي عليها :



- (١) هضبة .....
- (٢) هضبة .....
- (٣) هضبة .....
- (٤) هضبة .....
- (٥) نهر .....
- (٦) نهر .....
- (٧) نهر .....



٤ أكمل العبارات الآتية بما يناسبها :

- (١) من الظواهر التضاريسية الناتجة عن التعرية الهوائية ظاهرة ..... دسوق / كفر الشيخ  
 (٢) نشأت جبال الشام نتيجة الحركات ..... التي حدثت لطبقات القشرة الأرضية.  
 (٣) تتكون جبال أطلس من مجموعة سلاسل جبلية منها ..... في الجنوب.  
 (٤) من أمثلة الواحات بالوطن العربي واحة سيوة في ..... إسن / الأقصر  
 (٥) تنقسم السهول في وطننا العربي إلى فيضية وساحلية و ..... أسوان

٥ اكتب كلمة (صواب) أمام العبارة الصحيحة، وكلمة (خطأ) أمام العبارة غير الصحيحة، مع التصويب :

- (١) تظهر الهضاب البركانية بوضوح في جنوب غرب شبه الجزيرة العربية. ( )  
 (٢) تُعتبر جبال عُمان من الجبال الالتوائية بالوطن العربي. التل الكبير / الإسماعيلية ( )  
 (٣) من أمثلة الجبال الانكسارية جبال أطلس. القصاصين / الإسماعيلية ( )  
 (٤) تُعرف جبال البحر الأحمر في السعودية بجبال كردستان وجبال زاجروس. ( )  
 (٥) تمتد هضبة نجد في وسط ليبيا. جرجا / سوهاج ( )  
 (٦) الواحات والأودية الجافة من الظواهر الطبيعية التي تتميز بها هضاب الوطن العربي. ( )  
 (٧) وادي العلاق من أمثلة الأودية الجافة في مصر. طوخ / القليوبية ( )  
 (٨) السهول المطلة على الخليج العربي من السهول الساحلية بالجناح العربي الأفريقي. ( )  
 (٩) من السهول الفيضية في الوطن العربي سهول نهرى دجلة والفرات في العراق. ( )  
 (١٠) تتميز السهول الفيضية بمصر والعراق بالتربة الخصبة لذلك ترتفع بها الكثافة السكانية. التل الكبير / الإسماعيلية ( )  
 (١١) السهول الساحلية أكثر تنوعاً في مواردها الاقتصادية من السهول الفيضية. ( )

٦ اكتب المصطلح الجغرافي الذي تشير إليه كل عبارة مما يأتي :

- (١) هضبة تمتد من جبال البحر الأحمر شرقاً إلى ساحل المحيط الأطلنطي غرباً. (.....)  
 (٢) أرض منخفضة في الصحراء يعيش بها السكان وتُربى فيها الحيوانات. نجع حمادى / قنا (.....)  
 (٣) أودية كانت تجرى بها مياه الأمطار في العصور القديمة ثم جفت. جنوب / الجزيرة (.....)  
 (٤) سهول كونتها الأنهار عن طريق ترسيب المواد العالقة بمياهها. الغردقة / البحر الأحمر (.....)

## ٧ أي من الجبال الآتية جبال انكسارية؟ وأيها جبال التوائية ...؟

- (١) جبال كُردستان. (.....) • (٢) جبال البحر الأحمر. (.....) •  
(٣) جبال لبنان. (.....) • (٤) جبال أطلس التل. (.....) •

## ٨ يم تفسر ...؟

- (١) تكوُّن الكثبان الرملية في وطننا العربي. نصر النوبة / أسوان  
.....  
(٢) تنوع تضاريس الوطن العربي. ....  
(٣) واحة سيوة أهلة بالسكان. ....  
(٤) للأودية الجافة بالوطن العربي أهمية كبيرة. أبو قرقاص / المنيا  
.....  
(٥) سهولة الحصول على المياه الجوفية من مناطق الأودية الجافة. ....  
(٦) ترتفع الكثافة السكانية في مناطق السهول الفيضية. ....  
(٧) الأهمية الاقتصادية للسهول الساحلية على البحر الأحمر والخليج العربي. سما لوط / المنيا  
.....

## ٩ ما النتائج المترتبة على ...؟

- (١) الحركات الانكسارية. ....  
(٢) حدوث الثورات البركانية في الوطن العربي. شبراخيت / البحيرة  
.....  
(٣) ترسيب المواد العالقة بمياه الأنهار على جانبيها. ....  
(٤) تنوع أشكال ومظاهر السطح في وطننا العربي. ....





١٠ دلل جغرافيًا على صحة كل عبارة مما يأتي :

(١) للحركات الالتوائية أثر على مظاهر السطح في الوطن العربي .

.....

(٢) توجد بعض المناطق الزراعية في الصحارى العربية .

.....

١١ ماذا كان يحدث إذا لم ... ؟

(١) تتعرض الصخور للتعرية الهوائية .

.....

(٢) يتأثر الجناح العربي الآسيوى بحدوث البراكين قديمًا .

.....

١٢ حدد أوجه التشابه والاختلاف بين كل من :

الخصوص / القليوبية

(١) جبال البحر الأحمر، وجبال أطلس .

.....

بليبس / الشرقية

(٢) الواحات، والأودية الجافة، مع ذكر مثال لكل منهما .

.....

(٣) السهول الفيضية، والسهول الساحلية، مع ذكر مثال لكل منهما .

.....

(٤) سهول البحر المتوسط، وسهول البحر الأحمر .

.....



أسئلة للتمييز

١٣ اختر الإجابة الصحيحة مما بين القوسين :

(١) من الظواهر التي تكونت نتيجة عمليات النحت .....

( دلتاوات الأنهار - المنخفضات - الكثبان الرملية - السهول الفيضية )

(٢) يظهر تأثير مظاهر سطح الجناح العربي الآسيوى بالثورانات البركانية في الجزء .....

( الجنوبي - الشمالى - الشرقى - الغربى ) القنطرة / الإسماعيلية

(٣) نشأت جبال الوطن العربي في الجزء الشمالى الغربى نتيجة ل.....

( حركات انكسارية - حركات التوائية - عوامل خارجية - ثورانات بركانية ) الزرقا / دمياط

(٤) تقع هضبة الشطوط في دولة .....

( تونس - المغرب - موريتانيا - الجزائر )

- (٥) يقع شرق البحر الأحمر جبال ..... ( الشام - الحجاز - أطلس - عُمان )
- (٦) أى الجبال الآتية تمتد كاملة بمحاذاة سواحل بحرية ؟ جبال .....
- ( الشام وأطلس - الشام وزاجروس - زاجروس وكردستان - كردستان والبحر الأحمر )
- (٧) أى من الظواهر التضاريسية التالية يمر بها مدار السرطان ؟ .....
- ( هضبة الشطوط - جبال أطلس - هضبة حضرموت - هضبة نجد )
- (٨) أى من الظواهر التضاريسية التالية هى الأقرب للبحر المتوسط ؟ .....
- ( هضبة نجد - هضبة الشطوط - جبال كردستان - جبال زاجروس )
- (٩) أكبر الظواهر التضاريسية مساحة فى الوطن العربى .....
- ( جبال البحر الأحمر - جبال أطلس - هضبة نجد - هضبة أفريقيا الشمالية )
- (١٠) الظاهرة التضاريسية التى توجد فى جناحى الوطن العربى الآسيوى والأفريقى معًا .....
- ( هضبة نجد - جبال كردستان - جبال البحر الأحمر - سهول نهر النيل )
- (١١) أى من الدول العربية التالية تخلو من وجود سهول فيضية ؟ دولة .....
- ( الصومال - المغرب - ليبيا - لبنان )

#### ١٤ ما تقييمك لدى مصداقية العبارة الآتية :

تعتبر هضبة اليمن من أهم الظواهر التضاريسية فى هضبة أفريقيا الشمالية ؟

.....

#### ١٥ الصورة المقابلة لجبال تقع فى شمال غرب الوطن العربى، حدد :



(١) اسم هذه الجبال.

.....

(٢) أقرب المرتفعات إليها.

.....

(٣) الدول التى تقع فيها هذه الجبال.

.....

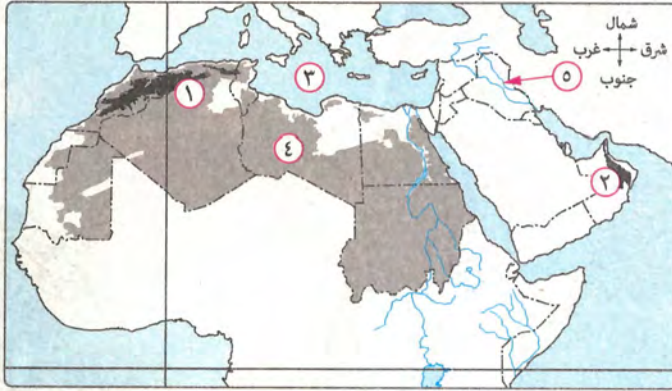
#### ١٦ حدد أوجه الشبه بين : سهول البحر المتوسط، وواحة سيوة.

.....

#### ١٧ ماذا يحدث إذا : انتظم سقوط الأمطار على جبال البحر الأحمر ؟

.....





١ (أ) أمامك خريطة للوطن

العربي، اكتب مدلول

الأرقام التي عليها :

- (١) جبال .....  
(٢) جبال .....  
(٣) مسطح مائي .....  
(٤) هضبة .....  
(٥) سهول فيضية .....

(ب) ما المقصود بكل مصطلح مما يأتي ... ؟

(١) تعرية مائية.

(٢) السهول الساحلية.

(ج) ماذا يحدث إذا لم ... ؟

(١) توجد مياه جوفية في الواحات.

(٢) يتعرض الوطن العربي لحركات انكسارية.

مصر الجديدة / القاهرة

الحسنية / الشرقية

غرب / القاهرة

٢ (أ) اختر الإجابة الصحيحة مما بين القوسين :

(١) تمتد جبال الشام على طول الساحل الشرقي لـ .....

( البحر الأحمر - البحر العربي - المحيط الهندي - البحر المتوسط )

(٢) أي من الظواهر الآتية تقع بالكامل في نصف الكرة الأرضية الغربي ؟ .....

( جبال أطلس العليا - جبال طوروس - هضبة أفريقيا الشمالية - هضبة نجد )

(ب) ما تقييمك لمدى مصداقية العبارتين التاليتين ... ؟

(١) تختلف مسميات الجبال على جانبي البحر الأحمر.

(٢) تساهم التعرية المائية والهوائية في تكوين السهول.

(ج) وضح : كيف ساهمت الحركات الالتوائية التي أصابت شمال وشمال شرق الوطن العربي في

الحفاظ على الشخصية العربية.



## ١ اخترا الإجابة الصحيحة مما بين القوسين :

- (١) نظمت قريش رحلة تجارية إلى بلاد ..... في فصل الشتاء. ( الهند - العراق - اليمن - إفريقية )
- (٢) قامت مملكة ..... في جنوب شبه الجزيرة العربية. ( معين - الحيرة - العراق - الفرس )
- (٣) وقعت ..... تحت سيطرة الفرس قبل ظهور الإسلام. ( اليمن - الشام - مصر - يثرب )
- (٤) أى مما يلي قامت في جنوب شبه الجزيرة العربية واتخذت من النظام الملكى نظامًا للحكم ؟ .....  
( الحيرة - يثرب - حمير - الغساسنة )
- (٥) نظم أهل مكة رحلة تجارية إلى بلاد الشام في فصل ..... ( الصيف - الشتاء - الخريف - الربيع )
- (٦) عرف أهل شبه الجزيرة العربية التوحيد قبل عبادة الأصنام لأن هذه المنطقة كانت .....  
( هادئة بعيدة عن الصراعات - مهد لكثير من الأنبياء - مهد للعديد من الحضارات - ذات موقع جغرافي متميز )
- (٧) ارتبط الشعر والخطابة عند العرب قبل الإسلام بالنشاط .....  
( الرعى - الصناعى - الزراعى - التجارى ) الدنجات / البحيرة
- (٨) كان الرعى أكثر الحرف انتشارًا في شبه الجزيرة العربية قبل الإسلام نتيجة .....  
( الاهتمام بالتجارة - البيئة الصحراوية - النظام القبلى - ندرة الأمطار في الجنوب )
- (٩) كانت ..... إحدى البلاد التى وقعت تحت حكم الروم قبل ظهور الإسلام.  
( مصر - العراق - اليمن - الحيرة ) المعادى / القاهرة
- (١٠) قامت في شمال شبه الجزيرة العربية مملكة .....  
( سبأ - معين - حمير - الغساسنة ) الداخلة / الوادى الجديد

## ٢ أكمل العبارات الآتية بكلمات مناسبة :

- (١) كثرت العبادات في ..... وكانوا يقدسون البقرو.....
- (٢) انتشرت الديانة ..... والديانة ..... في أجزاء قليلة من شبه الجزيرة العربية قبل ظهور الإسلام.
- (٣) بعد انتشار عبادة الأصنام في شبه الجزيرة العربية بقى القليل على الحنيفية دين سيدنا .....



- (٤) من أشهر شعراء العرب قبل ظهور الإسلام .....  
 (٥) انتشرت بعض العادات السلبيّة في شبه الجزيرة العربيّة قبل الإسلام مثل ..... و.....

### ٣ اكتب كلمة (صواب) أمام العبارة الصحيحة، وكلمة (خطأ) أمام العبارة غير الصحيحة، مع التصويب :

- (١) احتلت دولة الروم بلاد اليمن والعراق. ( )  
 (٢) تُعد مملكة الحيرة من أشهر ممالك شمال شبه الجزيرة العربيّة قبل ظهور الإسلام. ( )  
 (٣) انتشرت الديانة المسيحية بدولة الفرس. ( )  
 (٤) كانت شبه الجزيرة العربيّة مهذاً لكثير من الأنبياء. ( )  
 (٥) تنوعت الأنشطة الاقتصاديّة في شبه الجزيرة العربيّة. ( )  
 (٦) كانت مكة ويثرب أكثر مدن غرب شبه الجزيرة العربيّة شهرة قبل ظهور الإسلام. ( )  
 (٧) عرف أهل شبه الجزيرة العربيّة عبادة الأصنام قبل دين إبراهيم ﷺ. ( )  
 (٨) كانت حرفة الزراعة هي الحرفة السائدة في شبه الجزيرة العربيّة. ( )  
 (٩) انقسم المجتمع العربي قبل ظهور الإسلام إلى بدو وحضر. ( )  
 (١٠) حظيت بعض النساء بمكانة متميزة في المجتمع العربي قبل الإسلام. ( )

غرب شبرا الخيمة / القليوبية

### ٤ اكتب ما تشير إليه كل عبارة مما يأتي :

- (١) ديانة سماوية اعترفت بها الإمبراطورية الرومانية ديناً رسمياً للبلاد. (.....)  
 (٢) دولة كثرت بها العبادات الوثنيّة واحتلت العديد من دول شبه الجزيرة العربيّة قبل الإسلام. (.....)  
 (٣) نظام سياسي ساد في معظم شبه الجزيرة العربيّة قبل ظهور الإسلام. (.....) الدق / الجيزة

### ٥ بم تفسر ... ؟

- (١) كان النظام القبلي هو النظام السائد في معظم شبه الجزيرة العربيّة قبل ظهور الإسلام.  
 بنى مزار / المنيا

- (٢) المكانة التجاريّة المتميزة لأهل مكة قبل الإسلام.  
 الباجور / المنوقية

(٣) شهرة سوقى عكاظ وذى المجاز في شبه الجزيرة العربية. القرنة / الأقص

.....

(٤) حاجة العالم إلى مجيء النبي محمد ﷺ. الخارجة / الوادى الجديد

.....

٦ ما النتائج التي ترتبت على : ندرة الأمطار في شبه الجزيرة العربية ؟

.....

٧ ماذا كان يحدث إذا : لم يقم أهل مكة برحلتى الشتاء والصيف ؟

.....

٨ وضح أوجه الاختلاف بين : دولة الفرس ، ودولة الروم ، من حيث :  
\* البلاد التي احتلوها .  
\* الديانات والعبادات السائدة فيها .

.....

.....

.....

.....

٩ دلل تاريخيًا على صحة كل عبارة مما يأتي :

(١) كانت شبه الجزيرة العربية أرض الحضارات ومهدًا لكثير من الأنبياء. الخانكة / القليوبية

.....

.....

(٢) تعددت العبادات والديانات في شبه الجزيرة العربية قبل الإسلام. سمالوط / المنيا

.....

.....

(٣) اتصف العرب بالأخلاق الحميدة كما كان لديهم بعض العادات السيئة

قبل ظهور الإسلام. القوصية / أسيوط

.....

.....



## أسئلة للتمييز ؟

## ١٠ اخترا الإجابة الصحيحة مما بين القوسين :

- (١) أى من الدول الآتية استطاعت أن تسيطر على أراضى متصلة في قارات العالم القديم ؟ .....
- ( الفرس - الهند - اليمن - الروم )
- (٢) ظهرت حضارة الحيرة بدولة .....  
( مصر - اليمن - الهند - العراق )
- (٣) كانت حضارة مملكة سبأ إحدى حضارات .....  
( العراق - مصر - اليمن - الشام )
- (٤) سيطر الرومان على .....
- ( اليمن والعراق - حوض البحر المتوسط - شبه الجزيرة العربية - شرق أفريقيا )
- (٥) اتجهت الرحلات التجارية التي كانت تنظمها مكة نحو جهتي .....
- ( الشمال والغرب - الجنوب والغرب - الشمال والجنوب - الجنوب والشرق )

## ١١ اكتب كلمة (صواب) أمام العبارة الصحيحة، وكلمة (خطأ) أمام العبارة غير الصحيحة، مع التصويب :

- (١) لعب المناخ عاملاً أساسياً في تحديد اتجاه الرحلات التجارية عند تجار مكة. ( )
- (٢) تاخمت مملكتي الحيرة والغساسنة مملكتي الفرس والروم في الشمال. ( )
- (٣) حقق أهل شبه الجزيرة العربية الاكتفاء الذاتي من المحاصيل الزراعية. ( )
- (٤) لعبت مكة دور الوسيط التجاري بين شمال و جنوب شبه الجزيرة العربية قبل الإسلام. ( )

## ١٢ دلل تاريخياً على صحة كل عبارة مما يأتي :

- (١) سيطر الفرس على مناطق عربية متباعدة من شبه الجزيرة العربية قبل ظهور الإسلام.  
.....
- (٢) كان هناك علاقات تجارية بين أهل مكة والإمبراطورية الرومانية.  
.....

## ١٣ حدد : أوجه التناقض بين أخلاق العرب قبل الإسلام، وبعض العادات التي انتشرت بينهم. قوص / قنا

.....



### ١ (١) اكتب ما تشير إليه كل عبارة من العبارات الآتية :

غرب / القاهرة

- (١) عبادة الله الواحد الأحد على دين سيدنا إبراهيم عليه السلام.
- (٢) أشهر أسواق العرب بشبه الجزيرة العربية قبل ظهور الإسلام.
- (٣) من أشهر قبائل العرب قبل الإسلام وكانت تسكن مكة.
- (٤) أقل الحرف التي مارسها أهل شبه الجزيرة العربية قبل الإسلام.

### (ب) دلل تاريخياً على صحة العبارة التالية :

تعددت حضارات وممالك ودول شبه الجزيرة العربية قبل ظهور الإسلام.

### (ج) ماذا كان يحدث إذا :

غرب المنصورة / الدقهلية

اقتصرت الأسواق عند العرب قبل الإسلام على التجارة ؟

### ٢ (١) اختر الإجابة الصحيحة مما بين القوسين :

- (١) كثرت العبادات الوثنية قبل ظهور الإسلام في دولة .....  
( الروم - مصر - الشام - الفرس )
- (٢) احتلت دولة الروم قبل ظهور الإسلام بعض البلاد مثل .....  
( الشام - العراق - اليمن - الهند )
- (٣) ظهر النظام الملكي في الحكم ببعض مناطق شبه الجزيرة العربية في .....  
( الشمال والغرب - الجنوب والغرب - الشمال والشرق - الجنوب والشمال )
- (ب) حدد سبب : سيادة حرفة الرعي في شبه الجزيرة العربية.

### (ج) صحح الخطأ في كل عبارة مما يأتي :

- (١) لعب أهل يثرب دور الوسيط التجاري بين العرب وجيرانهم.
- (٢) استطاعت الهند إخضاع بلاد العراق تحت حكمها قبل ظهور الإسلام.





## ١ اخترا الإجابة الصحيحة مما بين القوسين :

- (١) توفي والد الرسول ﷺ أثناء عودته من رحلة تجارية قادمة من .....
- ( الشام - اليمن - العراق - مصر )
- (٢) أى من المدن الآتية دُفن بها والد الرسول ﷺ ؟ .....
- ( مكة - يثرب - الطائف - الحيرة )
- (٣) حاول أبرهة الحبشى هدم الكعبة ليوجه العرب إلى زيارة كنيسته التى أنشأها فى .....
- ( مصر - الشام - اليمن - العراق ) الدلجات / البحيرة
- (٤) كفل الرسول ﷺ بعد وفاة أمه .....
- ( عبدالله - أبوطالب - عبدالمطلب - العباس )
- (٥) أولى الحرف التى عمل بها الرسول ﷺ ليساعد عمه حرفة .....
- ( التجارة - الصناعة - الرعى - الزراعة )
- (٦) خرج الرسول ﷺ تاجرًا بمال السيدة خديجة إلى .....
- ( العراق - الشام - اليمن - مصر )

## ٢ اكتب كلمة (صواب) أمام العبارة الصحيحة، وكلمة (خطأ) أمام العبارة غير الصحيحة، مع التصويب :

- (١) عُرف العام الذى ولد فيه الرسول ﷺ بعام الفيل. ( )
- (٢)  يمتد نسب الرسول ﷺ إلى إسماعيل بن إبراهيم عليه السلام. ( )
- (٣) مكث الرسول ﷺ فى دياربني سعد ثلاث سنوات. ( )
- (٤) بعد وفاة أبوطالب عم الرسول ﷺ تولى تربيته جده عبدالمطلب. ( )
- (٥) كان أكثر العرب فصاحة للسان قبل الإسلام هم أهل الحضر. ( )
- (٦) اكتسب الرسول ﷺ الكثير من الصفات من عمله فى حرفة الرعى. ( )
- (٧) عمل الرسول ﷺ فى شبابه بأكثر من حرفة. ( )
- (٨)  عُرف الرسول ﷺ فى شبابه بالصادق الأمين. ( )
- (٩) أنجبت السيدة خديجة من الرسول ﷺ ولدين وأربع بنات. ( )

## ٣ من هو ... ؟

- (١) طاف بالرسول ﷺ حول الكعبة وسماه محمد. (.....)
- (٢) مرضعة الرسول ﷺ التى أقام عندها أربع سنوات. (.....)
- (.....) العجوزة / الجيزة

- (٣) والد الرسول ﷺ وتوفي أثناء عودته من رحلة تجارية. (.....)
- (٤) الغلام الذي أرسلته السيدة خديجة مع النبي ﷺ إلى بلاد الشام ليتاجر بمالها. القصاصين / الإسماعيلية (.....)

٤ **بم تفسر ... ؟**

- (١)  تسمية العام الذي ولد فيه الرسول ﷺ بعام الفيل. نقادة / قنا
- (٢) قيام عبدالمطلب بتسمية الرسول ﷺ محمداً.
- (٣)  إرسال الرسول ﷺ إلى ديار بني سعد بالبادية. قطور / الزريبة
- (٤)  حرص السيدة خديجة على أن يتاجر الرسول ﷺ بمالها.

٥ **ما النتائج التي ترتبت على ... ؟**

- (١) محاولة أبرهة الحبشي هدم الكعبة.
- (٢) عمل النبي ﷺ في طفولته برعى الأغنام. منوف / المنوفية
- (٣) عُرف محمد ﷺ في شبابه بالأمانة والصدق. أسوان

٦ **دلل تاريخياً على صحة العبارة التالية :**

- لم يرض الرسول ﷺ أن يكون عبناً على عمه رغم صغر سنه. الخصوص / القليوبية





٧ رتب الأحداث التاريخية الآتية من القديم إلى الحديث :

- (.....) خروج الرسول ﷺ في رحلة للتجارة لبلاد الشام.
- (.....) إرسال الرسول ﷺ إلى ديار بنى سعد في البادية.
- (.....) زواج الرسول ﷺ من السيدة خديجة.
- (.....) وفاة جد الرسول ﷺ.

٨ حدد الدروس المستفادة من : حياة محمد ﷺ في بيت عمه.

.....

.....

.....

٩ املأ بطاقة التعريف الآتية في ضوء فهمك للدرس :

**البطاقة المحمدية**

\* الاسم : .....

\* الأسم : .....

\* الأب : .....

\* الأم : .....

\* الجد : .....

\* القبيلة : .....

\* المرضعة : .....

\* تاريخ الميلاد : .....

\* مكان الميلاد : .....

\* أزواجه الأولى : .....

\* أبناؤه من زوجته الأولى : .....

(١) .....

(٢) .....

(٣) .....

(٤) .....

(٥) .....

(٦) .....

\* الجرفة الأولى التي عمل بها : .....

\* الجرفة الثانية التي عمل بها : .....

## أسئلة للتمييز ؟

## ١٠ اخترا الإجابة الصحيحة مما بين القوسين :

- (١) تعرضت مكة عام ٥٧٠ م لغزو خارجي من جهة ..... ( الشمال - الجنوب - الشرق - الغرب )  
 (٢) دفن والد الرسول ﷺ بإحدى المدن المشهورة في شبه الجزيرة العربية قبل الإسلام  
 والتي تقع ..... ( شمال مكة - جنوب مكة - شرق مكة - غرب مكة )

## ١١ ما العلاقة بين : مكة قبل الإسلام، وبلاد اليمن ؟

## ١٢ ما تقييمك لمدى مصداقية كل عبارة مما يأتي ... ؟

- (١) يرجع فشل حملة أبرهة الحبشي على مكة إلى قوة قبيلة قريش العسكرية.

- (٢) أثرت الأنشطة الاقتصادية التي مارسها الرسول ﷺ منذ صغره في تحديد بعض سماته الشخصية.



؟

جديد

امتحان  
بعد كل درس





### ١ (١) اختر الإجابة الصحيحة مما بين القوسين :

- (١) عمل والد الرسول ﷺ في مجال .....
- ( الزراعة - الرعى - التجارة - الصناعة )
- (٢) أقام عندهم محمد ﷺ في طفولته أربعة أعوام كانت خير وبركة عليهم .....
- ( أهل يثرب - أهل اليمن - قبيلة بني سعد - قبيلة بني هاشم )
- (٣) تحمل مسئولية الرسول ﷺ وهو في السادسة من عمره .....
- ( أبو طالب - عبدالمطلب - ميسرة - عبدالله )
- (٤) دُفن عبدالله بن عبدالمطلب بإحدى مدن شبه الجزيرة العربية والتي تقع بجهتها .....
- ( الشمالية - الجنوبية - الشرقية - الغربية )
- (٥) مارس الرسول ﷺ حرفة الرعى في طفولته مما ساعده على اكتساب بعض الصفات مثل .....
- ( الأمانة وصدق القول - الصبر وتحمل المشاق - سداد الرأي وحسن المشورة - المسئولية والتواصل مع الناس )

### (ب) بم تفسر ... ؟

- القاهرة (١) محاولة أبرهة الحبشى هدم الكعبة.
- أسيوط (٢) لقب الرسول ﷺ بالصادق الأمين.

### ٢ (١) دلل تاريخياً على صحة العبارة التالية :

الفشن / بنى سويف اكتسب الرسول ﷺ العديد من الصفات من حياته بالبادية.

### (ب) من يكون ... ؟

- حدائق القبة / القاهرة (١) أول زوجة تزوجها الرسول ﷺ.
- (٢) عمل محمد ﷺ في طفولته برعى الأغنام ليخفف العبء عنه.
- (٣) قام بتسمية الرسول ﷺ محمداً.





## الدرس ١

تذكر فهم تطبيق تحليل تقييم وإبتكار

# تَدْرِب

### تدريبات الكتاب المدرسي

- ١ اكتب كلمة (صواب) أمام العبارات الصحيحة، وكلمة (خطأ) أمام العبارات غير الصحيحة مع التصويب:
- ( أ ) يحد وطننا العربي من الشمال البحر الأحمر وجبال طوروس. ( )
- ( ب ) يبلغ عدد دول الوطن العربي بالجناح الآسيوي تسع دول، وبالجناح الإفريقي اثنتي عشرة دولة. ( )
- ( ج ) تقع جزر القمر في المحيط الهندي شمال دائرة الاستواء. ( )
- ( د ) يطل وطننا العربي على أربع أزرع مائية مهمة. ( )
- ( هـ ) قامت على أرض الوطن العربي العديد من الحضارات منها الحضارة المصرية وحضارة بلاد العراق القديم. ( )

### ٢ ما النتائج المترتبة على ... ؟

( أ ) الموقع الجغرافي للوطن العربي.

( ب ) تحكم الوطن العربي في ممرات مائية مهمة.

( ج ) امتداد حدود الوطن العربي مع ظاهرات طبيعية.

### ٣ بم تفسر ... ؟

( أ ) الأهمية الاستراتيجية للوطن العربي.

( ب ) للوطن العربي مكانة دينية مهمة.

( ج ) تقسيم الوطن العربي إلى دول مختلفة المساحة.

( د ) الأهمية الحضارية للوطن العربي.

## الدرس الأول



## أضواء على الدرس

### أهم مفاهيم الدرس

الموقع بالنسبة للماء واليابس.

الموقع الجغرافي

الموقع بالنسبة لدوائر العرض وخطوط الطول.

الموقع الفلكي

الأهمية وقت الحرب والأزمات والسلم.

الأهمية الاستراتيجية

### وطئنا العربي (الموقع والمساحة)



### الموقع الفلكي

يقع بين:

- خطي طول: ٦٠ شرقاً، ١٧ غرباً
- دائرتي عرض (٣٧٣٠ شمالاً، ٢ جنوباً)
- جزر القمر (تقع عند تلاقي دائرة عرض ١٢ جنوباً وخط طول ٤٤ شرقاً)

### المساحة

• تبلغ المساحة نحو ١٣ مليون كم<sup>٢</sup>.

### عدد الدول العربية

- ٢٢ دولة تنقسم إلى:
- ١٢ دولة عربية آسيوية.
- ١٠ دول عربية إفريقية.

### أهمية موقع الوطن العربي

#### استراتيجياً

- يسيطر على قناة السويس
- وعدة مضائق تتحكم في طرق الملاحة العالمية.

#### اقتصادياً

- تنوع موارده الاقتصادية.
- وجود البترول والغاز الطبيعي في أراضيه.
- يتحكم في ٤ ممرات مائية:
- مضيق جبل طارق.
- مضيق باب المندب.
- مضيق هرمز.
- قناة السويس.

#### حضارياً

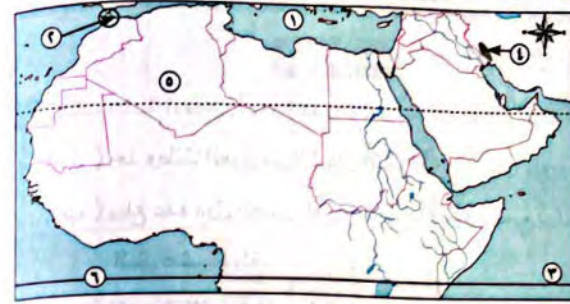
- قامت على أرضه الحضارات القديمة
- (المصرية القديمة، اليمن، بلاد الشام، العراق القديم).

#### دينيًا

- مهد الديانات السماوية الثلاث.
- به المزارات الدينية والأماكن المقدسة مثل:
- مسجد قبة الصخرة وكنيسة المهدي في فلسطين.
- الكعبة المشرفة في السعودية.



٤ أملك خريطة صماء للوطن العربي، اكتب مدلول الأرقام الموقعة عليها:



- ١- البحر.....
- ٢- مضيق.....
- ٣- المحيط.....
- ٤- جبال.....
- ٥- دولة.....
- ٦- دائرة عرض رئيسية.....

### تدريبات الأضواء

#### السؤال الأول

أكمل العبارات التالية بالكلمات المناسبة:

- ١) تمتد أراضي الوطن العربي في قارتين هما إفريقيا و..... (آسيا) (٢٠١٨)
- ٢) تقع دولة..... عند تقاطع دائرة عرض ١٢° جنوباً وخط طول ٤٤° شرقاً. (القطبية) (٢٠١٩)
- ٣) يمر داخل الوطن العربي دائرتا عرض رئيسيتان هما دائرة الاستواء و.....
- ٤) يصل مضيق جبل طارق بين البحر المتوسط و..... (الأصفر) (٢٠١٩)
- ٥) تشرف دولة المغرب على مضيق..... (سوحاح) (٢٠١٨)
- ٦) من المشكلات السياسية في الوطن العربي مشكلة جنوب السودان و..... (الشرقية) (٢٠١٩)

#### السؤال الثاني

ما المقصود بالمصطلحات الجغرافية الآتية...؟

- ١) الموقع الفلكي..... (البحر) (٢٠٢٣)
- ٢) الموقع الجغرافي..... (كفر الشيخ) (٢٠٢٠)

#### السؤال الأول

اكتب كلمة (صواب) أمام العبارة الصحيحة، وكلمة (خطأ) أمام العبارة غير الصحيحة مع التصويب:

- ١) الدولة الوحيدة التي تقع خارج الموقع الفلكي للوطن العربي هي جزر القمر في المحيط الهندي. (الإسماعيلية) (٢٠٢٣)
- ٢) يقع الوطن العربي في وسط العالم الجديد. (الشرقية) (٢٠٢٣)

المستوى الثاني

- ٣) كل الدول العربية تمتلك سواحل تطل على البحار أو المحيطات. ( )
- ٤) ساعدت الحدود الطبيعية للوطن العربي على الاحتفاظ بشخصيته المميزة بين الأمم. (بورسعيد) (٢٠٢٢)
- ٥) تطل دولة المغرب على ساحل المحيط الأطلنطي فقط. (القاهرة) (٢٠٢٢)
- ٦) دولة الإمارات العربية المتحدة من الدول العربية الإفريقية. (العربية) (٢٠٢٢)
- ٧) تعد الأردن من الدول العربية الإفريقية. (دمياط) (٢٠٢٠)
- ٨) يقع مضيق هرمز تحت إشراف عربي خالص. (القاهرة) (٢٠٢٢)
- ٩) قناة السويس قناة عربية خالصة. ( )
- ١٠) مشكلة سبتة ومليلية من المشكلات الاقتصادية في الجناح الإفريقي. (القطبية) (٢٠٢٢)

المستوى الثاني

#### السؤال الثاني

اختر الإجابة الصحيحة مما بين الأقواس:

- ١) توجد قبة الصخرة في دولة..... (سوريا - لبنان - فلسطين - السعودية) (لبنان) (٢٠٢٣)
- ٢) يحد الوطن العربي غرباً المحيط..... (الهندي - الأطلنطي - الهادي - القطبي) (القطبي) (القاهرة) (٢٠٢٠)
- ٣) يمر في جنوب الوطن العربي..... (دائرة الاستواء - مدار السرطان - مدار الجدي - الدائرة القطبية)
- ٤) من الدول العربية في الجناح الآسيوي..... (الصومال - موريتانيا - العراق - المغرب) (القطبية) (٢٠٢٠)
- ٥) هذه الدول تقع في الجناح الآسيوي عدا دولة..... (الأردن - اليمن - عمان - جيبوتي) (العربية) (٢٠٢٢)
- ٦) يبلغ عدد الممرات المائية التي يتحكم فيها الوطن العربي..... ممرات. (ثلاثة - أربعة - خمسة - ستة) (الأصفر) (٢٠١٩)
- ٧) يربط بين البحر الأحمر والمحيط الهندي مضيق..... (باب المندب - هرمز - جبل طارق - قناة السويس) (كفر الشيخ) (٢٠١٩)
- ٨) يصل مضيق..... بين الخليج العربي وخليج عُمان. (باب المندب - هرمز - جبل طارق - ماجلان) (قناة) (٢٠١٨)
- ٩) يشرف الوطن العربي على كل المضائق الآتية ما عدا..... (مضيق باب المندب - مضيق جبل طارق - مضيق هرمز - مضيق الدردنيل) (القاهرة) (٢٠١٩)
- ١٠) الممر المائي الذي تطل عليه دولة عربية واحدة من الجانبين هو..... (جبل طارق - باب المندب - هرمز - قناة السويس) (الإسماعيلية) (٢٠٢٢)

المستوى الثاني



١١) من المشكلات السياسية في الجناح الآسيوي مشكلة .....

(دارفور - سبتة - فلسطين - جنوب السودان) (بن سويف ٢٠٢٢)

١٢) من المدن المغربية التي مازالت تحت سيطرة دولة إسبانيا .....

(الدار البيضاء - الرباط - مليلة - أغادير) (القبوينة ٢٠٢٣)

السؤال الثالث

صوب الكلمات التي تحتها خط في العبارات التالية:

١) يتحكم في مضيق هرمز دولتا المغرب وإسبانيا.

٢) الدولة العربية التي تشرف على مضيق هرمز دولة اليمن.

٣) وجود البترول والغاز الطبيعي في الوطن العربي أعطاه أهمية حضارية.

٤) قامت على أرض الوطن العربي حضارة بلاد اليونان.

(القاهرة ٢٠١٩)

السؤال الرابع

اكتب المصطلح الجغرافي الذي تشير إليه العبارات الآتية:

١) مضيق يصل بين المحيط الأطلنطي والبحر المتوسط.

(الشيخا ٢٠١٨)

٢) الأهمية وقت الحروب والأزمات والسلام.

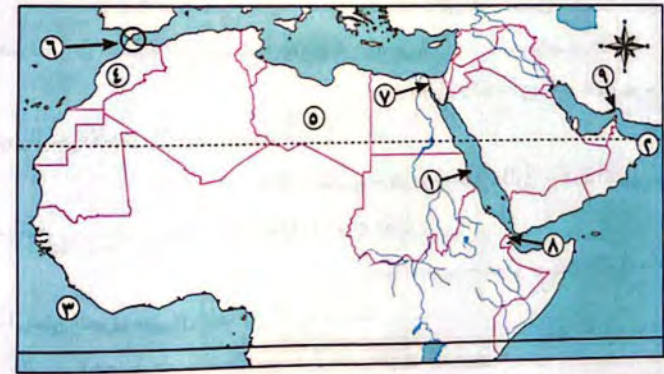
(القاهرة ٢٠٢٠)

٣) مكان مقدس أعطى للوطن العربي أهمية دينية ويقع في

مكة بالسعودية. (.....)

السؤال الأول

١) أمامك خريطة صماء للوطن العربي، اكتب ما تدل عليه الأرقام:



١) البحر ..... ٢) خليج ..... ٣) المحيط ..... ٤) دولة ..... ٥) دولة .....

٦) مضيق ..... ٧) قناة ..... ٨) مضيق ..... ٩) مضيق .....

السؤال الثاني

استخرج الاسم غير المناسب في كل مجموعة من المجموعات الآتية مع ذكر السبب:

١) اليمن - الصومال - عمان - السعودية ..... (الفيوم ٢٠٢٠)

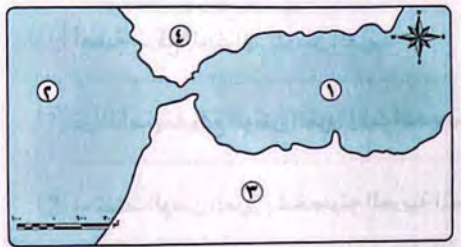
٢) موريتانيا - جزر القمر - الأردن - جيبوتي .....

٣) مصر - اليمن - المغرب - موريتانيا ..... (الإسفاغيلية ٢٠٢٢)

٤) البحر الأحمر - البحر المتوسط - البحر الأسود - البحر العربي .....

٥) مشكلة دارفور - مشكلة سبتة ومليلة - مشكلة فلسطين - مشكلة جنوب السودان .....

(ب) أمامك خريطة صماء لمضيق جبل طارق، اكتب ما تدل عليه الأرقام:



١) البحر .....

٢) المحيط .....

٣) دولة .....

٤) دولة .....

(ج) أمامك خريطة صماء لمضيق باب المندب، اكتب ما تدل عليه الأرقام:



١) دولة .....

٢) البحر .....

٣) خليج .....

٤) دولة .....

(د) أمامك خريطة صماء لمضيق هرمز، اكتب ما تدل عليه الأرقام:



١) دولة .....

٢) خليج .....

٣) الخليج .....

٤) دولة .....



### السؤال الأول بهم تفسر...؟

(الوادي الجديد ٢٠٢٠)

١ أهمية الموقع الجغرافي للوطن العربي.

٢ تزداد أهمية موقع الوطن العربي وقت الحروب والصراعات الدولية.

(الإسماعيلية ٢٠٢٠)

٣ احتفاظ الوطن العربي بشخصيته العربية المميزة بين الأمم.

(العربية ٢٠٢٣)

٤ تنوع الموارد الاقتصادية للوطن العربي.

(العربية ٢٠٢٢)

٥ تحكّم الوطن العربي في طرق التجارة.

(الغزة ٢٠٢٢)

٦ تعرض الوطن العربي للاستعمار الأوربي.

(المنوفية ٢٠٢٣)

٧ النزاع على الحدود بين الدول العربية.

### السؤال الثاني ما النتائج المترتبة على...؟

(الشرقية ٢٠١٩)

١ وجود الأماكن المقدسة بالوطن العربي.

(الإسماعيلية ٢٠٢٣)

٢ الأهمية الاستراتيجية للوطن العربي.

٣ تعرض الوطن العربي للاستعمار الأوربي.

### السؤال الثالث ماذا يحدث إذا...؟

(العربية ٢٠٢٢)

١ كانت حدود الوطن العربي مع ظواهر مصنعة.

(الشرقية ٢٠٢٣)

٢ لم يتعرض الوطن العربي للاستعمار الأوربي.

(المنوفية ٢٠٢٣)

٣ لم توجد أماكن مقدسة في الوطن العربي.

### السؤال الرابع دلل جغرافياً على صحة العبارتين الآتيتين:

١ تتوافر في الوطن العربي عوامل وحدته.

٢ تعرض الوطن العربي للعديد من المحاولات الاستعمارية من الدول الأوربية الكبرى.

### السؤال الخامس قارن بين:

١ مضيق هرمز ومضيق باب المندب من حيث (الدول التي تشرف عليه، المسطحات المائية التي يصل بينها).

وجه المقارنة	مضيق هرمز	مضيق باب المندب
الدول التي تشرف عليه	.....	.....
المسطحات المائية التي يصل بينها	.....	.....

٢ قناة السويس ومضيق جبل طارق من حيث (الدول التي تشرف عليه، المسطحات المائية التي يصل بينها).

وجه المقارنة	قناة السويس	مضيق جبل طارق
الدول التي تشرف عليه	.....	.....
المسطحات المائية التي يصل بينها	.....	.....

### مستوى القمة

#### السؤال الأول اختر الإجابة الصحيحة من بين (١)، (ب)، (ج)، (د):

١ الدولتان العربيتان اللتان تقعان في النصف الغربي من الكرة الأرضية هما ..... (بورسعيد ٢٠٢٣)

(أ) المغرب وتونس. (ب) المغرب والجزائر.

(ج) الجزائر وموريتانيا. (د) المغرب وموريتانيا.

٢ تم دائرة مدار السرطان بجنوب دولة ..... بالوطن العربي. (بورسعيد ٢٠٢٣)

(أ) مصر. (ب) اليمن. (ج) الصومال. (د) موريتانيا.

٣ الوطن العربي بالكامل يقع في شرق المحيط ..... (بورسعيد ٢٠٢٣)

(أ) الهادي. (ب) الهندي. (ج) القطبي. (د) الأطلنطي.

٤ وجود البترول في الوطن العربي أعطاه له أهمية ..... (القاهرة ٢٠٢٣)

(أ) دينية. (ب) اقتصادية. (ج) سياحية. (د) حضارية.



(الشرق الأوسط)

٥ تقع دولة ..... بأكملها في الخليج العربي .

( أ ) جزر القمر ( ب ) العراق ( ج ) البحرين ( د ) المغرب

(الفاصل)

٦ من الدول العربية التي يمر بها مدار السرطان .....

( أ ) تونس ( ب ) الصومال ( ج ) البحرين ( د ) موريتانيا

٧ أى من المسطحات المائية التالية يعد فاصلاً بين الجناح العربي الإفريقي والجناح العربي الآسيوي؟

(الأضواء الشمالية)

( أ ) الخليج العربي ( ب ) خليج عمان ( ج ) البحر المتوسط ( د ) البحر الأحمر

٨ تنتمي حضارة بلاد ما بين النهرين إلى حضارات الجناح العربي .....

( أ ) الإفريقي ( ب ) الآسيوي ( ج ) الأفروآسيوي ( د ) الأوربي

٩ إذا سافرت من ميناء بورسعيد إلى السعودية، فأى ممر من الممرات المائية التالية ستعبره؟

( أ ) مضيق جبل طارق ( ب ) قناة السويس

( ج ) مضيق باب المندب ( د ) مضيق هرمز

(الغربية)

١٠ أقصى امتداد ليابس الوطن العربي غرباً ينتهي مع سواحل .....

( أ ) السودان ( ب ) المغرب ( ج ) موريتانيا ( د ) الجزائر

(كفر الشيخ)

١١ تتميز بعدم الترابط بين أجزائها دولة .....

( أ ) السعودية ( ب ) سلطنة عمان ( ج ) العراق ( د ) الأردن

(كفر الشيخ)

١٢ المنفذ البحري الوحيد لسفن دولة الأردن يقع على خليج .....

( أ ) السويس ( ب ) العقبة ( ج ) العربي ( د ) عمان

**السؤال الثاني ما العلاقة بين...؟**

١ موقع الوطن العربي والأديان السماوية.

٢ المسطحات المائية والأهمية الاستراتيجية للوطن العربي.

٣ الاستعمار الأوربي وتقسيم الوطن العربي.

(الغربية)

**السؤال الثالث ما رأيك في العبارة التالية...؟**

- لموقع وطننا العربي أهمية دينية كبرى.

(بورسعيد ٢٠٢٣)

**السؤال الرابع اكتب ما تشير إليه العبارة التالية:**

- دولة عربية يمر بسواحلها خط طول ٦٠ شرقاً. (.....) (الدمياطية ٢٠٢٣)

**السؤال الخامس اكتب كلمة (صواب) أمام العبارة الصحيحة، وكلمة (خطأ) أمام العبارة غير الصحيحة**

مع التصويب:

١ يقترب اليابس العربي من اليابس الأوربي عند مضيق باب المندب. ( ) (المنوفية ٢٠٢٣)

٢ أقصى امتداد للوطن العربي شمالاً يوجد في الجناح العربي الآسيوي. ( ) (كفر الشيخ ٢٠٢٣)

**السؤال السادس تخيل أنك سافرت في سفينة بحرية من ميناء الإسكندرية في مصر إلى دولة**

**موريتانيا الشقيقة. في ضوء العبارة السابقة وضع الآتي:** (الإسماعيلية ٢٠٢٣، القليوبية ٢٠٢٣)

١ اسم المسطحين المائيين اللذين تسير فيهما السفينة. (.....)

٢ اسم المضيق الذي ستعبره السفينة. (.....)

٣ الدولة غير العربية التي تشرف على هذا المضيق. (.....)

**السؤال السابع ما مدى مصداقية العبارة الآتية:** «يعانى الوطن العربي من مشكلات سياسية في

جناحيه الآسيوي والإفريقي»؟

**السؤال الثامن ماذا يحدث إذا...؟ اختفى البحر الأحمر من الوطن العربي.**

(كفر الشيخ ٢٠٢٠)

**السؤال التاسع ما تقييمك للعبارة الآتية...؟ لعبت الحدود الشمالية للوطن العربي دورين متناقضين.**

(بورسعيد ٢٠٢٣)





(١) أمامك خريطة صماء للوطن العربي، اكتب ما تدل عليه الأرقام:



السؤال الأول

- ١ البحر.....
- ٢ مضيق.....
- ٣ دولة.....
- ٤ المحيط.....

(ب) اختر الإجابة الصحيحة مما بين الأقواس:

- ١ من دول الجناح الإفريقي ..... (الكويت - اليمن - موريتانيا - عُمان)
- ٢ تقع دولة ..... في المحيط الهندي جنوب دائرة الاستواء.
- ٣ الدولة العربية الوحيدة التي تقطعها دائرة الاستواء هي .....

(السودان - موريتانيا - الصومال - جيبوتي) (كفر الشيخ ٢٠٢٢)

السؤال الثاني (١) اكتب كلمة (صواب) أمام العبارة الصحيحة، وكلمة (خطأ) أمام العبارة غير

الصحيحة مع التصويب:

- ١ يطل وطننا العربي على ثلاث أذرع مائية. ( )
- ٢ تمتد أراضي الوطن العربي في قارتي آسيا وأوروبا. ( )
- ٣ من المشكلات السياسية في الجناح الآسيوي للوطن العربي مشكلة فلسطين. ( )
- ٤ يربط مضيق هرمز بين البحر الأحمر والمحيط الهندي. ( )

(ب) بم تفسر...؟

١ أهمية الحدود الطبيعية للوطن العربي.

(الخبرة ٢٠٢٣)

٢ الأهمية الدينية للوطن العربي.

اختبار أقرأ - الدرس الأول - الوحدة الأولى بكتاب بنك الأسئلة والإجابات



١٠٠٩ درجات

٨٠٧ درجات

٦٠٥ درجات

٤٠١ درجات

تابع مستواك

★★★★★







تدريبات الكتاب المدرسي

اختر الإجابة الصحيحة مما بين الأقواس:

( ١ ) تقع هضبة الشطوط بين سلاسل جبال .....

(البحر الأحمر - الحجاز - عسير - أطلس).

( ب ) من الجبال الالتوائية في وطننا العربي جبال .....

(البحر الأحمر - كردستان - عسير - اليمن).

( ج ) تقع هضبة حضرموت في ..... شبه الجزيرة العربية.

( شمال - جنوب - شرق - وسط )

٢ اكتب كلمة (صواب) أمام العبارة الصحيحة، وكلمة (خطأ) أمام العبارة غير الصحيحة مع التصويب:

( ١ ) من أمثلة الجبال الانكسارية جبال أطلس. ( )

( ب ) تمتد هضبة نجد في وسط ليبيا. ( )

( ج ) تعرف جبال البحر الأحمر في السعودية بجبال كردستان وجبال زاغروس. ( )

٣ اكتب المصطلح الجغرافي الذي تدل عليه العبارات التالية:

( ١ ) سهول كونتها الأنهار عن طريق ترسيب المواد العالقة بمياهها. (.....)

( ب ) منخفضات في الصحراء يعيش بها السكان وترى فيها الحيوانات. (.....)

( ج ) أودية كانت تملؤها المياه في العصور القديمة، ثم جفت. (.....)

٤ حدد أوجه التشابه والاختلاف بين كل من:

( ١ ) السهول الساحلية والسهول الفيضية، مع ذكر مثال لكل منهما.

( ب ) الواحات والأودية، مع ذكر مثال لكل منهما.

( ج ) جبال البحر الأحمر وجبال أطلس.

مظاهر السطح في الوطن العربي

الجبال

انكسارية

١- مرتفعات البحر الأحمر: تعرف في (مصر والسودان) بجبال البحر الأحمر، وفي (شبه الجزيرة العربية) بجبال الحجاز - عسير - مرتفعات اليمن.  
٢- جبال الشام: توجد على الساحل الشرقي للبحر المتوسط، وتحتصر عدة أنهار مثل: نهر العاصي ونهر الليطاني.

التوائية

١- جبال (كردستان - زاغروس - عمان).  
٢- جبال أطلس، تمتد من الغرب للشرق في تونس والجزائر والمغرب.  
أشهر السلاسل الجبلية بها: أطلس التل وأطلس الصحراء وتحتصر بينهما هضبة الشطوط.

الهضاب

الجناح العربي الآسيوي

١- هضبة حضرموت في الجنوب.  
٢- هضبة نجد في الوسط.  
٣- هضبة بادية الشام في الشمال.

الجناح العربي الإفريقي

١- هضبة إفريقيا الشمالية: تمتد من جبال البحر الأحمر شرقاً إلى المحيط الأطلنطي غرباً ومن البحر المتوسط شمالاً إلى وسط إفريقيا جنوباً.  
٢- هضبة الشطوط من أهم مظاهر هضبة إفريقيا الشمالية.

السهول

صحراوية

١- سهول صحرية.  
٢- إرسابات رملية (الكنبات الرملية).

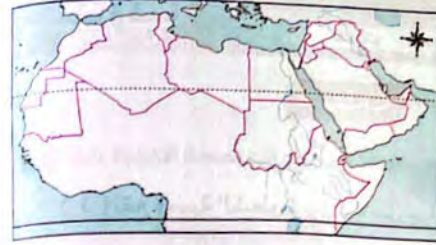
ساحلية

١- سهول صالحة للزراعة مثل سهول البحر المتوسط.  
٢- سهول يستخرج منها المعادن ومصادر الطاقة مثل سهول البحر الأحمر والخليج العربي.

فيضية

١- سهول صالحة للزراعة مثل سهول نهر النيل في مصر والسودان.  
٢- سهول دجلة والفرات في العراق.





٥ أمامك خريطة صماء للوطن العربي. حدد عليها:

- ( أ ) البحار والمحيطات التي يطل عليها وطننا العربي.
- ( ب ) المضائق التي يتحكم فيها وطننا العربي.
- ( ج ) الجبال الالتوائية.
- ( د ) الجبال الانكسارية.

### تدريبات الأضواء

السؤال الأول أخلل العبارات التالية بكلمات مناسبة:

- ١ الثورات البركانية أدت إلى ظهور الجبال والهضاب البركانية مثل هضبة ..... (الإسماعيلية ٢٠٢٠)
- ٢ تكونت السهول الصخرية بواسطة ..... (الشرقية ٢٠١٤)
- ٣ تعتبر جبال عسير من أمثلة الجبال ..... (الشرقية ٢٠١٤)
- ٤ توجد هضبة ..... بين سلاسل جبال أطلس. (بورسعيد ٢٠٢٠)
- ٥ من الواحات في الوطن العربي واحة ..... في مصر وواحة ..... في ليبيا. (المنوفية ٢٠٢٢)
- ٦ من السهول الفيضية سهول دجلة والفرات في دولة .....

السؤال الثاني أخلل الجدول التالي:

الهضاب	الجبال
هضبة ..... (٥) تقع جنوب شبه الجزيرة العربية.	جبال عمان من الجبال ..... (١) .....
من أهم الظواهر الطبيعية داخل الهضاب ..... (٦) و ..... (٧) .....	تنقسم جبال أطلس إلى ..... (٢) ..... في الشمال و ..... (٣) ..... في الجنوب.
تمتد هضبة إفريقيا الشمالية من البحر المتوسط شمالاً حتى ..... (٨) جنوباً.	تقع مرتفعات ..... (٤) ..... في اليمن.

السؤال الثالث ما المقصود بالمصطلحات الجغرافية الآتية...؟

- ١ الحركات الانكسارية ..... (قنا ٢٠٢٣)
- ٢ الحركات الالتوائية. ....
- ٣ جبال التوائية. .... (بن سويف ٢٠٢٢)
- ٤ سهل فيضى ..... (الإسماعيلية ٢٠٢٣)

### السؤال الأول

اختر الإجابة الصحيحة مما بين الأقواس:

- ١ من العوامل الباطنية التي تؤثر في تشكيل سطح الأرض ..... (التعرية المائية - التعرية الهوائية - الحركات الالتوائية - التعرية الساحلية)
- ٢ من آثار التعرية الهوائية ..... (السهول الفيضية - الأودية الجافة - الكثبان الرملية - السهول الساحلية)
- ٣ جبال عربية تمتد من الغرب إلى الشرق في عدة دول هي جبال ..... (عمان - بلاد الشام - البحر الأحمر - أطلس) (الغربية ٢٠٢٢)
- ٤ تمتد جبال الشام على الساحل الشرقي للبحر ..... (الأحمر - المتوسط - العربي - قزوين) (الإسكندرية ٢٠٢٢)
- ٥ تعرف جبال البحر الأحمر باسمها في دولتي مصر و ..... (جمهورية السودان - ليبيا - السعودية - اليمن)
- ٦ يجري في السهول التي تنحصر بين جبال الشام عدة أنهار مثل نهر ..... (الفرات - النيل - دجلة - الليطاني) (دمياط ٢٠٢٣)
- ٧ هضبة ..... من الهضاب العربية في الجناح الإفريقي. (نجد - الشطوط - حضرموت - بادية الشام) (الغربية ٢٠٢٢)
- ٨ أكبر هضاب الوطن العربي مساحة ..... (حضرموت - إثيوبيا - بادية الشام - إفريقيا الشمالية) (الفاخرة ٢٠٢٢)
- ٩ من السهول الساحلية الغنية بالثروات المعدنية ومصادر الطاقة سهول ..... (البحر المتوسط - البحر الأحمر - المحيط الأطلنطي - المحيط الهادي) (بن سويف ٢٠٢٢)
- ١٠ من السهول الساحلية في الوطن العربي الصالحة للزراعة سهول ..... (البحر الأحمر - البحر المتوسط - الخليج العربي - خليج عدن) (الشرقية ٢٠٢٢)

### السؤال الثاني

اكتب كلمة (صواب) أمام العبارة الصحيحة، وكلمة (خطأ) أمام العبارة غير الصحيحة مع التصويب:

- ١ تعرف الجبال الموازية للبحر الأحمر بالجناح الآسيوي بجبال الحجاز وعسير. ( ) (الدقهلية ٢٠٢٣)
- ٢ نشأت جبال البحر الأحمر نتيجة الحركات الالتوائية التي تعرضت لها الأرض. ( ) (بورسعيد ٢٠٢٢)
- ٣ يجري نهر الليطاني في سوريا ونهر العاصي في لبنان. ( ) (الفاخرة ٢٠٢٢)
- ٤ تعد الكثبان الرملية من آثار التعرية المائية في الوطن العربي. ( ) (كفر الشيخ ٢٠٢٠)
- ٥ أهم الأودية الجافة في الوطن العربي وادي العلاقي في مصر. ( ) (الإسماعيلية ٢٠٢٣)



- ٦ السهول الفيضية هي سهول كونتها الرياح عن طريق النحت والنقل والإرساب. ( ) (قسا ٢٠١٩)
- ٧ تتميز السهول الساحلية في الوطن العربي بتنوع الموارد والاستخدامات. ( ) (دمياط ٢٠٢٠)
- ٨ تعتبر جبال أطلس من الجبال الالتوائية. ( ) (الجيزة ٢٠١٣)
- ٩ تكونت الجبال والبحار نتيجة الحركات الالتوائية. ( ) (الشرقية ٢٠١٣)

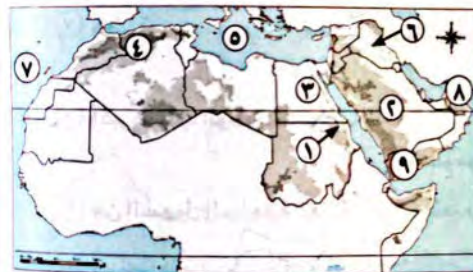
## السؤال الثالث

اكتب المصطلح الجغرافى الذى تدل عليه العبارات التالية:

- ١ تتمثل في نحت الماء للصخور ونقلها وإرسابها وينتج عنها الدالات والشواطئ. (.....) (الغربية ٢٠١٢)
- ٢ هضبة تمتد في شمال شبه الجزيرة العربية. (.....) (القليوبية ٢٠١٩)
- ٣ أرض كانت تملؤها مياه الأمطار ثم جفت. (.....) (بورسعيد ٢٠١٢)
- ٤ أرض منخفضة في الصحراء صالحة للحياة لوجود المياه الجوفية. (.....) (الغيزة ٢٠١٢)
- ٥ أرض مستوية أو شبه مستوية على شواطئ البحار والمحيطات. (.....) (الغيزة ٢٠١٣)

## السؤال الأول

(أ) أمامك خريطة صماء للوطن العربى، اكتب ما تدل عليه الأرقام:



- ١ جبال .....
- ٢ هضبة .....
- ٣ نهر .....
- ٤ هضبة .....
- ٥ البحر .....
- ٦ نهرا .....
- ٧ المحيط .....
- ٨ مضيق .....
- ٩ هضبة .....

(ب) أمامك خريطة صماء للوطن العربى،

اكتب ما تشير إليه الأرقام التى عليها:

- ١ جبال .....
- ٢ هضبة .....
- ٣ مرتفعات .....
- ٤ المحيط .....
- ٥ واحة .....
- ٦ جبال .....
- ٧ البحر .....
- ٨ جبال .....

## السؤال الثانى

فى أى الدول العربية تقع الظاهرات الجغرافية الآتية...؟

- ١ واحة الكفرة ..... (الفيوم ٢٠٢٣) ٢ جبال عسير ..... (الغيزة ٢٠٢٢)
- ٣ وادى العلاقى ..... (الفيوم ٢٠٢٣) ٤ نهرا دجلة والفرات ..... (الفيوم ٢٠٢٣)
- ٥ نهرا العاصى ..... (القليوبية ٢٠٢٠) ٦ هضبة حضرموت ..... (الغيزة ٢٠٢٢)
- ٧ جبال أطلس ..... ٨ هضبة الشطوط ..... (الغيزة ٢٠٢٢)
- ٩ هضبة نجد ..... (الغيزة ٢٠٢٢) ١٠ واحة سيوة ..... (الغربية ٢٠٢٢)
- ١١ نهرا النيل ..... (المنوفية ٢٠٢٢) ١٢ جبال الحجاز ..... (المنوفية ٢٠٢٢)

## السؤال الثالث

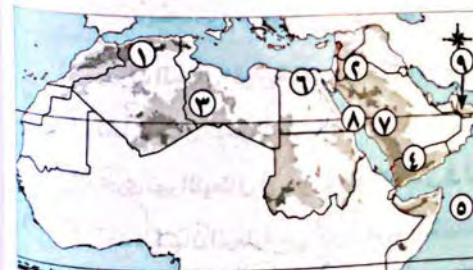
صف الظاهرات الطبيعية الآتية من حيث تكوينها:

- ١ جبال كردستان ..... (المنوفية ٢٠٢٠) ٢ جبال الشام .....
- ٣ جبال عُمان .....
- ٤ هضبة اليمن .....
- ٥ جبال أطلس ..... (الشرقية ٢٠٢٢) ٦ الدالات والشواطئ .....

## السؤال الرابع

حدد الاسم غير المناسب لمجموعته، ولماذا؟

- ١ هضبة نجد - هضبة الشطوط - هضبة حضرموت - هضبة بادية الشام. (كفر الشيخ ٢٠٢٠)
- ٢ جبال عسير - جبال البحر الأحمر - جبال الشام - جبال عُمان.
- ٣ جبال عمان - جبال البحر الأحمر - جبال أطلس - جبال كردستان. (الفيوم ٢٠٢٣)
- ٤ الكثبان الرملية - الدلتاوات - السلاسل الجبلية - الشواطئ. (بنى سويف ٢٠٢٢)
- ٥ الشطوط - أطلس - نجد - حضرموت. (الغربية ٢٠٢٢)
- ٦ التواءات - انكسارات - تعرية هوائية - براكين. (الإسماعيلية ٢٠٢٢)





## مستوى القمة



السؤال الأول اختر الإجابة الصحيحة من بين (1)، (ب)، (ج)، (د):

- ١) يرجع تكون مرتفعات غرب السعودية إلى .....  
 (أ) الحركات الالتوائية (ب) الحركات الانكسارية  
 (ج) التعرية مائية (د) التعرية الهوائية (الدقهلية ٢٠٢٣)
- ٢) تكونت الجبال التي تقع في شمال غرب الوطن العربي نتيجة .....  
 (أ) الحركات الانكسارية (ب) الحركات الالتوائية  
 (ج) الثورات البركانية (د) التعرية الهوائية (دمياط ٢٠٢٣)
- ٣) يتشابه الشمال الشرقي بالوطن العربي بشماله الغربي في .....  
 (أ) سبب نشأة الجبال (ب) نمو حشائش السافانا  
 (ج) وجود الهضاب البركانية (د) قيام الحضارات على الزراعة (بورسعيد ٢٠٢٣)
- ٤) وجود الألوان بخريطة تضاريس الوطن العربي يدل على .....  
 (أ) النبات (ب) المناخ (ج) مستوى الارتفاع (د) الزراعة (الدقهلية ٢٠٢٣)
- ٥) الظاهرة التضاريسية التي توجد في الجناح العربي الآسيوي وإفريقي معاً .....  
 (أ) هضبة نجد (ب) هضبة الشطوط  
 (ج) جبال البحر الأحمر (د) جبال زاغروس (كفر الشيخ ٢٠٢٢)
- ٦) أي من دوائر العرض الرئيسية يقطع هضبة إفريقيا الشمالية؟ .....  
 (أ) دائرة الاستواء (ب) مدار السرطان  
 (ج) مدار الجدي (د) خط جرينتش
- ٧) يرجع تكون البحر الأحمر بالوطن العربي إلى .....  
 (أ) الحركات الالتوائية (ب) الحركات الانكسارية  
 (ج) التعرية النهرية (د) التعرية الهوائية
- ٨) تتميز السهول الساحلية المطلة على سواحل تونس بصلاحياتها لـ .....  
 (أ) الزراعة (ب) التعدين  
 (ج) الصناعة (د) الرعي
- ٩) يقطع مدار السرطان كلاً من جبال الحجاز وجبال .....  
 (أ) أطلس (ب) اليمن (ج) البحر الأحمر (د) الشام

(القليوبية ٢٠٢٣)

(المنوف ٢٠٢٣)

(الجيزة ٢٠٢٠)

(الغربية ٢٠٢٢)

(الغربية ٢٠٢٢)

(الدقهلية ٢٠٢٣)

(أسوط ٢٠٢٣)

(الشرقية ٢٠٢٢)

(الشرقية ٢٠٢٢)

(كفر الشيخ ٢٠١٩)

## السؤال الأول

بم تفسر...؟

١) نشأة السهول الصحراوية.

٢) تكوين دالات الأنهار والشواطئ.

٣) أهمية الأودية الجافة في الوطن العربي.

٤) الأهمية الاقتصادية للسهول الفيضية.

## السؤال الثاني

ما النتائج المترتبة على...؟

١) تعرض الوطن العربي لحركات التوائية.

٢) حدوث الحركات الانكسارية على السواحل الشرقية للبحر المتوسط.

٣) الثورات البركانية التي تعرض لها الوطن العربي.

٤) التعرية الهوائية في الصحارى المصرية.

## السؤال الثالث

دلل جغرافياً على صحة العبارتين التاليتين:

١) تؤثر التعرية الهوائية على سطح الوطن العربي.

٢) السهول الساحلية بالوطن العربي متنوعة الموارد والاستخدام.

## السؤال الرابع

حدد أوجه التشابه والاختلاف بين كل من: - سهول نهر النيل وسهول البحر المتوسط.

وجه المقارنة	سهول نهر النيل	سهول البحر المتوسط
أوجه الشبه	.....	.....
أوجه الاختلاف	.....	.....

## السؤال الخامس

ماذا يحدث إذا...؟ - لم يتعرض الوطن العربي لحركات التوائية.

(الأضواء / قنا ٢٠٢٣)

المستوى الرابع

المستوى الرابع



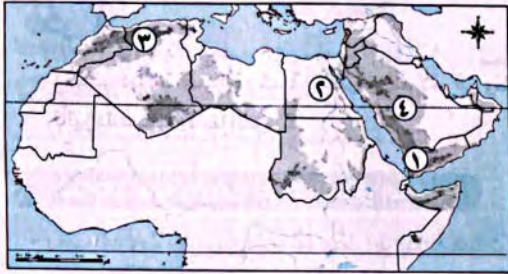


## اختبر نفسك

### الدرس الثاني

١٠

السؤال الأول (١) أمامك خريطة صماء للوطن العربي، اكتب ما تدل عليه الأرقام :



(الخريطة ٢٠٢٣)

- ١) مرتفعات .....
- ٢) نهر .....
- ٣) جبال .....
- ٤) هضبة .....

(ب) بم تفسر :

١) أهمية سهول البحر الأحمر والخليج العربي.

٢) تكون الكثبان الرملية.

(ج) ما المقصود بـ ؟ - السهول الصحراوية .....

السؤال الثاني (١) اختر الإجابة الصحيحة مما بين الأقواس:

- ١) تقع هضبة حضرموت في ..... شبه الجزيرة العربية. (شمال - جنوب - شرق - وسط)
- ٢) من أهم الواحات المنتشرة بالوطن العربي ..... بليبيا. (سيوة - الفرافرة - الكفرة - الخارجة)
- ٣) من الجبال الالتوائية في الوطن العربي جبال ..... (الشام - كردستان - البحر الأحمر - الحجاز)
- ٤) يجري في سهول جبال الشام نهر ..... (الفرات - النيل - الليطاني - دجلة)

(ب) اكتب المصطلح الجغرافي الذي تدل عليه العبارتان التاليان:

- ١) سهول تكونت بجوار البحار والمحيطات مختلفة الاتساع. (.....)
- ٢) حركات باطنية كبرى أدت إلى تكون سلاسل جبلية مرتفعة مثل جبال عمان. (.....)

(ج) دلل على صحة العبارة الآتية:

- للجبال الموازية للبحر الأحمر جهة الشرق أسماء عديدة.



اختبار آخر

اختبار الأضواء - الدرس الثاني - الوحدة الأولى بكتاب بنك الأسئلة والإجابات

١٠٩ درجات

٨٠٧ درجات

٦٠٥ درجات

٤٠١ درجات

تابع مستواك

★★★★★



ابحث وانشر

حل امتحانات آخر

حل تدريبات أكثر

داكر شرح الدرس مرة أخرى

٤٥

١٠) أنت تعيش في مصر، فأقرب الجبال الانكسارية إليك جبال .....  
(١) أطلس (ب) الشام (ج) طوروس (د) البحر الأحمر

١١) من المظاهر التضاريسية التالية التي يمر بها مدار السرطان .....  
(١) هضبة الشطوط (ب) جبال أطلس  
(ج) هضبة حضرموت (د) هضبة نجد

السؤال الثاني دلل جغرافيًا على صحة العبارة التالية: «اختلفت العوامل الباطنية التي أسهمت في

تشكيل سطح الأجزاء الجنوبية من الجناح العربي الآسيوي».

(ديماط ٢٠٢٢)

السؤال الثالث حدد الاختلاف بين:

١) سواحل البحر المتوسط وسواحل الخليج العربي.

٢) جبال عمان - جبال الشام.

(الذهبية ٢٠٢٣)

السؤال الرابع ما العلاقة بين: الأنهار والسهول الفيضية؟

(الخبرة ٢٠٢٣)

السؤال الخامس قارن بين: جنوب غرب الجناح الآسيوي وشمال غرب الجناح الإفريقي من حيث:

الجبال ونشأتها - اسم المسطح المائي الذي تطل عليه غربًا.

(الإسماعيلية ٢٠٢٢)

السؤال السادس ما مدى مصداقية العبارة الآتية؟ - «لم يتأثر الجناح الآسيوي بحدوث البراكين».

السؤال السابع من وجهة نظرك: أيهما أكثر تأثيرًا في الوطن العربي: الأشكال الناتجة عن الحركات

الانكسارية للأرض أم الأشكال الناتجة عن الحركات الالتوائية؟ مدللًا بالأمثلة.





## تدريبات الكتاب المدرسى

١ اكتب كلمة (صواب) أمام العبارة الصحيحة، وكلمة (خطأ) أمام العبارة غير الصحيحة، مع التصويب

- ( أ ) احتلت دولة الروم بلاد اليمن والعراق.  
 ( ب ) انتشرت الديانة المسيحية بدولة الفرس.  
 ( ج ) دخلت عبادة الأصنام شبه الجزيرة العربية قبل دين إبراهيم عليه السلام.  
 ( د ) كانت حرفة الزراعة هي الحرفة السائدة في شبه الجزيرة العربية.  
 ( هـ ) انقسم المجتمع العربى قديماً إلى بدو وحضر.

٢ اكمل العبارات الآتية بكلمات مناسبة مما بين القوسين:

( الميسر - الهند - دولة الفرس - البنات - الزواحف - النابغة الذبياني - الوثنية - اليهودية - المسيحية - الخمر )

( أ ) انتشرت في شبه الجزيرة العربية قبل الإسلام بعض العادات السلبيه مثل وأد..... وشرب.....

( ب ) من أشهر الشعراء العرب قبل الإسلام الشاعر.....

( ج ) كثرت العبادات في ..... وكانوا يقدسون البقر و.....

( د ) انتشرت الديانة ..... و..... في أجزاء قليلة من شبه الجزيرة العربية قبل ظهور الإسلام.

٣ بم تفسر ...؟

( أ ) المكانة التجارية المتميزة لمكة.

( ب ) شهرة سوق عكاظ وذى المجاز في شبه الجزيرة العربية.

( ج ) كان النظام القبلى هو النظام السائد في شبه الجزيرة العربية.

٤ قارن بين كل من:

- الفرس والروم من حيث الدول التي احتلتها.

وجه المقارنة	الفرس	الروم
الدول التي احتلتها	.....	.....
	.....	.....

## تدريبات الأضواء

## السؤال الأول

اكمل العبارات التالية بكلمات مناسبة:

- ١ احتلت دولة ..... بعض البلاد العربية مثل مصر وبلاد الشام قبل الإسلام. (القاهرة ٢٠٢٣)  
 ٢ كانت العراق قبل الإسلام خاضعة لدولة ..... (المنوفية ٢٠٢٢)  
 ٣ عبادة الله على دين سيدنا إبراهيم هي ..... (القاهرة ٢٠٢٢)  
 ٤ أكثر سكان شبه الجزيرة العربية عملاً بالتجارة هم أهل .....  
 ٥ قام أهل مكة برحلة الشتاء إلى ..... (قنا ٢٠٢٠)

## السؤال الثانى

اكمل الجدول التالى:

دولة الفرس	دولة الروم	دولة (ع)
احتلت العراق و ..... (١) .....	اعترفت بالديانة ..... (٣) .....	كثرت فيها العبادات مثل
كثرت العبادات ..... (٢) .....	دينياً رسمياً للبلاد.	..... (٥) .....
فيها		..... (٦) .....

## السؤال الثالث

ما المقصود بالمصطلحات الآتية...؟

- ١ الحنيفية. (بورسعيد ٢٠٢٠)  
 .....  
 ٢ المسيحية.  
 .....  
 ٣ اليهودية. (الإسكندرية ٢٠٢٢)  
 .....

## السؤال الاول

صوب ما تحته خط:

- ١ من الصناعات التي عرفها سكان شبه الجزيرة العربية صناعة الزجاج.  
 ٢ قامت مملكة معين وحمير في غرب شبه الجزيرة العربية.  
 ٣ قامت مملكة سبأ في شمال شبه الجزيرة العربية.  
 ٤ النظام السائد في شبه الجزيرة العربية هو النظام الملكى.  
 ٥ نظم أهل مكة رحلة تجارية لبلاد الشام في فصل الربيع.  
 ٦ من العادات الحسنه قبل الإسلام شرب الخمر. (المنوفية ٢٠٢٢)  
 (الشرقية ٢٠٢٣)  
 (الدقهلية ٢٠٢٣)  
 (المنيا ٢٠٢٠)



## السؤال الثاني

اختر الإجابة الصحيحة مما بين الأقواس:

- ١ أشهر القبائل العربية في مكة قبل الإسلام ..... (ثقيف - قريش - هوازن - الخزرج) (التوفيقية ٢٠٢٠)
- ٢ كان سكان مدينة ..... أكثر سكان شبه الجزيرة العربية مكانة تجارية.
- ٣ من أشهر أسواق العرب قبل الإسلام سوق ..... (يثرب - مكة - الطائف - نجران) (التوفيقية ٢٠٢٠)
- ٤ من أشهر شعراء العرب قبل الإسلام ..... (الحجاز - مدين - حمير - عكاظ)
- ٥ من العادات السيئة عند العرب قبل الإسلام ..... (مصعب بن عمير - النابغة الذبياني - عبد الله بن سبأ - علي بن أبي طالب)
- ٦ كانت الحرفة السائدة في البادية في شبه الجزيرة العربية ..... (وأد البنات - الكرم - الشجاعة - الصبر) (التوفيقية ٢٠٢٠)
- ٧ كانت الحرفة السائدة في البادية في شبه الجزيرة العربية ..... (التجارة - الزراعة - الصناعة - الرعي) (الإسكندرية ٢٠٢٠)

المستوى الثاني

## السؤال الثالث

اكتب كلمة (صواب) أمام العبارة الصحيحة، وكلمة (خطأ) أمام العبارة غير الصحيحة مما يلي مع تصويب الخطأ:

- ١ انتشرت الديانة اليهودية في أجزاء قليلة من شبه الجزيرة العربية قبل الإسلام. ( ) (الحجاز ٢٠٢٠)
- ٢ عرف أهل مكة التوحيد قبل معرفة عبادة الأصنام. ( ) (الإسكندرية ٢٠٢٠)
- ٣ من الحضارات القديمة التي قامت في شبه الجزيرة العربية قوم عاد. ( ) (التوفيقية ٢٠٢٠)
- ٤ تمتعت مكة بمكانة تجارية عظيمة. ( ) (الإسكندرية ٢٠٢٠)
- ٥ حظيت بعض النساء بمكانة عالية في المجتمع العربي مثل أم جميل. ( ) (التوفيقية ٢٠٢٠)

المستوى الثاني

## السؤال الرابع

اكتب ما تشير إليه كل عبارة من العبارات الآتية:

- ١ ديانة تدعو إلى عبادة إله واحد قبل بعثة النبي ﷺ. (.....) (التوفيقية ٢٠٢٠)
- ٢ نشاط اقتصادي تميزه أهل مكة قبل ظهور الإسلام. (.....) (التوفيقية ٢٠٢٠)
- ٣ سكان شبه الجزيرة العربية الذين سكنوا الصحراء. (.....) (الإسكندرية ٢٠٢٠)

المستوى الثاني

## السؤال الأول

حدد المختلف في المجموعات الآتية، وفسر سبب الاختلاف:

١ (معين - سبأ - حمير - الحيرة).

٢ (الشجاعة - الكرم - الأخذ بالثأر - حماية الجار).

٣ (الأصنام - الحنيفية - اليهودية - المسيحية).

## السؤال الثاني

صنف الحيوانات الآتية، إلى أي الأنبياء تنتمي؟

- ١ اليهودية. (.....)
- ٢ الحنيفية. (.....)
- ٣ المسيحية. (.....)

## السؤال الثالث

اكتب الصفة التي تشترك فيها المجموعة الآتية:

١ (لعب الميسر - شرب الخمر - الأخذ بالثأر - وأد البنات) (بني سويف ٢٠٢٢)

٢ (هود - صالح - إبراهيم - شعيب) (بني سويف ٢٠٢٢)

## السؤال الأول

بم تفسر...؟

١ كان العالم في حاجة إلى مجيء محمد ﷺ.

٢ قلة العمل بنشاط الزراعة في الجزيرة العربية قبل الإسلام.

٣ أهمية الأسواق عند العرب.

## السؤال الثاني

ما النتائج المترتبة على...؟

- موقع مكة المتميز على طريق التجارة.

## السؤال الثالث

دلل تاريخياً على صحة العبارات التالية:

١ كانت شبه الجزيرة العربية مهذاً لكثير من الأنبياء قبل مجيء محمد ﷺ.

المستوى الثالث

المستوى الرابع



٢ شبه الجزيرة العربية أرض الحضارات والممالك القديمة.

٣ كان للعرب قبل الإسلام أخلاق حميدة.

٤ انتشرت بعض العادات السيئة عند العرب قبل ظهور الإسلام.

**السؤال الرابع** ماذا كان يحدث إذا...؟

١ كثرت الأمطار يشبه الجزيرة العربية.

٢ لم يقيم أهل مكة برحلتى الشتاء والصيف.

٣ كانت مكة بعيدة عن طريق التجارة بين الشام واليمن.

**مستوى الفهم**

**السؤال الأول** اختر الإجابة الصحيحة من بين (أ) (ب) (ج) (د):

١ الأسواق في شبه الجزيرة العربية كانت لها أهمية

(أ) سياسية واجتماعية (ب) اقتصادية وسياسية

(ج) اقتصادية وثقافية (د) ثقافية واجتماعية

٢ أى من الممالك التالية كانت أقرب إلى بلاد الشام؟

(أ) معين (ب) حمير (ج) مكة (د) الحيرة

٣ أثرت الطبيعة الجغرافية في شبه الجزيرة العربية في الحياة

(أ) الدينية (ب) الثقافية (ج) الاقتصادية (د) الفنية

٤ النظام القبلي في شبه الجزيرة العربية يعد دليلاً على

(أ) وحدتهم (ب) انقسامهم (ج) تحالفهم (د) اختلافهم

٥ يرجع سبب شهرة السيدة خديجة قبل زواجها من الرسول ﷺ إلى عملها في المجال  
(أ) السياسى (ب) الثقافى (ج) الاقتصادى (د) الدعوى

**السؤال الثانى** ما مدى مصداقية العبارة التالية:

«لعبت التجارة دوراً بارزاً في الثقافة العربية قبل الإسلام»؟

**السؤال الثالث**

أثبت صحة أو خطأ العبارة التالية:

«على الرغم من وجود النظام القبلي في شبه الجزيرة العربية فإنه ساد النظام الملكى في بعض أماكنها».

**السؤال الرابع**

ما العلاقة بين...؟

١ الطبيعة الجغرافية والأنشطة الاقتصادية في شبه الجزيرة العربية قبل الإسلام.

٢ شهرة قريش والتجارة.

**السؤال الخامس**

قيم مصداقية العبارة الآتية:

«شهدت مدن الحجاز قبل الإسلام وجود حكومة مركزية».

(الدقهينة ٢٠٠٣)





## السؤال الاول

( ١ ) اختر الإجابة الصحيحة مما بين الأقواس:

- ١ اعترفت دولة الروم ب.....دينًا رسميًا للبلاد. (اليهودية - المسيحية - الوثنية - الحنيفية)
- ٢ قامت في شبه الجزيرة العربية قبل الإسلام دول وممالك مثل مملكة ..... في الشمال.  
(معين - الحيرة - يثرب - سبأ)
- ٣ خضعت اليمن قبل الإسلام لحكم.....  
(الروم - الفرس - الهند - مصر)
- ٤ من أشهر شعراء العرب قبل الإسلام.....  
(مصعب بن عمير - النابغة الذبياني - عبد الله بن سبأ - علي بن أبي طالب)

(ب) كان النظام القبلى هو النظام السائد فى شبه الجزيرة العربية). فى ضوء هذه العبارة وض ما يلى:

- ١ أسباب شهرة مكة التجارية.
- ٢ كان للعرب قبل الإسلام عادات سيئة كما كان لهم أخلاق حسنة.

## السؤال الثانى

( ١ ) اكتب كلمة (صواب) أمام العبارة الصحيحة وكلمة (خطأ) أمام العبارة غير الصحيحة

- ١ كانت الأسواق فى شبه الجزيرة العربية قبل الإسلام للتجارة فقط. ( )
- ٢ كانت حرفة الزراعة هى الحرفة السائدة فى شبه الجزيرة العربية. ( )
- ٣ تسمى ديانة إبراهيم عليه السلام بالمسيحية. ( )
- ٤ كثرت الديانات بدولة الهند فقد قدسوا البقر والزواحف. ( )

(ب) ما النتائج المترتبة على ...؟

- ندرة الأمطار فى الجزيرة العربية.

اختبار الأضواء - درس تمهيدى - الوحدة الثالثة بكتاب بنك الأسئلة والإجابات

اختبار آخر

١٠٠٩ درجات

ابحث وانظر

٨٠٧ درجات

حل امتحانات اختبار

٦٠٥ درجات

حل تدريبات أكثر

٤٠١ درجات

دكتور شرح الدرس مرة أخرى

تابع مستواك

★★★★★



١٠٠





عام ٥٧٠م، هو العام الذي حاول فيه أبرهة الحبشي هدم الكعبة فخرج بجيش يضم عددًا من القبيلة لهدمها، وهو العام الذي ولد فيه الرسول ﷺ.

## محمد (المولد والنشأة)

## شبابه

- أخلاقه: (عرفت عنه العفة والطهارة - سماه العرب الصادق الأمين)
- خرج في تجارة للسيدة خديجة ﷺ مع غلامها موسرة.
- تزوج السيدة خديجة ﷺ.
- ولدان: ولدان - ولدان
- عبدالله - القاسم.
- أربع بنات: زينب - رقية - أم كلثوم - فاطمة.

## طفولته

- في البادية: أرضعته حليلة المسدية وقد عاش في ديار بني سعد ١٤ أعوام.
- مع أمه: أقام مع أمه وتوفيت وعمه وسنت سنوات.
- مع عمه: رماه جده وتوفي وعمه ثماني سنوات.
- مع عمه: كفله عمه أبو طالب، عمل بالرعي، للتخفيف عن عمه فالتقى به: «الصبر، التواضع، الشجاعة، الرجعة، العطف».

## نسبه

- محمد بن عبد الله بن عبد المطلب وريثته نسبه إلى عدنان من ولد إسماعيل بن إبراهيم ﷺ.
- الأم: أمية بنت وهب.
- القبيلة: قريش.
- البيت: بنو هاشم.

## مولده

- ١٢ ربيع الأول ٥٧٠م (عام الفيل).
- توفي والده قبل مولده - فزع به جده وطاف به حول الكعبة.
- سماه جده محمدًا ليكون محمودًا في الأرض والسماء.



## المستلوي الأول

## تدريب

## الدرس ١

تذكر فهم تطبيق تحليل تقييم وإبتكار

## تدريبات

## الكتاب المدرسي

١ اكتب كلمة (صواب) أمام العبارة الصحيحة، وكلمة (خطأ) أمام العبارة غير الصحيحة مع التصويب:

- ( أ ) يمتد نسب الرسول ﷺ إلى إسماعيل بن إبراهيم ﷺ.
- ( ب ) مكث الرسول ﷺ في بيت حليلة السعدية ثلاث سنوات.
- ( ج ) عرف الرسول ﷺ في شبابه بالصادق الأمين.

٢ بم تفسر ...؟

( أ ) إرسال الرسول ﷺ إلى ديار بني سعد.

( ب ) تسمية العام الذي ولد فيه الرسول ﷺ بعام الفيل.

( ج ) حرص السيدة خديجة على أن يتاجر الرسول ﷺ بمالها.

## تدريبات الأضواء

أحمل العبارات التالية بكلمات مناسبة:

- ١ ولد الرسول ﷺ في الثاني عشر من شهر ربيع الأول، وسمى هذا العام بعام .....
- ٢ عمل الرسول ﷺ في صغره بحرفة .....
- ٣ أرسلت السيدة خديجة إلى الرسول ﷺ ليخرج تاجرًا بمالها إلى بلاد الشام مع غلامها .....
- ٤ أنجبت السيدة خديجة من الرسول ﷺ ولدين هما عبد الله و..... وأربع بنات هن فاطمة و..... وأم كلثوم.

## السؤال الأول

اختر الإجابة الصحيحة مما بين الأقواس:

- ١ يمتد نسب الرسول ﷺ إلى عدنان ولد ..... (إبراهيم - إسماعيل - يوسف - نوح)
- ٢ توفي والد الرسول ﷺ أثناء عودته من رحلة تجارية قادمة من ..... (الشام - اليمن - العراق - مكة) (الحجزة ٥٢٣م)



٣) خرج النبي ﷺ تاجرًا بمال خديجة مع غلامها ميسرة إلى .....

(مصر - اليمن - الشام - العراق) (الشرقية: ٢٠٢)

٤) توفيت والددة الرسول ﷺ آمنة بنت وهب وهو في سن ..... من عمره.

(الرابعة - الخامسة - السادسة - الثامنة) (الشرقية: ٢٠٣)

٥) كفل الرسول ﷺ بعد وفاة أمه آمنة بنت وهب .....

(بنو النجار - جده عبد المطلب - عمه أبو طالب - حليلة السعدية) (الغربية: ٢٠٤)

٦) ولد الرسول ﷺ بمكة يوم الإثنين الثاني عشر من شهر .....

(رمضان - ربيع الأول - محرم - ربيع آخر) (الغالبية: ٢٠٥)

### السؤال الثاني

اكتب كلمة (صواب) أمام العبارة الصحيحة، وكلمة (خطأ) أمام العبارة غير الصحيحة مما يلي مع تصويب الخطأ:

١) ولد الرسول ﷺ يتيمًا حيث مات أبوه ودفن في مكة. ( ) (الشرقية: ٢٠٦)

٢) فرح عبد المطلب وبنو هاشم جميعًا بمولد الرسول ﷺ. ( )

٣) استمر الرسول محمد ﷺ في شبابه يسعى للكسب الحلال من خلال عمله بالتجارة. ( )

٤) اكتسب الرسول ﷺ من حرفة الرعي الصبر والرحمة. ( )

٥) أنجب الرسول ﷺ من السيدة خديجة بنتين فقط. ( )

### السؤال الثالث

لمن تنسب الأعمال الآتية...؟

١) حاول هدم الكعبة عام ٥٧٠م. (.....) (أسود: ٢٠٧)

٢) فرح بمولد الرسول ﷺ وطاف به حول الكعبة وسماه محمدًا. (.....) (أسود: ٢٠٨)

٣) كفل الرسول ﷺ بعد وفاة جده عبد المطلب. (.....) (دمياط: ٢٠٩)

٤) مرضعة من بني سعد أقام عندها الرسول ﷺ وظل عندها أربع سنوات. (.....) (الجزيرة: ٢١٠)

### السؤال الأول

رتب مراحل حياة الرسول ﷺ من القديم إلى الحديث:

(.....) وفاة جد الرسول ﷺ وتولى عمه رعايته.

(.....) وفاة والددة الرسول ﷺ.

(.....) نشأة الرسول ﷺ في البادية.

(.....) ميلاد الرسول ﷺ.

(.....) زواج الرسول ﷺ من السيدة خديجة (رضي الله عنها).

(.....) وفاة والد الرسول ﷺ.

### السؤال الثاني

حدد دور كل من:

١) حليلة السعدية. (.....)

٢) عبد المطلب. (.....)

### السؤال الأول

بم تفسر...؟

١) محاولة أبرهة الحبشي هدم الكعبة. (البحيرة: ٢١١)

٢) فرح عبد المطلب بميلاد الرسول ﷺ. (.....)

٣) تسمية محمد ﷺ بهذا الاسم. (قنا: ٢١٢)

٤) كان من عادات العرب إرسال أبنائهم إلى البادية. (الغربية: ٢١٣)

### السؤال الثاني

ما النتائج المترتبة على...؟

١) عمل الرسول ﷺ بحرفة الرعي. (الغربية: ٢١٤)

٢) عرف الرسول ﷺ في شبابه بالصفات الحميدة قبل الدعوة. (الإسماعيلية: ٢١٥)





## السؤال الأول

( ١ ) اختر الإجابة الصحيحة مما بين الأقواس:

- ١) يمتد نسب الرسول ﷺ إلى ..... من ولد إسماعيل بن إبراهيم عليه السلام .  
(عدنان - قحطان - سعد - النضير)
- ٢) كان الرسول ﷺ يساعد الأغنام إذا مرضت أو أصيبت بسوء يدل هذا على .....  
(الصبر- الشجاعة- العطف- التواضع)
- ٣) مكث الرسول ﷺ عند السيدة حليلة ..... سنوات.  
(أربع - ست - ثمانى - عشر)
- ٤) توفي والد الرسول ﷺ أثناء عودته من رحلته لبلاد .....  
(الشام - مصر- اليمن - العراق)

(ب) بم تفسر...؟

- كان من عادات العرب إرسال أبنائهم إلى البادية.

## السؤال الثاني

( ١ ) صوب ما تحته خط:

- ١) كفل أبو طالب الرسول ﷺ بعد وفاة أمه.
- ٢) خرج ميسرة غلام السيدة حليلة مع الرسول للتجارة في الشام.
- ٣) حاول مسيلمة الكذاب هدم الكعبة في عام الفيل.
- ٤) توفيت والدة الرسول ﷺ وهو في عمر العاشرة.

(ب) ما النتائج المترتبة على ...؟

- عمل الرسول ﷺ بحرفة الرعي.

## اختبار آخر

اختبار الأضواء- الدرس الأول - الوحدة الثالثة بكتاب بنك الأسئلة والإجابات

درجات ١٠،٩

ابحث واينكر

درجات ٨،٧

حل امتحانات اختر

درجات ٦،٥

حل تدريبات اختر

درجات ٤،١

ذاكر شرح الدرس مرة أخرى

تابع مستواك

★★★★★



## السؤال الثالث

دلل على صحة العبارة الآتية:

رفض النبي ﷺ أن يكون عبناً على عمه.

## مستوى القصة



## السؤال الأول

اختر الإجابة الصحيحة من بين (١) ، (ب) ، (ج) ، (د):

- ١) ارتبطت تسمية العام الذي ولد فيه الرسول ﷺ بحدث .....  
(١) سياسى (ب) اقتصادى (ج) عسكري (د) دينى
- ٢) خروج الرسول ﷺ في صغره ليعمل برعى الأغنام دليل على .....  
(١) شجاعته (ب) عطفه ورحمته (ج) تحمله المسئولية (د) عدله وأمانته
- ٣) من الأحداث التي أثرت في حياة الرسول ﷺ وأكسبته معرفة التعامل مع الأشخاص على حسب طبيعتهم .....  
(١) تربيته في البادية (ب) خروجه للعمل بالتجارة (ج) عمله برعى الأغنام (د) تعبه في غار حراء
- ٤) «كان الرسول ﷺ ينام بجوار الأغنام أثناء رعيها» أى من الصفات التالية تدل عليه العبارة السابقة؟ .....  
(١) الصبر (ب) الشجاعة (ج) الرحمة (د) التواضع

## السؤال الثاني

حدد الدروس المستفادة من: حياة الرسول ﷺ في بيت عمه.

## السؤال الثالث

ما مدى مصداقية العبارة التالية؟

- هناك علاقة وطيدة بين الطبيعة الجغرافية في شبه الجزيرة العربية والصفات التي اكتسبها النبي ﷺ .

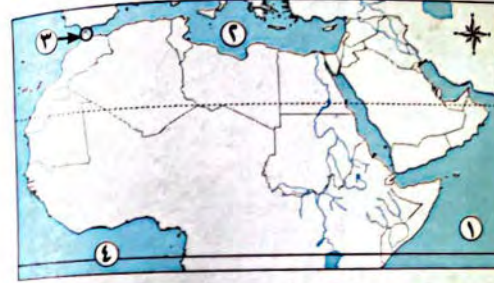
## السؤال الرابع

أعد كتابة العبارة الآتية بعد تصويب ما تحته خط.

- دفن والد الرسول ﷺ بإحدى المدن التي تقع شرق مكة.



١ (١) امامك خريطة صماء للوطن العربي، وضع ما تدل عليه الأرقام:



- ١- المحيط .....
  - ٢- البحر .....
  - ٣- مضيق .....
  - ٤- دائرة عرض رئيسية .....
- (ب) بهم تفسر...؟

١- الأهمية الاستراتيجية للوطن العربي.

٢- تقسيم الوطن العربي إلى دول مختلفة المساحة.

٢ (١) اختر الإجابة الصحيحة مما بين الأقواس:

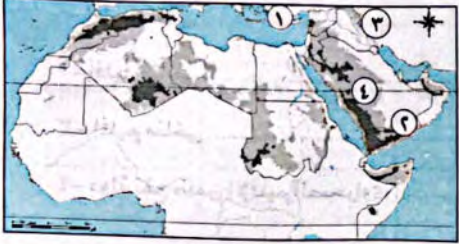
- ١- من الحضارات التي قامت بالجنح الإفريقي للوطن العربي .....  
(الحضارة المصرية القديمة - حضارات بلاد العراق - حضارة بلاد اليمن - حضارات بلاد الشام)
- ٢- الدولة العربية التي تقع خارج الامتداد الفلكي للوطن العربي هي .....  
(موريتانيا - البحرين - جزر القمر - المغرب)
- ٣- أي من الدول العربية الآتية تقع في الجنح العربي الآسيوي؟ .....  
(لبنان - السودان - تونس - المغرب)
- ٤- تعد من الدول العربية التي تشرف على مضيق باب المندب دولة .....  
(جيبوتي - عُمان - المغرب - مصر)

(ب) ما النتائج المترتبة على...؟

١- امتداد حدود الوطن العربي مع ظواهر طبيعية.

٢- تنوع الأقاليم المناخية والنباتية في الوطن العربي.

١ (١) امامك خريطة صماء للوطن العربي، اكتب ما تدل عليه الأرقام:



- ١- جبال .....
- ٢- هضبة .....
- ٣- جبال .....
- ٤- هضبة .....

(ب) ما النتائج المترتبة على...؟

- تعرض الوطن العربي لحركات التوائية.

(ج) دلل جغرافياً على صحة العبارة التالية:

- تتنوع تضاريس الوطن العربي.

٢ (١) اكتب ما تشير إليه كل عبارة من العبارات الآتية:

- ١- أودية كانت تجرى بها المياه في العصور القديمة، ثم جفت. (.....)
- ٢- أرض مستوية أو شبه مستوية تمتد على سواحل البحار والمحيطات. (.....)
- ٣- نحت الماء للصخور ونقلها وإرسابها. (.....)
- ٤- سهول كوئتها الأنهار عن طريق ترسيب المواد العالقة بمياهها. (.....)

(ب) بهم تفسر...؟

١- الأهمية الاقتصادية للسهول الساحلية في الوطن العربي.

٢- أهمية الأودية الجافة في الوطن العربي.



١ ( ١ ) اختر الإجابة الصحيحة مما بين الأقواس:

- ١- من الدول التي احتلتها الروم دولة ..... (اليمن - العراق - مصر - الهند)
- ٢- ارتبط الشعر والخطابة عند العرب قبل الإسلام بالنشاط .....  
(الزراعى - الرعوى - التجارى - الصناعى)
- ٣- نظم أهل مكة رحلة تجارية إلى بلاد الشام فى فصل .....  
(الشتاء - الربيع - الصيف - الخريف)
- ٤- أى من العبادات التالية كانت محدودة الانتشار فى شبه الجزيرة العربية قبل ظهور الإسلام؟  
.....  
(اليهودية والمسيحية - الحنيفية والأصنام - الأصنام واليهودية - الأصنام والمسيحية)

(ب) بهم تفسر ...؟

- ١- سيادة النظام القبلى سياسياً فى شبه الجزيرة العربية قبل الإسلام.

٢- كان العالم فى حاجة إلى مجيء الرسول محمد ﷺ.

٢ ( ١ ) صوب ما تحته خط:

- ١- كانت قبيلة الأوس بمكة من أشهر القبائل فى شبه الجزيرة العربية قبل الإسلام.
- ٢- تعد مملكة الغساسنة من أشهر ممالك جنوب شبه الجزيرة العربية.
- ٣- خضعت اليمن قبل الإسلام لحكم الروم.
- ٤- من أشهر شعراء العرب فى شبه الجزيرة العربية قبل الإسلام مصعب بن عمير.

(ب) دلل تاريخياً على صحة كل عبارة:

- ١- اتصف العرب قبل الإسلام بأخلاق حميدة، كما كان لديهم بعض العادات السيئة.

٢- تنوعت الحياة الاقتصادية فى شبه الجزيرة العربية قبل الإسلام.

١ ( ١ ) اكتب كلمة (صواب) أمام العبارة الصحيحة، وكلمة (خطأ) أمام العبارة غير الصحيحة

مع التصويب:

- ١- كان أشرف مكة يرسلون أبناءهم إلى الحضرة ليكتسبوا فصاحة اللسان وقوة البنيان. ( )
- ٢- عرف العام الذى ولد فيه الرسول ﷺ بعام الجماعة. ( )
- ٣- يمتد نسب الرسول ﷺ إلى إسماعيل بن إبراهيم ﷺ. ( )
- ٤- ولد الرسول ﷺ يتيمًا حيث مات أبوه ودفن فى مكة. ( )

(ب) بهم تفسر ...؟

- ١- قيام عبد المطلب بتسمية الرسول ﷺ محمداً.

٢- قيام الرسول ﷺ برعى الأغنام فى سن صغيرة.

٢ ( ١ ) إلى من تنسب الأعمال الآتية ...؟

- ١- تولى تربية محمد ﷺ بعد وفاة أمه. (.....)
- ٢- حاول هدم الكعبة عام ٥٧٠م ليصرف أنظار العرب عن زيارتها وتعظيمها. (.....)
- ٣- رافق الرسول ﷺ فى رحلة تجارية إلى بلاد الشام ليتاجر بمال السيدة خديجة رضي الله عنها. (.....)
- ٤- مرضعة الرسول ﷺ التى أقام عندها أربع سنوات. (.....)

(ب) ما النتائج المترتبة على ...؟

- ١- تمتع الرسول ﷺ بصفى الصدق والأمانة.

٢- عمل محمد ﷺ بحرفة الرعى.



## اولا الجغرافيا

- يقع وطننا العربي في قلب العالم، ويظهر ذلك واضحا في:

## الموقع الجغرافي

• يحده من الشمال جبال طوروس والبحر المتوسط، ومن الجنوب المحيط الهندي والصحراء الكبرى، ومن الشرق الخليج العربي وخليج عُمان، ومن الغرب المحيط الأطلنطي. ومن الشمال الشرقي جبال كردستان وازاجروس.

## الموقع الفلكي

يقع بين دائرتي عرض ٢° جنوبًا و ٣٧.٣٠° شمالًا وبين خطي طول ١٧° غربًا و ٦٠° شرقًا.

## مساحة الوطن العربي

مساحة دول الوطن العربي تبلغ مساحته نحو ١٣ مليون كم<sup>٢</sup> - عدد الدول العربية ٢٢ دولة: ١٢ في آسيا، ١٠ في إفريقيا.

- ويطل الوطن العربي على محيطين (الهندي والأطلنطي) وثلاثة بحار (المتوسط والأحمر والعربي) وثلاثة خلجان (خليج عُمان وخليج عدن والخليج العربي).  
- تتجلى أهمية موقع الوطن العربي في:

يتملك ثروة كبيرة من البترول ومصادر الطاقة والموارد المتنوعة. يشرف على طرق التجارة العالمية بين الشرق والغرب.

## الأهمية الاقتصادية

يتحكم في العديد من الممرات المائية الهامة التي تزداد أهميتها وقت الحروب.

## الأهمية الاستراتيجية


## أهمية موقع الوطن العربي

## الأهمية الدينية

كان مهدًا للديانات السماوية الثلاث، ويوجد به العديد من الأماكن المقدسة مثل الكعبة المشرفة.

## الأهمية الحضارية

قامت على أرضه العديد من الحضارات مثل الحضارة المصرية القديمة.



## المحتويات

- مراجعة على الشهر الأول.
- مراجعة على الشهر الثاني.



## ثانياً التاريخ

- حكم العالم قبل الإسلام العديد من القوى المتصارعة، من أهمها:

دولة الهند كثرت فيها العبادات، فكانوا يقدسون البقر والزواحف وغيرها.	دولة الروم احتلت (مصر وبلاد الشام) اعترفت بالمسيحية ديناً رسمياً للبلاد.	دولة الفرس احتلت (بلاد العراق واليمن) كثرت فيها العبادات الوثنية.
--	--	---

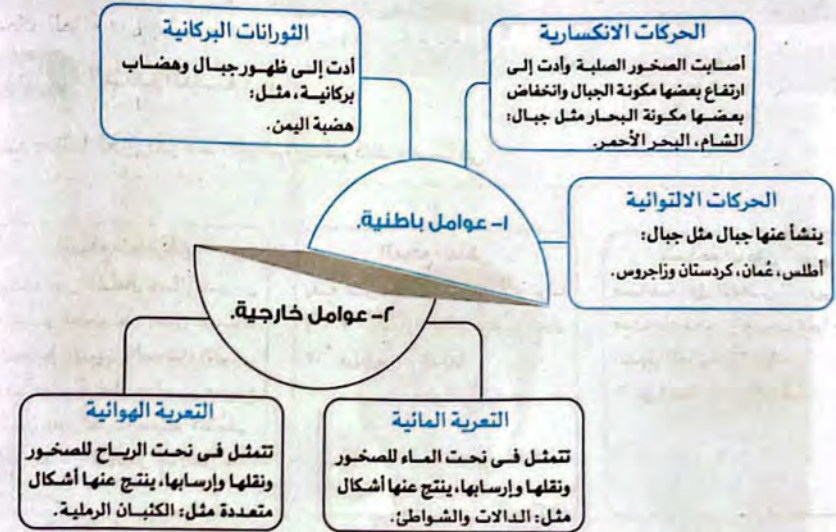
كما ظهرت في شبه الجزيرة العربية العديد من الحضارات والممالك، مثل: أهم الحضارات (عاد وثمود).  
أهم الممالك (معين، سبأ، حمير) في الجنوب.  
(الحيرة، الغساسنة) في الشمال، و(مكة ويثرب) في الغرب.

كان العالم بحاجة إلى مجيء النبي محمد ﷺ؛ ليرشد الناس إلى عبادة الله الواحد سبحانه وتعالى، ولينشر قيم العدل والمساواة والرحمة والتسامح بعد أن عم الظلم والفساد بين جميع الأجناس في كافة مجالات الحياة (السياسية والاجتماعية والاقتصادية والدينية).

### أحوال شبه الجزيرة العربية قبل الإسلام

<b>الحياة الثقافية</b> اشتهر العرب بالشعر والخطابة حتى تجدها داخل أسواقهم مثل سوق عكاظ وذى مجاز.	<b>الحياة الاجتماعية</b> - انقسم المجتمع العربي قديماً إلى البدو وهم سكان الصحراء والحضر وهم الذين يسكنون المدن. هناك عادات حميدة مثل الشجاعة، الصبر وهناك عادات سيئة مثل: شرب الخمر.	<b>الحياة الاقتصادية</b> - كان الرعي هو الحرفة السائدة في البادية. - الزراعة كانت قليلة بسبب ندرة المطر. - عرفوا بعض الصناعات مثل الرماح والسيوف. - كان لمكة مكانة تجارية كبيرة حيث نظمت: رحلة الشتاء لليمن، رحلة الصيف للشام.	<b>الحياة السياسية</b> ساد النظام القبلي، ومن أشهر القبائل قريش. قوانين القبيلة: لكل قبيلة شيخ يحكمها ولها قانون يحدد حقوق وواجبات كل فرد بها.	<b>الحياة الدينية</b> ديانات غير سماوية: الوثنية ديانات سماوية: (الحنيفية، اليهودية، المسيحية).
---	---	--	--	---

- هناك العديد من العوامل التي ساهمت في تشكيل تضاريس الوطن العربي، وهي:



### أهم أشكال السطح بالوطن العربي

<b>الجنح الإفريقي</b> جبال: جبال أطلس وجبال البحر الأحمر. هضاب: هضبة إفريقيا الشمالية، هضبة الشطوط. أودية جافة: وادي العلاقي في مصر. واحات: واحة الكفرة في ليبيا وواحة سيوة في مصر. سهول فيضية: نهر النيل في مصر والسودان، جوبا وشبيلي في الصومال.	<b>الجنح الآسيوي</b> جبال: جبال الشام والتي تجرى فيها أنهار مثل نهر الليطاني في لبنان ونهر العاصي في سوريا، جبال البحر الأحمر والتي تعرف في آسيا باسم (عسير، الحجاز، اليمن)، مرتفعات عُمان. هضاب: بادية الشام في الشمال، نجد في الوسط، حضرموت في الجنوب. سهول فيضية: دجلة والفرات في العراق، العاصي والليطاني في سوريا ولبنان.
---	---

لاحظ أن: - أهمية الواحات: تنتشر بها أراض خصبة صالحة للزراعة.  
- أهمية الأودية الجافة: تستخدم كطرق للمواصلات - يسهل الحصول منها على المياه الجوفية.  
- للسهول أنواع أخرى مع الفيضية وهي:  
- سهول ساحلية على سواحل البحار والمحيطات، من أهميتها أن بعضها يصلح للزراعة مثل سهول البحر المتوسط، ويستخرج من بعضها الثروات المعدنية ومصادر الطاقة مثل سهول البحر الأحمر والخليج العربي.  
- سهول صحراوية، ومن أنواعها السهول الصخرية والإرسابات الرملية «الكثبان الرملية».



## محمد ﷺ المولد والنشأة



### لاحظ أن:

- عرف عام مولد الرسول ﷺ بعام الفيل لأنه في هذا العام حاول أبرهة الحبشي هدم الكعبة بجيش كبير يضم عددًا من القبيلة لصرف العرب عن زيارتها وتعظيمها ليتجهوا إلى كنيسته التي بناها بأرض اليمن.
- كان العرب يدفعون بأبنائهم لمرضعات من البادية؛ وذلك لأن العيش في البادية يكسبهم فصاحة اللسان وقوة البنيات ورجاحة العقل.
- تمتعت بعض النساء بمكانة عالية في المجتمع العربي مثل السيدة خديجة رضيها زوجة الرسول ﷺ والتي كانت تتاجر بمالها.



## الدرس 1 الموقع والمساحة

للشرح ودروس الاون لاين

01207304523

(أ) اختر الإجابة الصحيحة مما بين القوسين :

1. يجمع دول الوطن العربى العديد من الخصائص المشتركة , منها .....  
( اللغة - المكان - التاريخ - جميع ما سبق )
2. يقع الوطن العربى ..... قارات العالم القديم  
( غرب - شمال - وسط - شرق )
3. تمتد أراضي الوطن العربى فى قارتى .....  
( آسيا وأفريقيا - آسيا واوروبا - افريقيا واوروبا - افريقيا وامريكا الجنوبية )
4. جميع الدول العربية الآتية تمتد بين دائرتى عرض  $2^{\circ}$  جنوبا  $30^{\circ}$   $37^{\circ}$  شمالاً ما عدا .....  
( البحرين - المغرب - جزر القمر - موريتانيا )
5. دولة عربية تقع بأكملها فى المحيط الهندى هى دولة .....  
( اليمن - عمان - جيبوتى - جزر القمر )
6. الدولة العربية التى تقع خارج الامتداد الفلكى للوطن العربى هى .....  
( موريتانيا - البحرين - جزر القمر - المغرب )
7. يمتد الوطن العربى بين خطى طول  $60^{\circ}$  ..... ,  $17^{\circ}$  .....  
( شرق , غرب - شمال , جنوب - غرب , شرق - جنوب , شمال )
8. تقع دولة ..... عند تقاطع دائرة عرض  $12^{\circ}$  جنوبا وخط طول  $44^{\circ}$  شرقا .  
( مصر - جيبوتى - جزر القمر - العراق )
9. يختلف البحر المتوسط عن البحر الأحمر فى .....



(الفصل بين القارتين - الاتصال بمحيط - الامتداد - وجود المضائق)

10. يحد الوطن العربى غرباً .....

(البحر العربى - المحيط الهندى - البحر المتوسط - المحيط الأطلنطى)

11. يحد الوطن العربى شرقاً .....

(خليج عمان - البحر العربى - الخليج العربى - جميع ما سبق)

12. أقوى حدود الوطن العربى تقع جهة .....

(الشمال الشرقى - الشرق - الغرب - الجنوب الغربى)

13. يطل الوطن العربى على البحار الآتية ما عدا البحر .....

( الأحمر - العربى - المتوسط - الأسود )

14. ساعدت ..... على احتفاظ الوطن العربى بشخصيته العربية المميزة .

(الظواهر الطبيعية - الحدود السياسية - الثورات الداخلية - الأموال)

15. من دول الجناح العربى الآسيوى .....

( تونس - الأردن - جيبوتى - جزر القمر )

16. تقع دولتا ..... بالكامل فى نصف الكرة الأرضية الغربى .

(موريتانيا والمغرب - الجزائر وموريتانيا - تونس والمغرب - الجزائر والمغرب)

17. من دول الجناح العربى الأفريقى .....

( السعودية - اليمن - العراق - السودان )

جروب الفيسبوك  
الدراسات الاجتماعية مع  
مستر مصطفى مسلم

18. يفصل ..... بين جناحى الوطن العربى الأفريقى والآسيوى.

(البحر المتوسط - البحر الأحمر - الخليج العربى - خليج عمان)

19. أى من الدول التالية تقع بين دائرة الاستواء ومدار السرطان .....



(جزر القمر - الكويت - تونس - السودان)

20. الدولة العربية التي تقع بالكامل جنوب دائرة الاستواء .....

( السودان - الصومال - جزر القمر - جيبوتي )

21. أى من الدول العربية التالية تقع بأكملها جنوب مدار السرطان .....

( موريتانيا - الصومال - عمان - ليبيا )

22. تمتلك دولة ..... سواحل تطل على بحر ومحيط.

(السودان - مصر - المغرب - سوريا)

23. خط الطول الرئيسى جرينتش يمر بدولة .....

(الجزائر - مصر - تونس - المغرب)

24. يلتقى مدار السرطان مع خط جرينتش جنوب دولة .....

(موريتانيا - المغرب - الجزائر - ليبيا)

25. قامت على أراضي الوطن العربى العديد من الحضارات مثل حضارة .....

(الفرعونية - بلاد ما بين النهرين - بلاد الشام - جميع ما سبق)

26. قامت دول الوطن العربى بنقل ..... إلى العالم .

(الديانات السماوية - التقدم التكنولوجى - المدينة الحديثة - العادات والتقاليد)

27. من الأهمية الدينية العظيمة فى الوطن العربى وجود .....

( نهر النيل - البترول - الكعبة المشرفة - التجارة العالمية )

28. يعتبر تنوع المناخ والحياة النباتية من الأهمية ..... فى الوطن العربى .

(الدينية - الاقتصادية - الحضارية - الثقافية)

29. تتنوع الموارد المعدنية فى الوطن العربى بسبب .....



- (التنوع المناخى - التنوع النباتى - الموقع الفلكى - تنوع التكوينات الجيولوجية )
30. مضيق ..... يصل بين الخليج العربى وخليج عمان .  
( باب المندب - هرمز - قناة السويس - جبل طارق )
31. الممر المائى الذى يصل بين خليجين عربيين هو .....  
(هرمز - باب المندب - قناة السويس - جبل طارق )
32. الدولة العربية التى تشرف على مضيق هرمز .....  
( الإمارات - إيران - المغرب - عمان )
33. يصل مضيق هرمز بين الخليج العربى وخليج عمان وبالتالي.....  
(المحيط الاطلنطى - المحيط الهادى - المحيط الهندى - البحر المتوسط )
34. يقع مضيق هرمز تحت إشراف دولتى .....  
(إيران وعمان - إيران وتركيا - عمان وجيبوتى - المغرب وإسبانيا )
35. ممر مائى يصل بين البحر المتوسط والبحر الأحمر .....  
( باب المندب - هرمز - قناة السويس - جبل طارق )
36. مضيق يصل بين البحر الأحمر وخليج عدن .....  
( باب المندب - هرمز - قناة السويس - جبل طارق )
37. مضيق ..... تشرف عليه دولتين عربيتين .  
( باب المندب - هرمز - قناة السويس - جبل طارق )
38. المضيق الذى يفصل بين كتلتين من اليابس العربى هو .....  
(هرمز - قناة السويس - باب المندب - جبل طارق )
39. للوطن العربى حق السيطرة الكاملة على قناة السويس ومضيق .....



(باب المندب - جبل طارق - تيران - هرمز)

40. يقترب اليابس العربى من اليابس الأوروبى عند .....

(مضيق باب المندب - مضيق هرمز - مضيق جبل طارق - قناة السويس)

41. مضيق ..... يصل بين البحر المتوسط والمحيط الأطلنطى .

( باب المندب - هرمز - قناة السويس - جبل طارق )

42. دولة اوروبية تشرف على مضيق جبل طارق .....

( المغرب - إيطاليا - إسبانيا - إيران )

43. تعد مشكلة ..... من المشاكل السياسية فى الوطن العربى .

(فلسطين - المدن المغربية - الجزائرالإماراتية - جميع ما سبق)

44. تعد من أهم المشكلات السياسية والتي توجد فى الجناح العربى الآسيوى مشكلة .....

(فلسطين - سبتة ومليلة - دارفور - جنوب السودان)

للاشتراك فى  
دروس الاون لاين



01207304523

(ب) ضع علامة (✓) أو (x) مع التصويب :

1. الموقع الفلكى هو الموقع بالنسبة لليابس والماء . ( )
2. يقع الوطن العربى وسط قارات العالم الجديد . ( )
3. يقع الوطن العربى وسط قارات العالم القديم أستراليا وأفريقيا واوروبا. ( )
4. يمتد الوطن العربى فى قارتى آسيا وأفريقيا ويفصل بينهما البحر المتوسط . ( )
5. يطل الوطن العربى على المحيط الهادى والأطلنطى . ( )
6. يطل الوطن العربى على البحر الأسود من جهه الشمال . ( )
7. يطل الوطن العربى على خليج واحد فقط . ( )
8. تمتلك كل الدول العربية سواحل تطل على البحار أو المحيطات أو الاثنين معا . ( )
9. أطول حدود برية للوطن العربى تقع فى الجناح الأفريقى . ( )
10. الموقع الفلكى هو الموقع بالنسبة لخطوط الطول ودوائر العرض . ( )



11. يمتد الوطن العربى بين خطى طول 60 ° شرقاً , 17 ° غرباً . ( )
11. يمتد الوطن العربى بين دائرتى عرض 30 ' 37 ° شمالاً , 2 ° جنوباً . ( )
12. أقصى امتداد للوطن العربى شمالاً يوجد فى الجناح العربى الآسيوى . ( )
13. تقع دولة جزر القمر فى المحيط الأطلنطى . ( )
14. تقع دولة جزر القمر بين دائرتى عرض 2 ° جنوباً , 30 ' 37 ° شمال . ( )
15. تقع دولة جزر القمر فى المحيط الهندى شمال دائرة الاستواء . ( )
16. تقع دولة جزر القمر داخل نطاق الموقع الفلكى للوطن العربى . ( )
17. تعتبر دولة الأردن من دول الجناح العربى الأفريقى . ( )
18. تعد دولة جزر القمر من دول الجناح العربى الآسيوى . ( )
19. ساعدت الظواهر الطبيعية على احتفاظ الوطن العربى بشخصيته العربية . ( )
20. يبلغ عدد دول الوطن العربى بالجناح الآسيوى تسع دول , وبالجناح الأفريقى اثني عشرة دولة . ( )
21. يحد الوطن العربى من الشمال البحر الأحمر وجبال طوروس . ( )
22. قامت على أرض الوطن العربى العديد من الحضارات منها الحضارة المصرية القديمة وحضارة بلاد العراق القديمة . ( )
23. يُعد الوطن العربى مهدياً للديانات السماوية الثلاثة . ( )
24. وجود الحضارة الفرعونية فى الوطن العربى أكسبه أهمية دينية . ( )
25. من الأماكن المقدسة التى يقصدها الناس للزيارة قبة الصخرة بالسعودية . ( )
26. تنوع الأقاليم المناخية والحياة النباتية من الأهمية الحضارية فى الوطن العربى . ( )
27. وجود البترول والغاز الطبيعى فى الوطن العربى أكسبه أهمية حضارية . ( )
28. يتحكم الوطن العربى فى ثلاث ممرات مائية زادت من أهمية الأقتصادية . ( )
29. يشرف الوطن العربى على ثلاثة أذرع مائية مهمة . ( )
30. يربط مضيق هرمز بين البحر الأحمر والمحيط الهندى . ( )
31. يقع مضيق باب المندب تحت إشراف عربى خالص . ( )
32. تشرف دولة مصر على قناة السويس وحدها . ( )
33. تشرف دولة إيران على مضيق باب المندب . ( )
34. مضيق جبل طارق يصل بين البحر المتوسط والمحيط الأطلنطى . ( )



35. تشرق دولة إيطاليا على مضيق جبل طارق . ( )
36. من الدول المطلة على البحر المتوسط مصر , ليبيا , اليمن . ( )
37. تُعد مشكلة فلسطين من المشكلات السياسية في الوطن العربي . ( )
38. من المشكلات السياسية في الجناح العربي الآسيوى مشكلة جنوب السودان . ( )
39. تعد مشكلة جنوب السودان إحدى المشكلات السياسية في الجناح العربي الأفريقي . ( )
40. مشكلة سبته ومليلة من المشكلات الاقتصادية بالجناح العربي الأفريقي . ( )

## جروب الفيسبوك

الدراسات الاجتماعية مع  
مستر مصطفى مسلم

## ج. بم تفسر:

1. تتوفر في الوطن العربي عوامل وحدته ؟
2. أهمية الحدود الطبيعية للوطن العربي ؟
3. الأهمية الحضارية للوطن العربي ؟
4. للوطن العربي مكانة دينية مهمة ؟
- \* اكتساب الوطن العربي قيمة روحية عظيمة في نفوس سكان العالم ؟
5. \* الأهمية الاقتصادية والاستراتيجية للوطن العربي ؟
- \* تعرض الوطن العربي للعديد من المحاولات للاستيلاء عليه ؟
6. تحكم الوطن العربي في طرق التجارة العالمية خلال العصور التاريخية ؟
7. تنوع الموارد الاقتصادية في الوطن العربي ؟
8. مضيق باب المندب مضيق عربي خالص ؟
9. تقسيم الوطن العربي إلى دول مختلفة المساحة ؟



**..(د) ما النتائج المترتبة على ..**

1. امتداد حدود الوطن العربى العربى مع ظواهر طبيعية من معظم الجهات ؟
2. تحكم الوطن العربى فى ممرات مائة مهمة؟
3. الموقع الجغرافى للوطن العربى ؟
4. تنوع الأقاليم المناخية والنباتية فى الوطن العربى ؟
5. الأهمية الاستراتيجية لموقع الوطن العربى؟
6. تعرض الوطن العربى للاستعمار الأوروبى ؟

للاشتراك فى  
دروس الاون لاين  
01207304523

**دعواتكم لأبى بالرحمة والمغفرة**

مصطفى مسلم



## الدرس 1 الموقع والمساحة

للشرح ودروس الاون لاين

01207304523

(أ) اختر الإجابة الصحيحة مما بين القوسين :

1. يجمع دول الوطن العربى العديد من الخصائص المشتركة , منها .....  
( اللغة - المكان - التاريخ - جميع ما سبق )
2. يقع الوطن العربى ..... قارات العالم القديم  
( غرب - شمال - وسط - شرق )
3. تمتد أراضي الوطن العربى فى قارتى .....  
( آسيا وأفريقيا - آسيا واوروبا - افريقيا واوروبا - افريقيا وامريكا الجنوبية )
4. جميع الدول العربية الآتية تمتد بين دائرتى عرض  $2^{\circ}$  جنوبا  $30^{\circ}$   $37^{\circ}$  شمالاً ما عدا .....  
( البحرين - المغرب - جزر القمر - موريتانيا )
5. دولة عربية تقع بأكملها فى المحيط الهندى هى دولة .....  
( اليمن - عمان - جيبوتى - جزر القمر )
6. الدولة العربية التى تقع خارج الامتداد الفلكى للوطن العربى هى .....  
( موريتانيا - البحرين - جزر القمر - المغرب )
7. يمتد الوطن العربى بين خطى طول  $60^{\circ}$  ..... ,  $17^{\circ}$  .....  
( شرق , غرب - شمال , جنوب - غرب , شرق - جنوب , شمال )
8. تقع دولة ..... عند تقاطع دائرة عرض  $12^{\circ}$  جنوبا وخط طول  $44^{\circ}$  شرقا .  
( مصر - جيبوتى - جزر القمر - العراق )
9. يختلف البحر المتوسط عن البحر الأحمر فى .....



(الفصل بين القارتين - الاتصال بمحيط - الامتداد - وجود المضائق)

10. يحد الوطن العربي غرباً .....

(البحر العربي - المحيط الهندي - البحر المتوسط - المحيط الأطلنطي)

11. يحد الوطن العربي شرقاً .....

(خليج عمان - البحر العربي - الخليج العربي - جميع ما سبق)

12. أقوى حدود الوطن العربي تقع جهة .....

(الشمال الشرقي - الشرق - الغرب - الجنوب الغربي)

13. يطل الوطن العربي على البحار الآتية ما عدا البحر .....

(الأحمر - العربي - المتوسط - الأسود)

14. ساعدت ..... على احتفاظ الوطن العربي بشخصيته العربية المميزة .

(الظواهر الطبيعية - الحدود السياسية - الثورات الداخلية - الأموال)

15. من دول الجناح العربي الآسيوى .....

(تونس - الأردن - جيبوتي - جزر القمر)

16. تقع دولتا ..... بالكامل في نصف الكرة الأرضية الغربي .

(موريتانيا والمغرب - الجزائر وموريتانيا - تونس والمغرب - الجزائر والمغرب)

17. من دول الجناح العربي الأفريقي .....

(السعودية - اليمن - العراق - السودان)

جروب الفيسبوك  
الدراسات الاجتماعية مع  
مستر مصطفى مسلم

18. يفصل ..... بين جناحي الوطن العربي الأفريقي والآسيوى.

(البحر المتوسط - البحر الأحمر - الخليج العربي - خليج عمان)

19. أى من الدول التالية تقع بين دائرة الاستواء ومدار السرطان .....



(جزر القمر - الكويت - تونس - السودان)

20. الدولة العربية التي تقع بالكامل جنوب دائرة الاستواء .....

( السودان - الصومال - جزر القمر - جيبوتي )

21. أى من الدول العربية التالية تقع بأكملها جنوب مدار السرطان .....

( موريتانيا - الصومال - عمان - ليبيا )

22. تمتلك دولة ..... سواحل تطل على بحر ومحيط.

(السودان - مصر - المغرب - سوريا)

23. خط الطول الرئيسى جرينتش يمر بدولة .....

(الجزائر - مصر - تونس - المغرب)

24. يلتقى مدار السرطان مع خط جرينتش جنوب دولة .....

(موريتانيا - المغرب - الجزائر - ليبيا)

25. قامت على أراضي الوطن العربى العديد من الحضارات مثل حضارة .....

(الفرعونية - بلاد ما بين النهرين - بلاد الشام - جميع ما سبق)

26. قامت دول الوطن العربى بنقل ..... إلى العالم .

(الديانات السماوية - التقدم التكنولوجى - المدينة الحديثة - العادات والتقاليد)

27. من الأهمية الدينية العظيمة فى الوطن العربى وجود .....

( نهر النيل - البترول - الكعبة المشرفة - التجارة العالمية )

28. يعتبر تنوع المناخ والحياة النباتية من الأهمية ..... فى الوطن العربى .

(الدينية - الأقتصادية - الحضارية - الثقافية)

29. تتنوع الموارد المعدنية فى الوطن العربى بسبب .....



(التنوع المناخى - التنوع النباتى - الموقع الفلكى - تنوع التكوينات الجيولوجية)

30. مضيق ..... يصل بين الخليج العربى وخليج عمان .

( باب المندب - هرمز - قناة السويس - جبل طارق )

31. الممر المائى الذى يصل بين خليجين عربيين هو .....

( هرمز - باب المندب - قناة السويس - جبل طارق )

32. الدولة العربية التى تشرف على مضيق هرمز .....

( الإمارات - إيران - المغرب - عمان )

33. يصل مضيق هرمز بين الخليج العربى وخليج عمان وبالتالى.....

(المحيط الاطلنطى - المحيط الهادى - المحيط الهندى - البحر المتوسط )

34. يقع مضيق هرمز تحت إشراف دولتى .....

(إيران وعمان - إيران وتركيا - عمان وجيبوتى - المغرب وإسبانيا )

35. ممر مائى يصل بين البحر المتوسط والبحر الأحمر .....

( باب المندب - هرمز - قناة السويس - جبل طارق )

36. مضيق يصل بين البحر الأحمر وخليج عدن .....

( باب المندب - هرمز - قناة السويس - جبل طارق )

37. مضيق ..... تشرف عليه دولتى عربيتين .

( باب المندب - هرمز - قناة السويس - جبل طارق )

38. المضيق الذى يفصل بين كتلتين من اليابس العربى هو .....

(هرمز - قناة السويس - باب المندب - جبل طارق )

39. للوطن العربى حق السيطرة الكاملة على قناة السويس ومضيق .....



(باب المندب - جبل طارق - تيران - هرمز)

40. يقترب اليابس العربي من اليابس الأوروبي عند .....

(مضيق باب المندب - مضيق هرمز - مضيق جبل طارق - قناة السويس)

41. مضيق ..... يصل بين البحر المتوسط والمحيط الأطلنطي .

( باب المندب - هرمز - قناة السويس - جبل طارق )

42. دولة اوروبية تشرف على مضيق جبل طارق .....

( المغرب - إيطاليا - إسبانيا - إيران )

43. تعد مشكلة ..... من المشاكل السياسية في الوطن العربي .

(فلسطين - المدن المغربية - الجزائرالإماراتية - جميع ما سبق)

44. تعد من أهم المشكلات السياسية والتي توجد في الجناح العربي الآسيوي مشكلة .....

(فلسطين - سبتة ومليلة - دارفور - جنوب السودان)

**(ب) ضع علامة (✓) أو (x) مع التصويب :**

للاشتراك في  
دروس الاون لاين

01207304523

(x) الجغرافي

(x) القديم

(x) آسيا

(x) الأحمر

(x) الهندي

(x) المتوسط

(x) ثلاثة خلجان

1. الموقع الفلكي هو الموقع بالنسبة لليابس والماء .

2. يقع الوطن العربي وسط قارات العالم الجديد .

3. يقع الوطن العربي وسط قارات العالم القديم أستراليا وأفريقيا واوروبا .

4. يمتد الوطن العربي في قارتي آسيا وأفريقيا ويفصل بينهما البحر المتوسط .

5. يطل الوطن العربي على المحيط الهادي والأطلنطي .

6. يطل الوطن العربي على البحر الأسود من جهة الشمال .

7. يطل الوطن العربي على خليج واحد فقط .

8. تمتلك كل الدول العربية سواحل تطل على البحار أو المحيطات أو الاثنين معا . (✓)

9. أطول حدود برية للوطن العربي تقع في الجناح الأفريقي . (✓)

10. الموقع الفلكي هو الموقع بالنسبة لخطوط الطول ودوائر العرض . (✓)



11. يمتد الوطن العربي بين خطى طول 60° شرقاً , 17° غرباً . (✓)
11. يمتد الوطن العربي بين دائرتى عرض 30' 37° شمالاً , 2° جنوباً . (✓)
12. أقصى امتداد للوطن العربي شمالاً يوجد في الجناح العربي الآسيوى . (✓)
13. تقع دولة جزر القمر في المحيط الأطلنطى . (x) **الهندي**
14. تقع دولة جزر القمر بين دائرتى عرض 2° جنوباً , 30' 37° شمال . (✓) **مصر, اليمن ...**
- حل آخر 12° جنوباً , 44° شرقاً**
15. تقع دولة جزر القمر في المحيط الهندي شمال دائرة الاستواء . (x) **جنوب**
16. تقع دولة جزر القمر داخل نطاق الموقع الفلكى للوطن العربي . (x) **خارج**
17. تعتبر دولة الأردن من دول الجناح العربي الأفريقي . (x) **الآسيوى**
18. تعد دولة جزر القمر من دول الجناح العربي الآسيوى . (x) **الأفريقي**
19. ساعدت الظواهر الطبيعية على احتفاظ الوطن العربي بشخصيته العربية . (✓)
20. يبلغ عدد دول الوطن العربي بالجناح الآسيوى تسع دول , وبالجناح الأفريقي اثني عشرة دولة (x) **12 دولة , 10 دول**
21. يحد الوطن العربي من الشمال البحر الأحمر وجبال طوروس . (x) **المتوسط**
22. قامت على أرض الوطن العربي العديد من الحضارات منها الحضارة المصرية القديمة وحضارة بلاد العراق القديمة . (✓)
23. يُعد الوطن العربي مهداً للديانات السماوية الثلاثة . (✓)
24. وجود الحضارة الفرعونية في الوطن العربي أكسبه أهمية دينية . (x) **حضارية**
25. من الأماكن المقدسة التي يقصدها الناس للزيارة قبة الصخرة بالسعودية . (x) **بفلسطين**
26. تنوع الأقاليم المناخية والحياة النباتية من الأهمية الحضارية في الوطن العربي . (x) **الاقتصادية**
27. وجود البترول والغاز الطبيعي في الوطن العربي أكسبه أهمية حضارية . (x) **الاقتصادية**
28. يتحكم الوطن العربي في ثلاث ممرات مائية زادت من أهمية الاقتصادية . (x) **أربعة**
29. يشرف الوطن العربي على ثلاثة أذرع مائية مهمة . (✓)
30. يربط مضيق هرمز بين البحر الأحمر والمحيط الهندي . (x) **باب المنذب**
31. يقع مضيق باب المنذب تحت إشراف عربي خالص . (✓)
32. تشرف دولة مصر على قناة السويس وحدها . (✓)
33. تشرف دولة إيران على مضيق باب المنذب . (x) **هرمز**



34. مضيق جبل طارق يصل بين البحر المتوسط والمحيط الأطلنطي . (✓)
35. تشرق دولة إيطاليا على مضيق جبل طارق . (x) **إسبانيا**
36. من الدول المطلة على البحر المتوسط مصر , ليبيا , اليمن . (x) **تونس**
37. تُعد مشكلة فلسطين من المشكلات السياسية في الوطن العربي . (✓)
38. من المشكلات السياسية في الجناح العربي الآسيوي مشكلة جنوب السودان . (x) **الجزر الإماراتية**
39. تعد مشكلة جنوب السودان إحدى المشكلات السياسية في الجناح العربي الأفريقي . (✓)
40. مشكلة سبتة ومليلة من المشكلات الاقتصادية بالجناح العربي الأفريقي . (x) **السياسية**

### جروب الفيسبوك

الدراسات الاجتماعية مع  
مستر مصطفى مسلم

### ج) يم تفسر:

1. تتوفر في الوطن العربي عوامل وحدته ؟

لأن دول الوطن العربي يجمعها مكان واحد ولغة واحدة وتاريخ مشترك كما تمتد حدود الوطن العربي مع ظواهر طبيعية.

2. أهمية الحدود الطبيعية للوطن العربي ؟

- حافظت على شخصيته العربية بين الأمم.

- ساعدت الوطن العربي على الاتصال بالعالم الخارجي.

3. الأهمية الحضارية للوطن العربي ؟

بسبب قيام الحضارات القديمة على أرضه مثل :

- الحضارة المصرية القديمة (الفرعونية )

- حضارة بلاد العراق القديم (بلاد ما بين النهرين )

- حضارات بلاد اليمن - حضارات بلاد الشام



4. للوطن العربي مكانة دينية مهمة؟

\*اكتساب الوطن العربي قيمة روحية عظيمة في نفوس سكان العالم ؟

-يُعد مهد الديانات السماوية الثلاث ومنه انتشرت للعالم.

-وجود أماكن مقدسة يقصدها الناس للزيارة مثل كنيسة المهد , المسجد الأقصى , قبة الصخرة , الكعبة المشرفة.

5. \* الأهمية الاقتصادية والاستراتيجية للوطن العربي ؟

\*تعرض الوطن العربي للعديد من المحاولات للاستيلاء عليه ؟

بسبب: -تنوع موارده الاقتصادية.

-وجود البترول والغاز الطبيعي على أرضه.

-تحكمه في طرق التجارة العالمية خلال العصور المختلفة.

6. تحكم الوطن العربي في طرق التجارة العالمية خلال العصور التاريخية ؟

بسبب: - موقعة المتوسط بين القارات .

-إشرافه على ثلاثة أزرع مائية مهمة هي : البحر الأحمر والمتوسط والخليج العربي

- تحكمه في أربعة ممرات مائية مهمة زادت من أهميته الاقتصادية والاستراتيجية وهي : مضيق هرمز , باب المندب , جبل طارق , قناة السويس.

7. تنوع الموارد الاقتصادية في الوطن العربي ؟

بسبب تنوع الأقاليم المناخية والحياة النباتية والتكوينات الجيولوجية به

8. مضيق باب المندب مضيق عربي خالص ؟

لأن مضيق باب المندب تشرف عليه دولة اليمن ودولة جيبوتي وهما من الدول العربية

9. تقسيم الوطن العربي إلى دول مختلفة المساحة ؟



بسبب تعرض الوطن العربي للاستعمار الأوروبي الذي قام بتقسيمه الى دول مختلفة المساحة وعدد السكان تفصل بينها حدود سياسية مصطنعة

### (د) ما النتائج المترتبة على ..

1. امتداد حدود الوطن العربي مع ظواهر طبيعية من معظم الجهات ؟

ترتب على ذلك احتفاظ الوطن العربي بشخصيته العربية المميزة بين الأمم

- الاتصال مع العالم الخارجي

2. تحكم الوطن العربي في ممرات مائية مهمة؟

ترتب على ذلك زيادة الأهمية الاقتصادية والاستراتيجية لموقع الوطن العربي

3. الموقع الجغرافي للوطن العربي ؟

- زيادة الأهمية الاقتصادية والاستراتيجية وإشرافه على طرق التجارة العالمية

- تعرض الوطن العربي للاستعمار

4. تنوع الأقاليم المناخية والنباتية في الوطن العربي ؟

ارباب على ذلك تنوع الموارد الاقتصادية بالوطن العربي .

5. الأهمية الاستراتيجية لموقع الوطن العربي؟

أدى ذلك إلى تعرض الوطن العربي للاستعمار الأوروبي.

6. تعرض الوطن العربي للاستعمار الأوروبي ؟

أدى ذلك إلى : -نهب خيرات الوطن العربي

-تقسيم الوطن العربي إلى دول مختلفة المساحة وعدد السكان تفصل بينها حدود سياسية مصطنعة وقد

نتج عن ذلك ظهور مشكلة فلسطين ودارفور والمدن المغربية وبعض الجزر الإماراتية

للاشتراك في  
دروس الاون لاين



01207304523



## تضاريس وطننا العربي

للشرح ودروس الاون لاين

01207304523

اختر الإجابة الصحيحة مما بين القوسين:

1. من العوامل الباطنية التي تؤثر في تشكيل سطح الوطن العربي .....  
( التعرية المائية - الحركات الانكسارية - التعرية الهوائية - التعرية الجليدية )
2. الحركات التي أدت إلى تكوين سلاسل جبلية مرتفعة .....  
( التعرية الهوائية - التكوينات الجيولوجية - التعرية المائية - الحركات الالتوائية )
3. أدى تعرض الصخور الصلبة الأرضية بالوطن العربي لحركات باطنية إلى تكوين .....  
( جبال التوائية - جبال بركانية - جبال انكسارية - سهول فيضية )
4. تظهر الهضاب البركانية بوضوح في دولة .....  
( عمان - المغرب - اليمن - مصر )
5. أدت الثورات البركانية إلى تأثر مظاهر سطح الوطن العربي في .....  
( الشرق - الشمال - الغرب - الجنوب )
6. من العوامل الخارجية التي تؤثر في تشكيل سطح الوطن العربي .....  
( الحركات الالتوائية - التعرية الهوائية - الحركات الانكسارية - الثورات البركانية )
7. تتمثل التعرية ..... في نحت الماء للصخور.  
( المائية - الهوائية - الجليدية - البركانية )
8. ينتج عن التعرية الهوائية العديد من الأشكال مثل .....  
( الدالات - الكثبان الرملية - الشواطىء - جميع ما سبق )
9. الجبال التي نشأت نتيجة الحركات الالتوائية الباطنية التي تعرضت لها القشرة الأرضية .....  
( الجبال الالتوائية - الجبال الانكسارية - الجبال البركانية - جميع ما سبق )
10. من الجبال الالتوائية في الوطن العربي جبال .....  
( البحر الأحمر - كردستان - الشام - اليمن )
11. من الجبال الانكسارية في وطننا العربي جبال .....  
( الشام - كردستان - زاجروس - أطلس )
12. تمتد جبال ..... من الغرب للشرق بالجناح العربي الأفريقي .  
( عمان - الشام - البحر الأحمر - أطلس )



13. جبال الوطن العربى فى الجزء الشمالى الغربى نتجت عن .....
- ( حركات انكسارية - حركات التوائية - تعرية بحرية - ثورانات بركانية )
14. تمتد جبال ..... فى ثلاثة دول عربية بالجناح الأفريقى .
- ( البحر الأحمر - الحجاز - عسير - أطلس )
15. تقع هضبة الشطوط فى دولة .....
- ( المغرب - موريتانيا - تونس - الجزائر )
16. تقع هضبة الشطوط بين سلاسل جبال .....
- ( البحر الأحمر - الحجاز - عسير - أطلس )
17. تقع جبال ..... فى جناح الوطن العربى .
- ( البحر الأحمر - أطلس - الشام - عمان )
18. يقع شرق البحر الأحمر جبال .....
- ( الشام - الحجاز - أطلس - عمان )
19. تمتد جبال ..... على الساحل الشرقى للبحر الأحمر .
- ( عسير - البحر الأحمر - الشام - أطلس )
20. تعرف جبال البحر الأحمر فى الجزء الجنوب الغربى من الجناح الآسيوى باسم مرتفعات .....
- ( الحجاز - اليمن - عسير - نجد )
21. تمتد جبال ..... على طول الساحل الشرقى للبحر المتوسط .
- ( أطلس - الحجاز - الشام - عمان )
22. تحصر جبال الشام سهول تجرى فيها أنهار مثل نهر الليطانى فى ..... والعاصى فى .....
- ( سوريا والعراق - اليمن وعمان - لبنان والعراق - لبنان وسوريا )
23. تمتد جبال ..... بمحاذاة سواحل البحار .
- ( الشام وأطلس - الشام وزاجروس - زاجروس وكردستان - كردستان والبحر الأحمر )
24. تعد هضبة ..... أهم مظاهر هضبة أفريقيا الشمالية .
- ( نجد - حضر موت - الشطوط - بادية الشام )
25. تعد هضبة ..... من هضاب الجناح الأفريقى .
- ( نجد - حضر موت - الشطوط - بادية الشام )

جروب الفيسبوك

الدراسات الاجتماعية مع  
مستر مصطفى مسلم



26. من هضاب الجناح الآسيوى هضبة .....  
( نجد - حضر موت - بادية الشام - جميع ما سبق )
27. تقع هضبة ..... وسط شبه الجزيرة العربية .  
( نجد - حضر موت - الشطوط - بادية الشام )
28. أى من المظاهر التضاريسية التالية يمر بها مدار السرطان .....  
( هضبة الشطوط - هضبة حضرموت - جبال أطلس - هضبة نجد )
29. أى من المظاهر التضاريسية التالية هى الأقرب للبحر المتوسط .....  
( جبال زاغروس - جبال البحر الأحمر - هضبة الشطوط - هضبة نجد )
30. أكبر الظاهرات التضاريسية مساحة فى الوطن العربى .....  
( جبال أطلس - جبال البحر الأحمر - هضبة نجد - هضبة أفريقيا الشمالية )
31. الظاهرة التضاريسية التى توجد فى جناحى الوطن العربى الآسيوى والأفريقي معاً .....  
( هضبة نجد - جبال كردستان - جبال البحر الأحمر - سهول نهر النيل )
32. أرض منخفضة فى الصحراء صالحة للحياة وتعتمد على المياه الجوفية .....  
( الواحات - الأودية الجافة - الكثبان الرملية - الدالات )
33. تقع واحة الكفرة فى .....  
( السعودية - مصر - اليمن - ليبيا )
34. يعد وادى ..... من أشهر الأودية الجافة فى مصر .  
( النيل - الفرات - العلاقى - العاصى )
35. أرض سهلية منبسطة من سطح اليابس وتتميز باستواء سطحها .....  
( السهول - الواحات - الجبال - الأودية )
36. سهول كونتها الأنهار عن طريق ترسيب المواد العالقة بها .....  
( الأودية الجافة - السهول الصحراوية - السهول الفيضية - السهول الساحلية )
37. من السهول الغنية بالثروات المعدنية ومصادر الطاقة سهول .....  
( البحر المتوسط - البحر الأحمر - المحيط الأطلنطى - المحيط الهندى )
38. سهول ..... من السهول الصالحة للزراعة .  
( البحر المتوسط - البحر الأحمر - المحيط الأطلنطى - المحيط الهندى )



**ضع علامة (✓) أو (×) مع التصويب :**

1. التعرية المائية والتعرية الهوائية من العوامل الداخلية التي تؤثر على تشكيل سطح الوطن العربى. ( )
2. الحركات الالتوائية من العوامل الباطنية التي تؤثر على تشكيل سطح الوطن العربى. ( )
3. تظهر الهضاب البركانية بوضوح فى دولة اليمن. ( )
4. أدت الثورات البركانية إلى تأثير مظاهر سطح الوطن العربى فى الشمال. ( )
5. ينتج عن التعرية الهوائية أشكال سطح متعددة مثل دالات الأنهار. ( )
6. تُعد دلتا نهر النيل من آثار التعرية المائية بالوطن العربى. ( )
7. تُعد الكثبان الرملية من آثار التعرية الهوائية بالوطن العربى. ( )
8. الجبال الالتوائية نشأت نتيجة حدوث انكسار فى طبقات القشرة الأرضية. ( )
9. من الجبال الالتوائية بالوطن العربى جبال عمان. ( )
10. من أمثلة الجبال الانكسارية جبال أطلس. ( )
11. تُعد جبال أطلس جبال التوائية. ( )
12. جبال الوطن العربى فى الجزء الشمالى الغربى نتجت عن حركات التوائية. ( )
13. تمتد جبال الشام فى ثلاث دول أفريقية. ( )
14. تقع جبال أطلس بالجناح العربى الأفريقى. ( )
15. تتكون جبال أطلس من مجموعة سلاسل جبلية ومن أهمها جبال أطلس الصحراء فى الشمال. ( )
16. تقع هضبة الشطوط فى دولة تونس. ( )
17. تقع جبال البحر الأحمر فى جناح الوطن العربى الأفريقى والآسيوى. ( )
18. تعرف جبال البحر الأحمر فى السعودية بجبال كردستان وزاجروس. ( )
19. توجد هضبة اليمن فى شمال الجناح الآسيوى. ( )
20. تمتد جبال عسير على الساحل الشرقى للبحر الأحمر. ( )
21. تمتد جبال الشام على طول الساحل الغربى للبحر المتوسط. ( )
22. تقع جبال الشام فى الجناح العربى الآسيوى. ( )



23. تحصر جبال البحر الأحمر بينها عدة سهول تجرى بها عدة أنهار منها العاصى والليطاني .
24. تمتد جبال الشام وأطلس بمحاذاة سواحل البحار . ( )
25. تمتد هضبة الشطوط من جبال البحر الأحمر شرقاً إلى المحيط الأطلنطى غرباً . ( )
26. تعد هضبة الشطوط أهم مظاهر هضبة أفريقيا الشمالية ( )
27. تُعد هضبة نجد من هضاب الجناح الأفريقي . ( )
28. تقع هضبة نجد في وسط ليبيا . ( )
29. تقع هضبة حضر موت شمال شبه الجزيرة العربية . ( )
30. تتميز هضاب الوطن العربى بوجود الواحات والأودية الجافة عليها . ( )
31. من أهم الواحات في ليبيا واحة سيوة . ( )
32. وادى العلاقى من أمثلة الأودية الجافة في مصر . ( )
33. من السهول الفيضية في الوطن العربى سهول نهري دجلة والفرات في العراق . ( )
34. السهول الفيضية تمتد على البحار والمحيطات . ( )
35. السهول المطلة على الخليج العربى من السهول الساحلية بالجناح العربى الأفريقي . ( )
36. تتميز السهول الفيضية بمصر والعراق بالتربة الخصبة لذلك ترتفع بها الكثافة السكانية . ( )
37. السهول الساحلية أكثر تنوعاً في مواردها الاقتصادية من السهول الفيضية . ( )
38. سهول البحر المتوسط من السهول الغنية بالثروات المعدنية ومصادر الطاقة . ( )

### بم تفسر ...

1. تكون الكثبان الرملية في وطننا العربى ؟

2. تكون دالات الأنهار بالوطن العربى ؟





3. تنوع تضاريس الوطن العربي ؟
4. أهمية الواحات في الوطن العربي ؟
5. واحة سيوة أهلة بالسكان ؟
6. أهمية الأودية الجافة في الوطن العربي ؟
7. سهولة الحصول على المياه الجوفية من مناطق الأودية الجافة ؟
8. تكون السهول الفيضية في الوطن العربي ؟
9. للسهول الفيضية أهمية كبيرة بالوطن العربي ؟
10. أهمية سهول البحر الأحمر والخليج العربي ؟
11. الأهمية الاقتصادية للسهول الساحلية في الوطن العربي ؟

### (د) ما النتائج المترتبة على ..

1. تعرض الوطن العربي لحركات التوائية وانكسارية ؟
2. الثروات البركانية في الوطن العربي ؟
4. ترسيب المواد العالقة بمياه الأنهار على جانبيها ؟
5. التعرية الهوائية على سطح الوطن العربي ؟
6. خصوبة التربة في السهول الفيضية في الوطن العربي ؟
7. تنوع أشكال ومظاهر السطح في وطننا العربي ؟

دعواتكم لأبي بالرحمة والمغفرة



## تضاريس وطننا العربي

للشرح ودروس الاون لاين

01207304523

اختر الإجابة الصحيحة مما بين القوسين:

1. من العوامل الباطنية التي تؤثر في تشكيل سطح الوطن العربي .....  
( التعرية المائية - الحركات الانكسارية - التعرية الهوائية - التعرية الجليدية )
2. الحركات التي أدت إلى تكوين سلاسل جبلية مرتفعة .....  
( التعرية الهوائية - التكوينات الجيولوجية - التعرية المائية - الحركات الالتوائية )
3. أدى تعرض الصخور الصلبة الأرضية بالوطن العربي لحركات باطنية إلى تكوين .....  
( جبال التوائية - جبال بركانية - جبال انكسارية - سهول فيضية )
4. تظهر الهضاب البركانية بوضوح في دولة .....  
( عمان - المغرب - اليمن - مصر )
5. أدت الثورات البركانية إلى تأثر مظاهر سطح الوطن العربي في .....  
( الشرق - الشمال - الغرب - الجنوب )
6. من العوامل الخارجية التي تؤثر في تشكيل سطح الوطن العربي .....  
( الحركات الالتوائية - التعرية الهوائية - الحركات الانكسارية - الثورات البركانية )
7. تتمثل التعرية ..... في نحت الماء للصخور.  
( المائية - الهوائية - الجليدية - البركانية )
8. ينتج عن التعرية الهوائية العديد من الأشكال مثل .....  
( الدالات - الكثبان الرملية - الشواطىء - جميع ما سبق )
9. الجبال التي نشأت نتيجة الحركات الالتوائية الباطنية التي تعرضت لها القشرة الأرضية.....  
( الجبال الالتوائية - الجبال الانكسارية - الجبال البركانية - جميع ما سبق )
10. من الجبال الالتوائية في الوطن العربي جبال .....  
( البحر الأحمر - كردستان - الشام - اليمن )
11. من الجبال الانكسارية في وطننا العربي جبال .....  
( الشام - كردستان - زاجروس - أطلس )
12. تمتد جبال ..... من الغرب للشرق بالجناح العربي الأفريقي .  
( عمان - الشام - البحر الأحمر - أطلس )



13. جبال الوطن العربى فى الجزء الشمالى الغربى نتجت عن .....
- ( حركات انكسارية - حركات التوائية - تعرية بحرية - ثورانات بركانية )
14. تمتد جبال ..... فى ثلاثة دول عربية بالجناح الأفريقى .
- ( البحر الأحمر - الحجاز - عسير - أطلس )
15. تقع هضبة الشطوط فى دولة .....
- ( المغرب - موريتانيا - تونس - الجزائر )
16. تقع هضبة الشطوط بين سلاسل جبال .....
- ( البحر الأحمر - الحجاز - عسير - أطلس )
17. تقع جبال ..... فى جناح الوطن العربى .
- ( البحر الأحمر - أطلس - الشام - عمان )
18. يقع شرق البحر الأحمر جبال .....
- ( الشام - الحجاز - أطلس - عمان )
19. تمتد جبال ..... على الساحل الشرقى للبحر الأحمر .
- ( عسير - البحر الأحمر - الشام - أطلس )
20. تعرف جبال البحر الأحمر فى الجزء الجنوب الغربى من الجناح الآسيوى باسم مرتفعات .....
- ( الحجاز - اليمن - عسير - نجد )
21. تمتد جبال ..... على طول الساحل الشرقى للبحر المتوسط .
- ( أطلس - الحجاز - الشام - عمان )
22. تحصر جبال الشام سهول تجرى فيها أنهار مثل نهر الليطانى فى ..... والعاصى فى .....
- ( سوريا والعراق - اليمن وعمان - لبنان والعراق - لبنان وسوريا )
23. تمتد جبال ..... بمحاذاة سواحل البحار .
- ( الشام وأطلس - الشام وزاجروس - زاجروس وكردستان - كردستان والبحر الأحمر )
24. تعد هضبة ..... أهم مظاهر هضبة أفريقيا الشمالية .
- ( نجد - حضر موت - الشطوط - بادية الشام )
25. تعد هضبة ..... من هضاب الجناح الأفريقى .
- ( نجد - حضر موت - الشطوط - بادية الشام )

جروب الفيسبوك

الدراسات الاجتماعية مع  
مستر مصطفى مسلم



26. من هضاب الجناح الآسيوى هضبة .....
- ( نجد - حضر موت - بادية الشام - جميع ما سبق )
27. تقع هضبة ..... وسط شبه الجزيرة العربية .
- ( نجد - حضر موت - الشطوط - بادية الشام )
28. أى من المظاهر التضاريسية التالية يمر بها مدار السرطان .....
- ( هضبة الشطوط - هضبة حضرموت - جبال أطلس - هضبة نجد )
29. أى من المظاهر التضاريسية التالية هى الأقرب للبحر المتوسط .....
- ( جبال زاغروس - جبال البحر الأحمر - هضبة الشطوط - هضبة نجد )
30. أكبر الظاهرات التضاريسية مساحة فى الوطن العربى .....
- ( جبال أطلس - جبال البحر الأحمر - هضبة نجد - هضبة أفريقيا الشمالية )
31. الظاهرة التضاريسية التى توجد فى جناحى الوطن العربى الآسيوى والأفريقي معاً .....
- ( هضبة نجد - جبال كردستان - جبال البحر الأحمر - سهول نهر النيل )
32. أرض منخفضة فى الصحراء صالحة للحياة وتعتمد على المياه الجوفية .....
- ( الواحات - الأودية الجافة - الكثبان الرملية - الدالات )
33. تقع واحة الكفرة فى .....
- ( السعودية - مصر - اليمن - ليبيا )
34. يعد وادى ..... من أشهر الأودية الجافة فى مصر .
- ( النيل - الفرات - العلاقى - العاصى )
35. أرض سهلية منبسطة من سطح اليابس وتتميز باستواء سطحها .....
- ( السهول - الواحات - الجبال - الأودية )
36. سهول كونتها الأنهار عن طريق ترسيب المواد العالقة بها .....
- ( الأودية الجافة - السهول الصحراوية - السهول الفيضية - السهول الساحلية )
37. من السهول الغنية بالثروات المعدنية ومصادر الطاقة سهول .....
- ( البحر المتوسط - البحر الأحمر - المحيط الأطلنطى - المحيط الهندى )
38. سهول ..... من السهول الصالحة للزراعة .
- ( البحر المتوسط - البحر الأحمر - المحيط الأطلنطى - المحيط الهندى )



**ضع علامة (✓) أو (x) مع التصويب :**

1. التعرية المائية والتعرية الهوائية من العوامل الداخلية التي تؤثر على تشكيل سطح الوطن العربي. (x) **الخارجية**
2. الحركات الالتوائية من العوامل الباطنية التي تؤثر على تشكيل سطح الوطن العربي. (✓)
3. تظهر الهضاب البركانية بوضوح في دولة اليمن. (✓)
4. أدت الثورات البركانية إلى تأثر مظاهر سطح الوطن العربي في الشمال. (x) **الجنوب**
5. ينتج عن التعرية الهوائية أشكال سطح متعددة مثل دالات الأنهار. (x) **المائية**
6. تُعد دلتا نهر النيل من آثار التعرية المائية بالوطن العربي. (✓)
7. تُعد الكثبان الرملية من آثار التعرية الهوائية بالوطن العربي. (✓)
8. الجبال الالتوائية نشأت نتيجة حدوث انكسار في طبقات القشرة الأرضية. (x) **الانكسارية**
9. من الجبال الالتوائية بالوطن العربي جبال عمان. (✓)
10. من أمثلة الجبال الانكسارية جبال أطلس. (x) **الشام**
11. تُعد جبال أطلس جبال التوائية. (✓)
12. جبال الوطن العربي في الجزء الشمالى الغربى نتجت عن حركات التوائية. (✓)
13. تمتد جبال الشام في ثلاث دول أفريقية. (x) **أطلس**
14. تقع جبال أطلس بالجناح العربى الأفريقى. (✓)
15. تتكون جبال أطلس من مجموعة سلاسل جبلية ومن أهمها جبال أطلس الصحراء فى الشمال. (x) **الجنوب**
16. تقع هضبة الشطوط فى دولة تونس. (x) **الجزائر**
17. تقع جبال البحر الأحمر فى جناح الوطن العربى الأفريقى والآسيوى. (✓)
18. تعرف جبال البحر الأحمر فى السعودية بجبال كردستان و زاجروس. (x) **حجاز وعسير**
19. توجد هضبة اليمن فى شمال الجناح الآسيوى. (x) **جنوب**
20. تمتد جبال عسير على الساحل الشرقى للبحر الأحمر. (✓)
21. تمتد جبال الشام على طول الساحل الغربى للبحر المتوسط. (x) **الشرقى**
22. تقع جبال الشام فى الجناح العربى الآسيوى. (✓)



23. تحصر جبال البحر الأحمر بينها عدة سهول تجرى بها عدة أنهار منها العاصي والليطاني .  
(x) الشام

24. تمتد جبال الشام وأطلس بمحاذاة سواحل البحار . (✓)

25. تمتد هضبة الشطوط من جبال البحر الأحمر شرقاً إلى المحيط الأطلنطي غرباً . (x)  
هضبة أفريقيا الشمالية

26. تعد هضبة الشطوط أهم مظاهر هضبة أفريقيا الشمالية (✓)

27. تُعد هضبة نجد من هضاب الجناح الأفريقي . (x) الآسيوى

28. تقع هضبة نجد في وسط ليبيا . (x) شبه الجزيرة العربية

29. تقع هضبة حضر موت شمال شبه الجزيرة العربية . (x) جنوب

30. تتميز هضاب الوطن العربي بوجود الواحات والأودية الجافة عليها . (✓)

31. من أهم الواحات في ليبيا واحة سيوة . (x) الكفرة

32. وادى العلاقي من أمثلة الأودية الجافة في مصر . (✓)

33. من السهول الفيضية في الوطن العربي سهول نهري دجلة والفرات في العراق . (✓)

34. السهول الفيضية تمتد على البحار والمحيطات . (x) الساحلية

35. السهول المطلة على الخليج العربي من السهول الساحلية بالجناح العربي الأفريقي . (x)  
الآسيوى

36. تتميز السهول الفيضية بمصر والعراق بالتربة الخصبة لذلك ترتفع بها الكثافة السكانية . (✓)

37. السهول الساحلية أكثر تنوعاً في مواردها الاقتصادية من السهول الفيضية . (✓)

38. سهول البحر المتوسط من السهول الغنية بالثروات المعدنية ومصادر الطاقة . (x) الأحمر



**بم تفسر....**

1. تكون الكثبان الرملية في وطننا العربي ؟

بسبب تعرض سطح الوطن العربي للتعرية الهوائية , حيث تنحت الرياح الصخور ثم تنقلها وترسبها ما ينتج عنها أشكال سطح متعددة كالكثبان الرملية .

2. تكون دالات الأنهار بالوطن العربي ؟

بسبب نحت الماء للصخور ونقلها وإرسابها

3. تنوع تضاريس الوطن العربي ؟

بسبب اختلاف عوامل تشكيل سطح الوطن العربي ما بين عوامل باطنية (حركات التوائية – حركات انكسارية – ثورات بركانية ) وعوامل خارجية (تعرية مائية – تعرية هوائية )

4. أهمية الواحات في الوطن العربي ؟

بسبب وجود مياه الآبار والعيون العذبة أراضى خصبة صالحة للزراعة وبالتالي يعمل سكانها بالزراعة وتربية الحيوانات

5. واحة سيوة أهلة بالسكان ؟

بسبب وجود الأراضى الخصبة الصالحة للزراعة والمياه الجوفية العذبة

6. أهمية الأودية الجافة في الوطن العربي ؟

لأنها تستخدم كطرق للمواصلات , يسهل الحصول منها على المياه الجوفية

7. سهولة الحصول على المياه الجوفية من مناطق الأودية الجافة ؟

لأن المياه كانت تجرى بها قديما فتسربت إلى باطن الأرض وكونت المياه الجوفية

8. تكون السهول الفيضية في الوطن العربي ؟

بسبب ترسيب الأنهار للمواد العالقة بمياهها على جانبيها



9. للسهول الفيضية أهمية كبيرة بالوطن العربي ؟

لأن تربتها خصبة صالحة للزراعة وترتفع بها الكثافة السكانية

10. أهمية سهول البحر الأحمر والخليج العربي ؟

لأنها يُستخرج منها الثروات المعدنية ومصادر الطاقة

11. الأهمية الاقتصادية للسهول الساحلية في الوطن العربي ؟

بسبب تنوع مواردها واستخداماتها فبعضها صالح للزراعة مثل سهول البحر المتوسط وبعضها ملئ بالثروات المعدنية ومصادر الطاقة مثل سهول البحر الأحمر والخليج العربي

### (د) ما النتائج المترتبة على ...

1. تعرض الوطن العربي لحركات التوائية وانكسارية ؟

- ترتب على تعرض الوطن العربي لحركات التوائية تكوين السلاسل الجبلية الالتوائية مثل جبال أطلس وجبال عمان وكردستان وزاجروس

- بينما أدى تعرض الوطن العربي لحركات انكسارية إلى تكوين السلاسل الجبلية الانكسارية مثل جبال البحر الأحمر وجبال الشام

جروب الفيسبوك

الدراسات الاجتماعية مع  
مستر مصطفى مسلم

2. الثروات البركانية في الوطن العربي ؟

أدت إلى ظهور الجبال والهضاب البركانية مثل: هضبة اليمن

4. ترسيب المواد العالقة بمياه الأنهار على جانبيها ؟

أدى إلى تكوين السهول الفيضية التي تتميز بتربتها الخصبة الصالحة للزراعة وترتفع بها الكثافة السكانية

5. التعرية الهوائية على سطح الوطن العربي ؟

أدى ذلك إلى ظهور أشكال سطح متعددة مثل الكثبان الرملية



6. خصوبة التربة في السهول الفيضية في الوطن العربي ؟

ترتب على ذلك صلاحيتها للزراعة وبالتالي ارتفاع الكثافة السكانية بها

7. تنوع أشكال ومظاهر السطح في وطننا العربي ؟

أدى ذلك إلى : - تنوع الموارد الاقتصادية في الوطن العربي

- تنوع توزيع السكان في الوطن العربي

دعواتكم لأبي بالرحمة والمغفرة

مصطفى مسلم



## السؤال الأول

اختر الإجابة الصحيحة مما بين القوسين :

(١) كان العالم قبل مجئ النبي محمد ﷺ يعم فيه ..... بين جميع الأجناس.

(المساواة - العدل - الظلم - المحبة)

(٢) كثرت العبادات الوثنية في دولة .....

(الروم - الفرس - الهند - شبه الجزيرة العربية)

(٣) من البلاد التي احتلتها دولة الفرس قبل ظهور الإسلام دولة .....

(العراق - مصر - بلاد الشام - الهند)

(٤) وقعت ..... تحت سيطرة الفرس قبل ظهور الإسلام. (اليمن - الشام - مصر - يثرب)

(٥) كانت المسيحية هي الديانة الرسمية لدولة .....

(الروم - الفرس - الهند - شبه الجزيرة العربية)

(٦) من البلاد التي احتلتها دولة الروم قبل ظهور الإسلام دولة .....

(اليمن - العراق - الهند - مصر)

(٧) اهتم الرومان بالسيطرة على .....

(اليمن والعراق - حوض البحر المتوسط - شبه الجزيرة العربية - شرق أفريقيا)

(٨) انتشر تقديس البقر والزواحف وغيرها قبل ظهور الإسلام عند .....

(الروم - الفرس - الهنود - العرب)

(٩) تعتبر ..... إحدى الحضارات التي قامت في شمال شبه الجزيرة العربية قبل الإسلام.



(معين - حمير - سبأ - الحيرة)

(١٠) قامت في شمال شبه الجزيرة العربية مملكة ..... ( سبأ - معين - حمير - الغساسنة )

(١١) أي مما يلي تقع بجنوب شبه الجزيرة العربية واتخذت من النظام الملكي نظاماً للحكم.....

(الحيرة - يثرب - حمير - الغساسنة)

(١٢) ظهر النظام الملكي في الحكم في بعض مناطق شبه الجزيرة العربية في .....

(الشمال والغرب - الجنوب والغرب - الشمال والشرق - الجنوب والشمال)

(١٣) تعددت المدن التي ظهرت في غرب شبه الجزيرة العربية قبل الإسلام ومنها .....

(الحيرة - حمير - يثرب - سبأ)

(١٤) كانت ..... هي عبادة الله الواحد الأحد على دين سيدنا إبراهيم عليه السلام.

(اليهودية - المسيحية - الحنيفية - الوثنية)

(١٥) عرف أهل شبه الجزيرة العربية التوحيد قبل عبادة الأصنام لأن هذه المنطقة كانت .....

(هادئة بعيدة عن الصراعات - مهد لكثير من الأنبياء -

مهد للعديد من الحضارات - ذات موقع جغرافي متميز)

(١٦) انتشرت الديانة ..... في أجزاء قليلة من شبه الجزيرة العربية قبل ظهور الإسلام.

(الإسلامية - الحنيفية - الوثنية - اليهودية)

(١٧) أي من العبادات التالية كانت محدودة الانتشار في شبه الجزيرة العربية .....

(اليهودية والمسيحية - الحنيفية والمسيحية - الأصنام واليهودية - الأصنام والمسيحية)

(١٨) كان النظام ..... هو النظام السياسي السائد في شبه الجزيرة العربية قبل الإسلام.



(الملكى - الجمهورى - القبلى - الطبقي )

(١٩) من أشهر القبائل فى شبه الجزيرة العربية قبيلة ..... بمكة

(القواسم - قريش - قحطان - بنى قسر )

(٢٠) كانت حرفة ..... الحرفة السائدة فى شبه الجزيرة العربية قبل الإسلام.

(الرعى - الزراعة - الصناعة - التجارة )

(٢١) كان الرعى أكثر الحرف انتشاراً فى شبه الجزيرة العربية قبل الإسلام نتيجة.....

(الاهتمام بالتجارة - البيئة الصحراوية - النظام القبلى - ندرة الأمطار فى الجنوب )

(٢٢) كان سكان مدينة ..... أكثر سكان شبه الجزيرة العربية مكانة تجارية.

(الطائف - نجران - يثرب - مكة )

(٢٣) كان سكان ..... أكثر سكان شبه الجزيرة العربية مكانة تجارية.

(يثرب - مكة - الطائف - تبوك )

(٢٤) كان أهل مكة يقومون برحلة الشتاء إلى بلاد ..... ورحلة الصيف إلى بلاد .....

(مصر ، عمان - الشام ، اليمن - اليمن ، الأردن - اليمن ، الشام )

(٢٥) اتجهت الرحلات التجارية بين مكة وجيرانها جهتي .....

(الشمال والغرب - الجنوب والغرب - الشمال والجنوب - الجنوب والشرق )

(٢٦) أشهر شعراء العرب .....

(النابغة الذبياني - لبيد بن ربيعة - بن الطفيل - عنتره )

01207304523

(٢٧) ارتبط الشعر والخطابة عند العرب قبل الإسلام بالنشاط .....



(الرعى - الصناعى - التجارى - الزراعى)

(٢٨) من أشهر أسواق العرب .....

( السراى - الشورجة - عكاظ - نجد )

(٢٩) من الأخلاق الحميدة التى اتصف بها العرب .....

( حماية الجار - الأخذ بالثأر - لعب الميسر - وأد البنات )

(٣٠) من العادات السيئة عند العرب .....

(وأد البنات - الصبر - حماية الجار - العفو)

ضع علامة (✓) أمام العبارة الصحيحة ، وعبارة (×) أمام العبارة غير الصحيحة :

السؤال الثانى

- ( ) (١) كان العالم قبل مجئ النبى محمد ﷺ يعم فيه العدل والمساواة .
- ( ) (٢) كان العالم فى حاجة إلى مجئ محمد ﷺ .
- ( ) (٣) كثرت العبادات الوثنية فى دولة الروم .
- ( ) (٤) احتلت دولة الروم بلاد اليمن والعراق .
- ( ) (٥) انتشرت الديانة المسيحية بدولة الفرس .
- ( ) (٦) احتلت دولة الروم بلاد مصر وبلاد الشام .
- ( ) (٧) كان سكان شبه الجزيرة العربية يقدسون البقر والزواحف .
- ( ) (٨) من الحضارات القديمة التى ظهرت فى شبه الجزيرة العربية حضارة عاد وثمود .
- ( ) (٩) تُعد سبأ وحمير ومعين من أشهر ممالك شمال شبه الجزيرة العربية قبل ظهور الإسلام .
- ( ) (١٠) قامت مدن مكة ويثرب جنوب شبه الجزيرة العربية .
- ( ) (١١) كانت شبه الجزيرة العربية مهداً لكثير من الأنبياء .

01207304523



- ( ) (١٢) عرف أهل شبه الجزيرة العربية عبادة الأصنام قبل دين إبراهيم عليه السلام.
- ( ) (١٣) عرف أهل مكة التوحيد والإيمان بالله ومع مرور الزمن عرفوا عبادة الأصنام.
- ( ) (١٤) انتشرت الديانة اليهودية والمسيحية في أجزاء قليلة من شبه الجزيرة العربية.
- ( ) (١٥) كان النظام القبلي هو النظام السياسي السائد في معظم شبه الجزيرة العربية.
- ( ) (١٦) من أشهر القبائل في شبه الجزيرة العربية قبيلة قريش بيثرب.
- ( ) (١٧) كانت حرفة الزراعة هي الحرفة السائدة في شبه الجزيرة العربية.
- ( ) (١٨) حقق أهل شبه الجزيرة العربية الاكتفاء الذاتي من المحاصيل الزراعية.
- ( ) (١٩) عرف العرب قبل الإسلام صناعة الرماح والسيوف.
- ( ) (٢٠) كان أهل مكة أكثر سكان شبه الجزيرة العربية مكانة تجارية.
- ( ) (٢١) كان أهل مكة يقومون برحلة الشتاء إلى بلاد الشام.
- ( ) (٢٢) لعبت مكة دور الوسيط التجاري بين شمال وجنوب شبه الجزيرة العربية قبل الإسلام.
- ( ) (٢٣) اقتصر الأسواق في شبه الجزيرة العربية قبل الإسلام على التجارة.
- ( ) (٢٤) أنقسم المجتمع العربي قبل ظهور الإسلام إلى بدو وحضر.
- ( ) (٢٥) الصبر من الأخلاق الحميدة التي اتصف بها العرب.
- ( ) (٢٦) من العادات السيئة عند العرب الأخذ بالثأر.
- ( ) (٢٧) يُعد وأد البنات وشرب الخمر من العادات السيئة عن العرب قبل الإسلام.
- ( ) (٢٨) حظيت بعض النساء بمكانة متميزة في المجتمع العربي قبل الإسلام.

بم تفسر .. ؟

السؤال الثالث

(١) كان العالم في حاجة إلى مجيء محمد ﷺ ؟

01207304523



(٢) \* سيادة النظام القبلي في شبه الجزيرة العربية قبل الإسلام .

\* كان النظام القبلي هو النظام السياسي السائد في شبه الجزيرة العربية.

(٣) المكانة التجارية المتميزة لمكة قبل الإسلام.

(٤) أهمية الأسواق عند العرب قبل الإسلام في شبه الجزيرة العربية.

(٥) سيادة حرفة الرعي في شبه الجزيرة العربية.

السؤال الرابع ما النتائج التي ترتبت على ..؟

(١) ندرة الأمطار في شبه الجزيرة العربية.

نسألکم الدعاء لأبي بالرحمة والمغفرة 🙏

دلل

السؤال الخامس

(١) سيطر الفرس على مناطق متباعدة.

(٢) كانت شبه الجزيرة العربية أرض الحضارات والأنبياء ؟

(٣) تعددت الديانات والعبادات في شبه الجزيرة العربية قبل الإسلام ؟

(٤) كان هناك علاقات تجارية بين أهل مكة والإمبراطورية الرومانية.

(٥) اتصف العرب قبل الإسلام بالاخلاق الحميدة كما كان لديهم بعض العادات السيئة

(٦) كان للأسواق عند العرب قبل الإسلام وظائف متعددة. 01207304523



## السؤال الأول

اختر الإجابة الصحيحة مما بين القوسين :

(١) كان العالم قبل مجئ النبي محمد ﷺ يعم فيه ..... بين جميع الأجناس.

(المساواة - العدل - الظلم - المحبة)

(٢) كثرت العبادات الوثنية في دولة .....

(الروم - الفرس - الهند - شبه الجزيرة العربية)

(٣) من البلاد التي احتلتها دولة الفرس قبل ظهور الإسلام دولة .....

(العراق - مصر - بلاد الشام - الهند)

(٤) وقعت ..... تحت سيطرة الفرس قبل ظهور الإسلام. (اليمن - الشام - مصر - يثرب)

(٥) كانت المسيحية هي الديانة الرسمية لدولة .....

(الروم - الفرس - الهند - شبه الجزيرة العربية)

(٦) من البلاد التي احتلتها دولة الروم قبل ظهور الإسلام دولة .....

(اليمن - العراق - الهند - مصر)

(٧) اهتم الرومان بالسيطرة على .....

(اليمن والعراق - حوض البحر المتوسط - شبه الجزيرة العربية - شرق أفريقيا)

(٨) انتشر تقديس البقر والزواحف وغيرها قبل ظهور الإسلام عند .....

(الروم - الفرس - الهنود - العرب)

(٩) تعتبر ..... إحدى الحضارات التي قامت في شمال شبه الجزيرة العربية قبل الإسلام.



(معين - حمير - سبأ - الحيرة)

(١٠) قامت في شمال شبه الجزيرة العربية مملكة ..... ( سبأ - معين - حمير - الغساسنة )

(١١) أي مما يلي تقع بجنوب شبه الجزيرة العربية واتخذت من النظام الملكي نظاماً للحكم.....

(الحيرة - يثرب - حمير - الغساسنة)

(١٢) ظهر النظام الملكي في الحكم في بعض مناطق شبه الجزيرة العربية في .....

(الشمال والغرب - الجنوب والغرب - الشمال والشرق - الجنوب والشمال)

(١٣) تعددت المدن التي ظهرت في غرب شبه الجزيرة العربية قبل الإسلام ومنها .....

(الحيرة - حمير - يثرب - سبأ)

(١٤) كانت ..... هي عبادة الله الواحد الأحد على دين سيدنا إبراهيم عليه السلام.

(اليهودية - المسيحية - الحنيفية - الوثنية)

(١٥) عرف أهل شبه الجزيرة العربية التوحيد قبل عبادة الأصنام لأن هذه المنطقة كانت .....

(هادئة بعيدة عن الصراعات - مهد لكثير من الأنبياء -

مهد للعديد من الحضارات - ذات موقع جغرافي متميز)

(١٦) انتشرت الديانة ..... في أجزاء قليلة من شبه الجزيرة العربية قبل ظهور الإسلام.

(الإسلامية - الحنيفية - الوثنية - اليهودية)

(١٧) أي من العبادات التالية كانت محدودة الانتشار في شبه الجزيرة العربية .....

(اليهودية والمسيحية - الحنيفية والمسيحية - الأصنام واليهودية - الأصنام والمسيحية)

(١٨) كان النظام ..... هو النظام السياسي السائد في شبه الجزيرة العربية قبل الإسلام.



(الملكى - الجمهورى - القبلى - الطبقي)

(١٩) من أشهر القبائل في شبه الجزيرة العربية قبيلة ..... بمكة

(القواسم - قريش - قحطان - بنى قسر)

(٢٠) كانت حرفة ..... الحرفة السائدة في شبه الجزيرة العربية قبل الإسلام.

(الرعى - الزراعة - الصناعة - التجارة)

(٢١) كان الرعى أكثر الحرف انتشاراً في شبه الجزيرة العربية قبل الإسلام نتيجة.....

(الاهتمام بالتجارة - البيئة الصحراوية - النظام القبلى - ندرة الأمطار في الجنوب)

(٢٢) كان سكان مدينة ..... أكثر سكان شبه الجزيرة العربية مكانة تجارية.

(الطائف - نجران - يثرب - مكة)

(٢٣) كان سكان ..... أكثر سكان شبه الجزيرة العربية مكانة تجارية.

(يثرب - مكة - الطائف - تبوك)

(٢٤) كان أهل مكة يقومون برحلة الشتاء إلى بلاد ..... ورحلة الصيف إلى بلاد .....

(مصر ، عمان - الشام ، اليمن - اليمن ، الأردن - اليمن ، الشام)

(٢٥) اتجهت الرحلات التجارية بين مكة وجيرانها جهتي .....

(الشمال والغرب - الجنوب والغرب - الشمال والجنوب - الجنوب والشرق)

(٢٦) أشهر شعراء العرب .....

(النابغة الذبياني - لبيد بن ربيعة - بن الطفيل - عنتر)

01207304523

(٢٧) ارتبط الشعر والخطابة عند العرب قبل الإسلام بالنشاط .....



(الرعى - الصناعي - التجاري - الزراعى)

(٢٨) من أشهر أسواق العرب .....

( السراى - الشورجة - عكاظ - نجد )

(٢٩) من الأخلاق الحميدة التى اتصف بها العرب .....

( حماية الجار - الأخذ بالثأر - لعب الميسر - وأد البنات )

(٣٠) من العادات السيئة عند العرب .....

(وأد البنات - الصبر - حماية الجار - العفو)

ضع علامة (✓) أمام العبارة الصحيحة ، وعبارة (×) أمام العبارة غير الصحيحة :

السؤال الثانى

- (×) (١) كان العالم قبل مجئ النبى محمد ﷺ يعم فيه العدل والمساواة .
- (✓) (٢) كان العالم فى حاجة إلى مجئ محمد ﷺ .
- (×) (٣) كثرت العبادات الوثنية فى دولة الروم .
- (×) (٤) احتلت دولة الروم بلاد اليمن والعراق .
- (×) (٥) انتشرت الديانة المسيحية بدولة الفرس .
- (✓) (٦) احتلت دولة الروم بلاد مصر وبلاد الشام .
- (×) (٧) كان سكان شبه الجزيرة العربية يقدسون البقر والزواحف .
- (✓) (٨) من الحضارات القديمة التى ظهرت فى شبه الجزيرة العربية حضارة عاد وثمود .
- (×) (٩) تُعد سبأ وحمير ومعين من أشهر ممالك شمال شبه الجزيرة العربية قبل ظهور الإسلام .
- (×) (١٠) قامت مدن مكة ويثرب جنوب شبه الجزيرة العربية .
- (✓) (١١) كانت شبه الجزيرة العربية مهذاً لكثير من الأنبياء .

01207304523



- (١٢) عرف أهل شبه الجزيرة العربية عبادة الأصنام قبل دين إبراهيم عليه السلام. (x)
- (١٣) عرف أهل مكة التوحيد والإيمان بالله ومع مرور الزمن عرفوا عبادة الأصنام. (✓)
- (١٤) انتشرت الديانة اليهودية والمسيحية في أجزاء قليلة من شبه الجزيرة العربية. (✓)
- (١٥) كان النظام القبلي هو النظام السياسي السائد في معظم شبه الجزيرة العربية. (✓)
- (١٦) من أشهر القبائل في شبه الجزيرة العربية قبيلة قريش بيثرب. (x)
- (١٧) كانت حرفة الزراعة هي الحرفة السائدة في شبه الجزيرة العربية. (x)
- (١٨) حقق أهل شبه الجزيرة العربية الاكتفاء الذاتي من المحاصيل الزراعية. (x)
- (١٩) عرف العرب قبل الإسلام صناعة الرماح والسيوف. (✓)
- (٢٠) كان أهل مكة أكثر سكان شبه الجزيرة العربية مكانة تجارية. (✓)
- (٢١) كان أهل مكة يقومون برحلة الشتاء إلى بلاد الشام. (x)
- (٢٢) لعبت مكة دور الوسيط التجاري بين شمال وجنوب شبه الجزيرة العربية قبل الإسلام. (✓)
- (٢٣) اقتصر الأسواق في شبه الجزيرة العربية قبل الإسلام على التجارة. (x)
- (٢٤) أنقسم المجتمع العربي قبل ظهور الإسلام إلى بدو وحضر. (✓)
- (٢٥) الصبر من الأخلاق الحميدة التي اتصف بها العرب. (✓)
- (٢٦) من العادات السيئة عند العرب الأخذ بالثأر. (✓)
- (٢٧) يُعد وأد البنات وشرب الخمر من العادات السيئة عن العرب قبل الإسلام. (✓)
- (٢٨) حظيت بعض النساء بمكانة متميزة في المجتمع العربي قبل الإسلام. (✓)

بم تفسر .. ؟

السؤال الثالث

(١) كان العالم في حاجة إلى مجيء محمد ﷺ ؟

- لكي يرشد الناس إلى عبادة الله الواحد - ينشر قيم العدل والمساواة والتسامح والرحمة.

(٢) \*سيادة النظام القبلي في شبه الجزيرة العربية قبل الإسلام؟ 01207304523

\*كان النظام القبلي هو النظام السياسي السائد في شبه الجزيرة العربية ؟



-لأن شبه الجزيرة العربية كانت عبارة عن قبائل متفرقة لكل قبيلة شيخ يحكمها وقانون يحدد حقوق وواجبات كل فرد بها.

### (٣) المكانة التجارية المتميزة لمكة قبل الإسلام ؟

-لأن أهل مكة كانوا يقومون بتنظيم رحلتين هما رحلة الشتاء لبلاد اليمن ورحلة الصيف لبلاد الشام

### (٤) أهمية الأسواق عند العرب قبل الإسلام في شبه الجزيرة العربية ؟

شهرة سوق عكاظ وذى المجاز في شبه الجزيرة العربية

لأنها كانت ميدانا لتنافس الشعراء والخطباء وليست للتجارة فقط ومن أمثلة الأسواق

- سوق عكاظ. - سوق ذى المجاز.

### (٥) سيادة حرفة الرعي في شبه الجزيرة العربية.

لان شبه الجزيرة العربية منطقة صحراوية نادرة الأمطار.

## السؤال الرابع ما النتائج التي ترتبت على ..؟

### (١) ندرة الأمطار في شبه الجزيرة العربية.

ترتب على ذلك قلة الزراعة وانتشار حرفة الرعي.

## دلل

## السؤال الخامس

### (١) سيطر الفرس على مناطق متباعدة.

حيث سيطر الفرس على بلاد العراق في شمال شبه الجزيرة العربية وبلاد اليمن جنوب شبه الجزيرة العربية.

### (٢) كانت شبه الجزيرة العربية أرض الحضارات والأنبياء ؟

حيث : -قامت على أرضها حضارات قديمة مثل : حضارة قوم عاد وثمود

- كانت مهداً لكثير من الأنبياء مثل هود وصالح وشعيب وإبراهيم وإسماعيل عليهم السلام

### (٣) تعددت الديانات والعبادات في شبه الجزيرة العربية قبل الإسلام ؟

حيث ظهر في شبه الجزيرة العربية العديد من الديانات والعبادات منها :

الحنيفية : لقد بقي القليل عليها بعد انتشار الأصنام

عبادة الأصنام : عرفوها مع مرور الزمن واتخذت كل قبيلة صنم.

اليهودية والمسيحية : انتشرت في أجزاء قليلة من شبه الجزيرة العربية.



## (٤) كان هناك علاقات تجارية بين أهل مكة والإمبراطورية الرومانية.

حيث كان أهل مكة يقومون بتنظيم رحلة تجارية (رحلة الصيف) إلى بلاد الشام والتي كانت تقع تحت احتلال الإمبراطورية الرومانية.

## (٥) اتصف العرب قبل الإسلام بالاخلاق الحميدة كما كان لديهم بعض العادات السيئة

حيث: من الأخلاق الحميدة: - الشجاعة - الوفاء بالعهد - العفو عند المقدرة - حماية الجار - الصبر  
من العادات السيئة: - وأد البنات - شرب الخمر - لعب الميسر - الأخذ بالثأر

## (٦) كان للأسواق عند العرب قبل الإسلام وظائف متعددة.

حيث كانت مكاناً للتجارة بالإضافة إلى أنها كانت ميداناً للتنافس بين الشعراء والخطباء.

نسالكم الدعاء لأبي بالرحمة والمغفرة 🙏🙏

مصطفى مسلم

01207304523



## الدرس 1 محمد ﷺ المولد

(أ) اختر الإجابة الصحيحة مما بين القوسين

1. وُلد الرسول ﷺ في مدينة ..... عام 570م.

(يثرب - الطائف - مكة - الحجاز)

2. بنى أبرهة الحبشى كنيسة في .....

( الحبشة - اليمن - الشام - مكة )

3. تعرضت مكة عام 570 م لغزو خارجى من جهة .....

(الشمال - الجنوب - الشرق - الغرب )

4. وُلد ﷺ يتيمًا حيث مات أبوه أثناء عودته من رحلة تجارية لبلاد .....

(الشام - اليمن - الحجاز - الجزائر)

5. توفي والد الرسول ﷺ أثناء عودته من بلاد الشام ودفن في .....

(يثرب - الطائف - مكة - الحجاز)

6. توفي والد الرسول ﷺ أثناء عودته من رحلة تجارية في فصل .....

( الشتاء - الخريف - الربيع - الصيف )

7. دفن والد الرسول ﷺ بعد وفاته في مدينة مشهورة في .....

(شمال مكة - جنوب مكة - شرق مكة - غرب مكة)

8. يعود نسب الرسول ﷺ إلى .....

(يوسف ﷺ - إبراهيم ﷺ - نوح ﷺ - موسى ﷺ)

9. بعد وفاة آمنة بنت وهب أم الرسول ﷺ كفله .....



(أبو طالب - عبد الله - عبد المطلب - جميع ما سبق)

10. بعد وفاة عبد المطلب جد الرسول ﷺ كفله .....

(أبو طالب - عبد الله - عبد المطلب - جميع ما سبق)

11. كانت حرفة ..... الحرفة السائدة في شبه الجزيرة العربية قبل الإسلام.

(الزراعة - التجارة - الصناعة - الرعى)

12. عمل الرسول بحرفة ..... بعد حرفة الرعى .

( الزراعة - التجارة - الصناعة - التعدين )

13. اكتسب محمد ﷺ الصبر والتواضع والشجاعة من عمله بحرفة .....

(الزراعة - التجارة - الرعى - الصناعة)

14. رافق ..... الرسول ﷺ في رحلة تجارية إلى بلاد الشام ليتاجر بمال السيدة خديجة.

(زيد بن حارثة - ميسرة - ابو بكر الصديق - على بن أبي طالب)

15. أرسلت السيدة خديجة إلى محمد ﷺ ليخرج تاجراً بمالها إلى ..... مع غلامها ميسرة .

( مصر - اليمن - العراق - الشام )

(ب) ضع علامة (✓) أو (x) مع التصويب :

1. وُلد محمد ﷺ بمكة يوم الاثنين الموافق الثاني عشر من شهر ربيع الأول. ( )

2. عرف العام الذي ولد فيه الرسول ﷺ بعام الفيل. ( )

3. ولد الرسول ﷺ يتيماً حيث مات أبوه ودفن في مكة. ( )

4. كان اسم محمداً مألوفاً لدى العرب عند ولادة الرسول ﷺ. ( )

5. يمتد نسب الرسول ﷺ إلى إسماعيل بن إبراهيم عليه السلام. ( )



6. كان أشرف مكة يرسلون أبناءهم إلى الحضر ليكتسبوا فصاحة اللسان وقوة البنيان. ( )
7. أرسل محمد ﷺ للعيش في البادية عند مرضعته حليلة السعدية. ( )
8. مكث الرسول ﷺ عند حليلة السعدية ثلاث سنوات . ( )
9. بعد وفات آمنة بنت وهب كفل الرسول ﷺ عمه أبو طالب. ( )
10. بعد وفات جد الرسول ﷺ كفله عمه أوب طالب. ( )
11. عمل محمد ﷺ في طفولته بالتجارة ليساعد عمه ويخفف عنه العبء. ( )
12. تعلم محمد ﷺ من حرفة الرعى الصبر والتواضع. ( )
13. عُرف الرسول ﷺ في شبابه بالصادق الأمين. ( )
14. أرسلت السيدة خديجة إلى محمد ﷺ ليخرج تاجراً بمالها إلى اليمن مع غلامها ميسرة. ( )

## (ج) بم تفسر :

1. تسمية عام 570 م بعام الفيل ؟
2. محاولة أبرهة الحبشى هدم الكعبة ؟
3. \* إرسال أشرف مكة أبناءهم للعيش في البادية ؟
- \* إرسال الرسول ﷺ إلى ديار بنى سعد بالبادية ؟
4. حرص السيدة خديجة على أن يتاجر الرسول ﷺ بمالها ؟

## (د) ما النتائج المترتبة على ....

1. عمل الرسول ﷺ بحرفة الرعى ؟
2. شهرة الرسول ﷺ في شبابه بالصادق الأمين ؟



## الدرس 1 محمد ﷺ المولد

(أ) اختر الإجابة الصحيحة مما بين القوسين

1. وُلد الرسول ﷺ في مدينة ..... عام 570م.

(يثرب - الطائف - مكة - الحجاز)

2. بنى أبرهة الحبشي كنيسة في .....

( الحبشة - اليمن - الشام - مكة )

3. تعرضت مكة عام 570 م لغزو خارجي من جهة .....

(الشمال - الجنوب - الشرق - الغرب )

4. وُلد ﷺ يتيمًا حيث مات أبوه أثناء عودته من رحلة تجارية لبلاد .....

(الشام - اليمن - الحجاز - الجزائر)

5. توفي والد الرسول ﷺ أثناء عودته من بلاد الشام ودفن في .....

(يثرب - الطائف - مكة - الحجاز)

6. توفي والد الرسول ﷺ أثناء عودته من رحلة تجارية في فصل .....

( الشتاء - الخريف - الربيع - الصيف )

7. دفن والد الرسول ﷺ بعد وفاته في مدينة مشهورة في .....

(شمال مكة - جنوب مكة - شرق مكة - غرب مكة)

8. يعود نسب الرسول ﷺ إلى .....

(يوسف ﷺ - إبراهيم ﷺ - نوح ﷺ - موسى ﷺ)

9. بعد وفاة آمنة بنت وهب أم الرسول ﷺ كفله .....



(أبو طالب - عبد الله - عبد المطلب - جميع ما سبق)

10. بعد وفاة عبد المطلب جد الرسول ﷺ كفله .....

(أبو طالب - عبد الله - عبد المطلب - جميع ما سبق)

11. كانت حرفة ..... الحرفة السائدة في شبه الجزيرة العربية قبل الإسلام.

(الزراعة - التجارة - الصناعة - الرعى)

12. عمل الرسول بحرفة ..... بعد حرفة الرعى .

(الزراعة - التجارة - الصناعة - التعدين)

13. اكتسب محمد ﷺ الصبر والتواضع والشجاعة من عمله بحرفة .....

(الزراعة - التجارة - الرعى - الصناعة)

14. رافق ..... الرسول ﷺ في رحلة تجارية إلى بلاد الشام ليتاجر بمال السيدة خديجة.

(زيد بن حارثة - ميسرة - ابو بكر الصديق - علي بن أبي طالب)

15. أرسلت السيدة خديجة إلى محمد ﷺ ليخرج تاجراً بمالها إلى ..... مع غلامها ميسرة .

(مصر - اليمن - العراق - الشام)

(ب) ضع علامة (✓) أو (x) مع التصويب :

1. وُلد محمد ﷺ بمكة يوم الاثنين الموافق الثاني عشر من شهر ربيع الأول. (✓)

2. عرف العام الذي ولد فيه الرسول ﷺ بعام الفيل. (✓)

3. ولد الرسول ﷺ يتيماً حيث مات أبوه ودفن في مكة. (x) يثرب

4. كان اسم محمد مألوفاً لدى العرب عند ولادة الرسول ﷺ. (x) لم يكن مألوفاً

5. يمتد نسب الرسول ﷺ إلى إسماعيل بن إبراهيم عليه السلام. (✓)



6. كان أشرف مكة يرسلون أبناءهم إلى الحضر ليكتسبوا فصاحة اللسان وقوة البنيان. (x) البدو
7. أرسل محمد ﷺ للعيش في البادية عند مرضعته حليلة السعدية. (✓)
8. مكث الرسول ﷺ عند حليلة السعدية ثلاث سنوات. (x) أربع
9. بعد وفات آمنة بنت وهب كفل الرسول ﷺ عمه أبو طالب. (x) جده عبد المطلب
10. بعد وفات جد الرسول ﷺ كفله عمه أوب طالب. (✓)
11. عمل محمد ﷺ في طفولته بالتجارة ليساعد عمه ويخفف عنه العبء. (x) رعى

## الأغنام

12. تعلم محمد ﷺ من حرفة الرعي الصبر والتواضع. (✓)
13. عُرف الرسول ﷺ في شبابه بالصادق الأمين. (✓)
14. أرسلت السيدة خديجة إلى محمد ﷺ ليخرج تاجراً بمالها إلى اليمن مع غلامها ميسرة.

## (x) الشام

## (ج) بم تفسر:

1. تسمية عام 570 م بعام الفيل ؟

لأن في هذا العام حاول أبرهة الحبشي هدم الكعبة بجيش كبير يضم عدد من الفيلة ولكن الله حفظ بيته وأهلك أبرهة وجيشه

2. محاولة أبرهة الحبشي هدم الكعبة ؟

ليصرف العرب عن زيارتها وتعظيمها وليتجهوا إلى كنيسته التي بناها بأرض اليمن

3. \* إرسال أشرف مكة أبناءهم للعيش في البادية ؟

\* إرسال الرسول ﷺ إلى ديار بني سعد بالبادية ؟

لأن العيش في البادية يُكسب فصاحة اللسان وقوة البنيان ورجاحة العقل



4. حرص السيدة خديجة على أن يتاجر الرسول ﷺ بمالها ؟

بسبب ما عُرف عنه من العفه والطهارة ورجاحة العقل والأمانة والصدق

(د) ما النتائج المترتبة على ....

1. عمل الرسول ﷺ بحرفة الرعى ؟

ترتب على ذلك اكتساب الرسول ﷺ الكثير من الصفات مثل الصبر والتواضع والشجاعة والرحمة والعطف

2. شهرة الرسول ﷺ في شبابه بالصادق الأمين ؟

ترتب على ذلك أن أرسلت إليه السيدة خديجة ليتاجر بمالها إلى بلاد الشام مع غلامها ميسرة

جروب الفيس : الدراسات الاجتماعية مع مستر مصطفى مسلم

مستر مصطفى مسلم



mostafa meslam



mostafa.meslam97





**السؤال الأول : ضع علامة ( ✓ ) أمام العبارة الصحيحة وعلامة ( x ) أمام العبارة الخاطئة : مع تصحيح الخطأ .**

1. يجمع الوطن العربي مكان واحد ولغة واحدة و تاريخ مشترك ( ✓ )
2. يمتد الوطن العربي بين دائرتي 2 جنوبا و 30 37 شمالا ( ✓ )
3. يقع الوطن العربي وسط ثلاث قارات العالم الجديد هي آسيا وأفريقيا وأوروبا ( العالم القديم ) ( x )
4. يحد الوطن العربي من الشرق الخليج العربي و خليج عمان والبحر العربي ( ✓ )
5. يقع الوطن العربي بين خطى طول 60 شرقاً و 20 غرباً ( x ) ( 60 - 17 )
6. يشرف الوطن العربي على ثلاث خلجان هما الخليج العربي وخليج عدن وخليج عمان ( ✓ )
7. كل الدول العربية تمتلك سواحل تطل على البحار والمحيطات ( ✓ )
8. يحد الوطن العربي من الشمال الشرقي جبال كردستان و زاجروس ( ✓ )
9. تبلغ مساحة الوطن العربي نحو 23 مليون كم ( 13 مليون كم مربع ) ( x )
10. يمر خط الطول الرئيسي جرينتش غرب الوطن العربي ( ✓ )
11. يقع مضيق باب المندب تحت اشرف عربي خالص تحت إشراف اليمن وايران ( اليمن جيبوتي ) ( x )
12. الدولة العربية التي تشرف على مضيق هرمز هي ايران ( عمان ) ( x )
13. من المشكلات السياسية في الجناح العربي الآسيوي مشكلة جنوب السودان ( الجناح العربي الإفريقي ) ( x )
14. سبته ومليلة المغربية من المناطق التي ما زالت خاضعة للاستعمار في الوطن العربي ( ✓ )
15. تقع جزر القمر شمال دائرة الاستواء في المحيط الهندي ( جنوب دائرة الاستواء ) ( x )
16. اطول حدود بربه للوطن العربي تقع في الجناح الأفريقي ( ✓ )
17. يتميز الجناح الأفريقي عن الجناح العربي الآسيوي بصغر مساحة الدول ( بكبر مساحة الدول ) ( x )
18. اقصى امتداد للوطن العربي شمالا يوجد في الجناح العربي الآسيوي ( ✓ )
19. تشترك دولة جزر القمر مع بعض دول الوطن العربي في خطوط الطول وتختلف في دوائر العرض ( ✓ )

**السؤال الثاني : اكمل الجمل الآتية :**

1. تمتد أراضي الوطن العربي في قارتي **آسيا** و**أفريقيا** ويفصل بينهما **البحر الأحمر**
2. يحد وطننا العربي من الشمال **البحر المتوسط** و**جبال طوروس** ومن الجنوب المحيط **الهندي** ودول وسط القارة الأفريقية
3. يبلغ عدد دول الوطن العربي **بالجناح الآسيوي 12** دولة و**بالجناح الأفريقي 10** دول
4. يطل الوطن العربي على ثلاث اذرع مائية مهمة **البحر المتوسط** و **البحر الأحمر** و **الخليج العربي**
5. لم تحصل **فلسطين** وبعض **الجزر الإماراتية** على استقلالها حتى الآن
6. يمر في الوطن العربي دائرتي عرض رئيسيتين هما **مدار السرطان** في الوسط و**دائرة الاستواء** في جنوب الوطن العربي
7. تقع جزر القمر عند تقاطع دائرة عرض **12** جنوب دائرة الاستواء وخط طول **44** شرقا



**1. أهمية الحدود الطبيعية للوطن العربي**

- ساعدت الوطن العربي على الاحتفاظ بشخصيته العربية المميزة بين الأمم
- ساعدت على اتصال العالم العربي بالعالم الخارجي

**2. الأهمية الحضارية للوطن العربي**

- حيث قامت علي أرضه حضارات قديمة مثل :
- الحضارة المصرية القديمة ( الفرعونية )
- حضارة بلاد الشام
- حضارة بلاد العراق القديم ( ما بين النهرين )
- حضارة بلاد اليمن

**3. للوطن العربي مكانه دينية مهمة ( الأهمية الدينية للوطن العربي )**

- الوطن العربي مهد الديانات السماوية الثلاثة ومنه انتشرت للعالم كله.
- وجود أماكن مقدسة يقصدها الناس مما اكسبه قيمة روحية عظيمة في نفوس سكان العالم مثل :
- السعودية ( بها الكعبة المشرفة )
- \* فلسطين ( المسجد الأقصى - كنيسة المهد - قبة الصخر )

**4. الأهمية الاقتصادية لوطننا العربي.** ( تعرض الوطن العربي للعديد من محاولات الاستيلاء عليه )

- بسبب تنوع الموارد الاقتصادية في الوطن العربي
- وجود البترول والغاز الطبيعي في أرض الوطن العربي
- موقع الوطن العربي المتوسط بين قارات العالم ( جعل الوطن العربي يتحكم في طرق التجارة العالمية ) لأنه
- يشرف على ثلاث اذرع مائية هما
- \* لأنه يتحكم في اربع ممرات مائية
- ( تحكم الوطن العربي في طرق التجارة العالمية خلال العصور )

**5. الأهمية الاستراتيجية للوطن العربي**

- بسبب موقع الوطن العربي المتوسط بين القارات
- لأنه يتحكم في اربع ممرات مائية ( قناة السويس - مضيق هرمز - مضيق باب المندب - مضيق جبل طارق )
- يشرف على ثلاث اذرع مائية هما ( البحر الأحمر - البحر المتوسط - الخليج العربي )
- المضائق والممرات المائية لها أهمية في وقت السلم وتزيد أهميتها في وقت الحرب

**6. تنوع الموارد الاقتصادية في الوطن العربي**

- بسبب تنوع ( الاقاليم المناخية ) ( الحياه النباتية ) ( التكوينات الجيولوجية )

**7. تقسيم الوطن العربي إلى دول مختلفة المساحة .**

- بسبب تعرض الوطن العربي للاستعمار الأوروبي الذي قسمه إلى دول مختلفة في المساحة وعدد السكان
- تفصل بين هذه الدول حدود سياسية مصطنعة

**السؤال الرابع : اختر الإجابة الصحيحة مما بين القوسين :**

1. يحد الوطن العربي من الغرب المحيط ..... ( الهندي - الهادي - الأطلنطي )
2. من دول الجناح العربي الآسيوي ..... ( لبنان - السودان - المغرب )
3. من دول الجناح العربي الإفريقي ..... ( سوريا - البحرين - جيبوتي )
4. يتحكم الوطن العربي في ..... ممرات مائية مهمة ( ثلاث - أربعة - خمسة )



5. قامت دول الوطن العربي بنقل ..... الى العالم
6. يقترب اليباس العربي من اليباس الأوربي عند مضيق
7. تقع دولتنا ..... بالكامل في نصف الكرة الغربى
8. اى من الدول التالية تقع بين دائرة الاستواء ومدار السرطان ( جزر القمر - السودان - الكويت )
9. خط الطول الرئيسي يمر بدولة ..... ( الجزائر - تونس - المغرب )
10. يختلف البحر المتوسط عن الاحمر في ..... ( الاتصال بالمحيط - الفصل بين قارتين - وجود المضائق - الامتداد )
11. اقوى حدود الوطن العربي تقع في جهه ..... ( الشمال الشرقي - الشرق - الجنوب الغربى )
12. تميز الجناح الاسيوى عن الجناح الافريقى بتعدد ..... ( اللغات - الحضارات القديمة - العبادات )
13. تتنوع الموارد المعدنية في الوطن العربي بسبب ..... ( تنوع التكوينات الجيولوجية - الموقع الفلكى - تنوع المناخ )
14. الممر المائى الذى يصل بين خليجين عربيين هو ..... ( جبل طارق - باب المندب - هرمز )
15. المضيق الذى يفصل بين كتلتين من اليباس العربي هو ..... ( باب المندب - جبل طارق - هرمز )
16. ترجع تسمية الوطن العربي بهذا الاسم بسبب وجود صفة مشتركة بين كل الدول وهى ..... ( اللغة الواحدة - التاريخ المشترك - المكان الواحد )
17. تتميز دولة ..... بعدم الترابط بين اجزائها ( السعودية - عمان - العراق )
18. اقصى امتداد للوطن العربي شرقا يوجد بدولة ..... ( السعودية - عمان - العراق )
19. يلتقى مدار السرطان مع خط جرينتش جنوب دولة .... ( المغرب - تونس - الجزائر )
20. للوطن العربي حق السيطرة الكاملة على قناة السويس ومضيق ..... ( باب المندب - هرمز - جبل طارق )

#### السؤال الخامس : اكتب ما تشير اليه العبارات التالية :

1. الموقع بالنسبة للماء واليباس
  2. دولة عربية تقع بالكامل في نصف الكرة الارضية الجنوبي
  3. المفتاح الجنوبي للبحر الاحمر
  4. دولة عربية تمر بها دائرة الاستواء
  5. دولة عربية بها اكثر من مشكلة سياسية
  6. اصغر دولة عربية فى الجناح الأسيوي
  7. دولة عربية تتحكم فى ممر بحرى وممر برى
  8. اصغر دولة عربية تطل على البحر المتوسط
  9. الموقع بالنسبة لدوائر العرض وخطوط الطول
  10. الأهمية وقت الحروب والأزمات والسلم
  11. مضيق يصل بين الخليج العربي وخليج عمان بالمحيط الهندي
  12. مضيق يصل بين المحيط الأطلنطي والبحر المتوسط
- (موقع جغرافي)
- (جزر القمر)
- (مطبق باب المندب)
- (الصومال)
- (السودان)
- (البحرين)
- (مصر)
- (لبنان)
- (موقع فلكى)
- (أهمية استراتيحية)
- (مضيق هرمز)
- (مضيق جبل طارق)



( مضيق باب المندب )

13. مضيق يصل بين البحر الأحمر وخليج عدن بالمحيط الهندي

( قناة السويس )

14. قناة تصل بين البحر الأحمر بالبحر المتوسط

( جزر القمر )

15. الدولة العربية ( الأفريقية ) الوحيدة التي تقع خارج الموقع الفلكي للوطن العربي

( حدود طبيعية )

16. حدود تسير مع ظواهر طبيعية ( جبال - بحار - محيطات - خلجان )

### **السؤال السادس : ما النتائج المترتبة على :**

1. الأهمية الاستراتيجية لموقع الوطن العربي

• أدى ذلك إلى تعرض الوطن العربي للاستعمار الأوروبي

• عمل الاستعمار على تقسيم و نهب خيرات الوطن العربي

2. امتداد حدود الوطن العربي مع ظواهر طبيعية ( بحار - محيطات - جبال - صحراء )

• ترتب على ذلك احتفاظ الوطن العربي بشخصيته العربية المميزة بين الأمم

• ساعدت الوطن العربي على الاتصال بالعالم الخارجي

3. وجود الأماكن المقدسة بالوطن العربي

• اكسب الوطن العربي قيمة روحية عظيمة في نفوس سكان العالم

4. الموقع الجغرافي للوطن العربي .

• بسبب الموقع الجغرافي أصبح للوطن العربي أهمية اقتصادية و استراتيجية كبيرة

5. الموقع الفلكي للوطن العربي

• أدى إلى مرور خط جرينتش في الوطن العربي \*مرور دائرة الاستواء ومدار السرطان في الوطن العربي

• أدى ذلك إلى تنوع الأقاليم المناخية وتنوع النبات بالوطن العربي

6. تعرض الوطن العربي للاستعمار الأوروبي

• أدى إلى نهب خيرات الوطن العربي

• أدى ذلك إلى تقسيم الوطن العربي إلى دول مختلفة في المساحة وعدد السكان وانشاء الحدود السياسية

• ادت الحدود السياسية الى وجود مشاكل سياسية مثل

• مشكلة ( فلسطين - جنوب السودان ودافور - بعد المدن المغربية مثل سبتة ومليلة - مشكلة بعض الجزر الامارتية )

7. تحكم الوطن العربي في اربع ممرات مائية مهمة.

• أدى ذلك إلى تحكم وسيطرة الوطن العربي على طرق التجارة العالمية

• أصبح للوطن العربي أهمية استراتيجية واقتصادية هامة \* أصبح الوطن العربي مطمعا للدول الغربية للاستيلاء عليه

8. تنوع الأقاليم المناخية والنباتية في الوطن العربي

• أدى ذلك إلى تنوع الموارد الاقتصادية في الوطن العربي



### السؤال السابع : قارن بين :

مضيق هرمز ومضيق باب المندب من حيث ( الدولة التي تشرف عليه و المسطحات المائية التي تصل بينها )

أوجه المقارنة	مضيق هرمز	مضيق باب المندب
الدولة	• عمان - إيران	• جيبوتي - اليمن
المسطحات	• الخليج العربي - خليج عمان • بالتالي المحيط الهندي	• البحر الأحمر وخليج عدن • بالتالي المحيط الهندي

مضيق جبل طارق وقناة السويس ( الدولة التي تشرف عليه و المسطحات المائية التي تصل بينها )

أوجه المقارنة	مضيق جبل طارق	قناة السويس
الدولة	• المغرب - إسبانيا	• مصر
المسطحات	• البحر المتوسط - المحيط الأطلسي	• البحر المتوسط - البحر الأحمر

### السؤال الثامن : ماذا يحدث اذا :

1. لم تمتد حدود الوطن العربي مع حدود وظواهر طبيعية
  - لن يتمكن الوطن العربي من الحفاظ على الشخصية العربية
  - لن يتصل الوطن العربي بالعالم الخارجي
2. لم يتعرض الوطن العربي للاستعمار
  - عدم نهب ثروات الوطن العربي
  - عدم وجود حدود بين الدول مصطنعة
  - عدم ظهور مشكلات سياسية مثل ( فلسطين - جنوب السودان - دارفور - سبتة ومليلة - جزر الامارات )
3. لم يقترب البحر الاحمر من البحر المتوسط
  - عدم حفر قناة السويس
  - عدم زيادة اهمية موقع الوطن العربي الجغرافي والاستراتيجي

### السؤال التاسع : دال جغرافيا

1. تتوفر في الوطن العربي عوامل وحدته
  - يجمع الوطن العربي ( مكان واحد - لغة واحدة - تاريخ مشترك )
2. تعرض الوطن العربي للعديد من المحاولات الاستعمارية من الدول الاوربية الكبرى
  - الدليل تقسيم الوطن العربي الى دول مختلفة المساحات يفصل بينهم حدود مصطنعة
3. لموقع الوطن العربي اثار سلبية واخرى ايجابية على البلاد
  - الأثر الايجابي ( اكتساب الوطن العربي أهمية حضارية - دينية - اقتصادية - استراتيجية )
  - الأثر السلبي ( تعرض الوطن العربي للعديد من محاولات الاستيلاء عليه ونهب خيرات من الدول الكبرى )
4. اكتسبت فلسطين مكانه دينية
  - حيث يوجد بها المسجد الاقصى - قبه الصخرة - كنيسة المهد

وليد نصرى ( 01226084618 ) الشيتات مرفوعة على صفحة الفيس باسم ( وليد نصرى ) (مذكرات دراسات اجتماعية ) (ملخصات دراسات اجتماعية )

الجغرافيا الصف الثالث الثانوي - الدراسات الاجتماعية الصف الأول و الثاني والثالث الإعدادي



**السؤال العاشر : ما تقييمك لمصادقة العبارة التالية**

1. **يمتد الوطن العربى فى كتلة ارضية واحدة**  
• الوطن العربى يمتد فى قارة افريقيا واسيا
2. **ظهور دول حبيسة بالوطن العربى نتيجة لموقعه الجغرافى**  
• لان كل دول الوطن العربى تطل على البحار والمحيطات
3. **الحدود الشمالية للوطن العربى حدود بحرية فى كل قطاعاته**  
• لان الوطن العربى يحده من الشمال البحر المتوسط وجبال طوروس  
• الشمال الشرقى يحده جبال كردستان - زاجورس

**السؤال الحادى عشر : حدد الاثر الناتج**

1. **توغل المسطحات المائية مثل البحر الاحمر داخل الوطن العربى** (ترتب على ذلك)  
• اشراف الوطن العربى على العديد من المسطحات المائية ادى الى تحكمة فى طرق التجارة العالمية  
• تقسيم البحر الاحمر الوطن العربى الى جناح افريقى واسيوى

**السؤال الثانى عشر : حدد السبب**

1. **تشابه البحر الاحمر والخليج العربى فى الادمية الاقتصادية**  
• لانهما يشكلان اذرع مائية مهمة للوطن العربى \* لهم دور هام فى التجارة العالمية



**السؤال الأول : ضع علامة ( ✓ ) أمام العبارة الصحيحة وعلامة ( x ) أمام العبارة الخطأ : مع تصحيح الخطأ .**

1. الحركات الانكسارية والالتوائية من العوامل الخارجية لتشكيل سطح الأرض ( x ) (العوامل الباطنية)
2. الثورات البركانية من العوامل الباطنية التي شكلت سطح الأرض ( ✓ )
3. وقفت تضاريس الوطن العربي عائقا أمام وحدته ( x ) (حققت الوحدة)
4. جبال اطلس من الجبال الالتوائية والتي تمتد في شمال غرب الجناح الأفريقي ( ✓ )
5. جبال البحر الأحمر توجد في مصر والسودان في الجناح العربي الأفريقي ( ✓ )
6. تعرف جبال البحر الأحمر في الجناح الأفريقي بجبال الحجاز وعسير ( x ) (الجنام الأسيوي)
7. من هضاب الجناح العربي الأسيوي هضبة نجد شمال شبه الجزيرة العربية ( x ) (هضبة بادية الشام)
8. تعتبر هضبة الشطوط من أهم مظاهر هضبة إفريقيا الشمالية ( ✓ )
9. تتميز هضاب الوطن العربي بوجود العديد من الظواهر الطبيعية مثل الواحات والأودية الجافة ( ✓ )
10. السهول المطلة على الخليج العربي من السهول الساحلية بالجناح العربي الأفريقي (الجنام الأسيوي) ( x )
11. تتميز السهول الفيضية بمصر والعراق بالتربة الخصبة لذلك ترتفع بها الكثافة السكانية ( ✓ )
12. السهول المطلة على البحر المتوسط من السهول الفيضية في الوطن العربي (السهول الساحلية) ( x )
13. سهول نهر النيل في مصر وسهول دجلة والفرات في العراق من السهول الساحلية (الساحلية الفيضية) ( x )
14. التعرية المائية والهوائية من العوامل الخارجية التي شكلت سطح الوطن العربي ( ✓ )

**السؤال الثاني : اكمل الجمل الآتية :**

1. جبال الشام تحصر بينها سهول تجرى بها الأنهار مثل نهر اللبان في لبنان ونهر العاصي في سوريا
2. تمتد جبال اطلس التل في ثلاث دول عربية هي المغرب والجزائر وتونس
3. تتكون جبال اطلس من مجموعة سلاسل جبلية أهمها اطلس الصحراء في الجنوب واطلس التل في الشمال
4. تعرف جبال البحر الأحمر الانكسارية في السعودية بجبال الحجاز وعسير بينما في اليمن تعرف بمرتفعات اليمن
5. من هضاب الجناح الأسيوي بادية الشام ونجد وحضرموت
6. من امثله الواحات في الوطن العربي واحة الكفرة ليبيا واحة سيوه في مصر
7. تمتد هضبة إفريقيا الشمالية من المحيط الأطلنطي غربا حتى جبال البحر الأحمر شرقا
8. تتمثل السهول في السهول الساحلية والسهول الفيضية والسهول الصحراوية



1. لم يتعرض الوطن العربي للحركات الالتوائية فى سطحه
    - عدم تكوين الجبال الالتوائية مثل جبال ( اطلس - عمان - زاجروس )
  2. لم يتأثر الجناح العربى الاسيوى بحدوث البراكين قديما
    - لم تتكون الهضاب البركانية مثل هضبة اليمن
  3. ظلت الامطار تسقط على جبال البحر الاحمر
    - لن تكون هناك اودية جافة بجبال البحر الاحمر
    - ستكون بها المياه وتكون روافد انهار
- \* تكون سهول فيضية خصبة صالحة للزراعة

## السؤال الرابع : بم تفسر :

4. أهمية الأودية الجافة فى الوطن العربى.
    - لأنها تستخدم كطرق للمواصلات
  5. أهمية الواحات بالوطن العربى.
    - توجد بها ارض خصبة صالحة للزراعة
  6. الأهمية الاقتصادية لسهول البحر المتوسط
    - لأنها سهول صالحة للزراعة
  7. الأهمية الاقتصادية لسهول البحر الأحمر والخليج العربى
    - لأنها يستخرج منها الثروات المعدنية ومصادر الطاقة مثل البترول
  8. الأهمية الاقتصادية للسهول الفيضية
    - لأنها تقوم بها الزراعة بسبب خصوبة التربة
  9. ساعدت التضاريس على وحدة و شخصية الوطن العربى المتميزة. ( عدم وقوف مظاهر السطح فى الوطن العربى عائقا أمام وحدته )
    - حافظت مظاهر السطح على شخصيته العربية
    - مساعدة الوطن العربى على الاتصال بالعالم الخارجى
  10. تكون جبال اطلس وزاجروس وكردستان و عمان
    - نتيجة الحركات الالتوائية
  11. قيام الزراعة فى الواحات
    - بسبب وجود الأراضي الخصبة
  12. تكون جبال البحر الأحمر وجبال الشام
    - نتيجة الحركات الانكسارية
  13. تكون السهول الفيضية فى الوطن العربى
    - بسبب ترسيب الانهار المواد العالقة بمياهها على جوانب النهر
  14. ارتفاع الكثافة السكانية فى مناطق السهول الفيضية
    - بسبب وجود التربة الخصبة الصالحة لقيام الزراعة
- \* تستخرج منها المياه الجوفية
- \* تعتمد على المياه الجوفية فى الزراعة
- \* بسبب توافر المياه الجوفية ( الآبار والعيون )
- \* تكون تربة خصبة صالحة للزراعة



**السؤال الخامس : اختر الإجابة الصحيحة مما بين القوسين :**

1. تقع هضبة الشطوط بين سلاسل جبال ..... ( **اطلس** - البحر الأحمر - الحجاز - عسير )
2. جبال الحجاز وعسير من نوع الجبال ..... ( البركانية - الالتوائية - **الانكسارية** - كل ما سبق )
3. تقع هضبة حضرموت في ..... شبه الجزيرة العربية ( شمال - **جنوب** - شرق - وسط )
4. من السهول الفيضية سهول دجلة والفرات في دولة ..... ( **العراق** - مصر - السودان - المغرب )
5. تكونت جبال زاغروس وعمان نتيجة الحركات ..... ( الانكسارية - **الالتوائية** - التعرية الهوائية - التعرية المائية )
6. تكونت الأودية الجافة والسهول الفيضية نتيجة ..... ( **التعرية المائية** - التعرية الهوائية - الانكسارات - الالتواءات )
7. وادي العلاقي من أمثله الأودية الجافة في ..... ( العراق - تونس - ليبيا - **مصر** )
8. تكونت هضبة اليمن نتيجة ..... ( الحركات الالتوائية - **الثورات البركانية** - الحركات الانكسارية )

**السؤال السادس : اكتب ما تشير إليه الجملة التالية :**

1. جبال انكسارية تمتد على الساحل الشرقي للبحر المتوسط في ( سوريا - لبنان - فلسطين ) ( **جبال الشام** )
2. حركات باطنية كبرى أدت إلى تكوين سلاسل جبلية مرتفعة ( **حركات التوائية** )
3. حركات باطنية أصابت الصخور الصلبة وأدت إلى ارتفاع بعضها مكونة الجبال وانخفاض بعضها مكونة البحار والبحيرات ( **حركات انكسارية** )
4. أودية كانت تجرى بها المياه في قديما ثم جفت ( **الأودية الجافة** )
5. أراضي مستوية أو شبه مستوية كونتها الأنهار عن طريق ترسيب المواد العالقة بمياهه وتوجد على جانبي الأنهار ( **سهول فيضية** )
6. أراضي مستوية أو شبه مستوية تمتد على سواحل البحار والمحيطات ( **سهول ساحلية** )
7. ارض منخفضة في الصحراء صالحة للحياة تستمد مياهها من الآبار والعيون ويعمل سكانها بالزراعة ( **الواحات** )
8. نحت الماء للصخور وارسابها ( **التعرية المائية** )
9. نحت الرياح للصخور ونقلها وارسابها ( **التعرية الهوائية** )
10. هضبه تقع وسط شبه الجزيرة العربية ( **نجد** )
11. سهول كونتها الرياح عن طريق النحت أو الارساب وقد تكون صخرية أو ارسابات رملية ( **السهول الصحراوية** )

**السؤال السابع : ما النتائج المترتبة على :**

1. **الحركات الالتوائية**
  - أدت إلى تكوين سلاسل جبلية مرتفعة \* مثل جبال ( اطلس - زاغروس وكردستان - عمان )
2. **الحركات الانكسارية**
  - ارتفاع بعض الصخور ( مكونه الجبال ) \* انخفاض بعض الصخور ( مكونه البحار والمحيطات )
3. **التعرية المائية**
  - ينتج عنها أشكال سطح منها ( الشواطئ - دلتا الأنهار )
4. **التعرية الهوائية**
  - ينتج عنها أشكال ارسابات رملية مثل ( الكثبان الرملية )



## 1. جبال اطلس وجبال الشام من حيث ( النشأة والامتداد )

أوجه المقارنة	جبال اطلس	جبال الشام
النشأة	• بسبب الحركات الالتوائية	• بسبب الحركات الانكسارية
الامتداد	• تمتد من الغرب إلى الشرق • المغرب – الجزائر – تونس	• تمتد على طول الساحل الشرقي للبحر المتوسط • سوريا – لبنان – فلسطين

## 2. السهول الساحلية والسهول الفيضية (من حيث أوجه الشبة والاختلاف) مع ذكر مثال لكل منهما .

أوجه المقارنة	السهول الساحلية	السهول الفيضية
الشبة	ارض مستوية أو شبه مستوية	ارض مستوية أو شبه مستوية
الاختلاف	توجد على سواحل البحار والمحيطات	توجد على جانبي الأنهار
مثال	سهول البحر المتوسط والأحمر	سهول نهر النيل
الأهمية	استخراج المعادن – مصادر الطاقة قيام الزراعة في بعض الأماكن	تربة خصبة تساعد على قيام الزراعة ارتفاع الكثافة السكانية بها

## 3. الواحات والأودية الجافة (من حيث أوجه الشبة والاختلاف) مع ذكر مثال لكل منهما .

أوجه المقارنة	الواحات	الأودية الجافة
الشبة	ظاهرة طبيعية موجودة في الهضاب	ظاهرة طبيعية موجودة في الهضاب
الاختلاف	ارض منخفضة في الصحراء	تستخرج منها المياه الجوفية هي أودية كانت تجري فيها المياه قديما ثم جفت
مثال	واحة الكفرة في ليبيا	وادي العلاقي في مصر
الأهمية	تستخرج منها المياه الجوفية قيام الزراعة بها	تستخرج منها المياه الجوفية تستخدم كطرق للمواصلات

## 4. جبال البحر الأحمر وجبال أطلس من حيث أوجه الشبة والاختلاف) مع ذكر مثال لكل منهما .

أوجه المقارنة	جبال البحر الأحمر	جبال اطلس
الشبة	سلاسل جبلية في الجناح الأفريقي	سلاسل جبلية في الجناح الأفريقي
الاختلاف	تكونت نتيجة حركات انكسارية	تكونت نتيجة حركات التوائية
مثال	جبال البحر الأحمر في مصر والسودان	جبال اطلس في بلاد المغرب العربي



1. للحركات الالتوائية اثر على مظاهر السطوح فى الوطن العربى

- نتج عنها تكوين سلاسل جبلية مرتفعة مثل ( جبال اطلس - عمان - كردستان - زاجروس )
- ولید نصرى ٠٢٣٦٠٨٤٦١٨
- توجد بعض المناطق الزراعية فى الصحارى العربية
- حيث يوجد بعض الواحات فى الصحارى العربية تتميز بخصوبة التربة صالحة للزراعة
- مثل ( واحة سيوه فى مصر - الكفرة فى ليبيا )

## السؤال العاشر ما تقويمك لصحة العبارات التالية

1. تعتبر هضبة اليمن من اهم الظواهر التضاريسية فى هضبة افريقيا الشمالية
- لان هضبة الشطوط من اهم الظواهر فى هضبة افريقيا الشمالية
  - هضبة اليمن من اهم الظواهر التضاريسية فى الجناح العربى الاسيوى
2. تتعدد السهول النهرية فى بلاد الشام
- حيث جبال الشام تحصر بينها عدة سهول تجرى بها الانهار مثل : ( نهر اللطانى فى لبنان - العاصى فى سوريا )
3. تختلف مسميات الجبال على جانبي البحر الأحمر
- فى الوطن العربى الأفريقي تسمى جبال البحر الاحمر
  - فى الجناح الاسيوى تسمى جبال الحجاز ومرتفعات عسير ومرتفعات اليمن

## السؤال الحادى عشر اجب عن الأسئلة التالية :

1. حدد الاثر الناتج جفاف الاودية القديمة فى الوكن العربى
- اصبحت طرق موصلات
2. حد أوجه الشبه بين سهول البحر المتوسط - واحه سيوه
- السهول كلها صالحة للزراعة
3. استنتج عوامل تركيز السكان فى وسط العراق
- بسبب سهول نهر دجلة والفرات
4. حدد أوجه الاختلاف بين سهول البحر الاحمر وسهول البحر المتوسط
- سهول البحر المتوسط صالحة للزراعة
  - سهول البحر الاحمر يستخرج منها الثروات المعدنية ومصادر الطاقة
5. حدد اهمية سواحل الخليج العربى
- نستخرج منها المعادن ومصادر الطاقة

\* نحصل منها على المياه الجوفية

\* ارض خصبة صالحة للزراعة



## الوحدة الأولى ( حياة محمد ﷺ ) قصة بناء أمة الدرس التمهيدي : أحوال شبه الجزيرة العربية قبل ظهور

**السؤال الأول : ضع علامة ( ✓ ) أمام العبارة الصحيحة وعلامة ( x ) أمام العبارة الخاطئة : مع تصحيح الخطأ .**

1. كان العالم قبل ظهور الإسلام يعمه الظلم والفساد ( ✓ )
2. كان العالم قبل الإسلام يحكمه قوتان هما الفرس والروم ( ✓ )
3. عرف اهل شبه الجزيرة العربية عبادة الأصنام قبل دين سيدنا إبراهيم ( بعد دين سيدنا إبراهيم ) ( x )
4. قامت مملكتنا معين وحمير جنوب شبه الجزيرة العربية ( ✓ )
5. كان المجتمع في شبه الجزيرة العربية قبل الإسلام مجتمعاً بدوياً وحضرياً ( ✓ )
6. تعددت العبادات في دولة الفرس فكانوا يقدسون البقر والزواحف وغيرها ( دولة الهند ) ( x )
7. انتشرت اليهودية والمسيحية في أجزاء كثيرة من شبه الجزيرة العربية ( أجزاء قليلة ) ( x )

**السؤال الثاني : اكمل الجمل الآتية :**

1. كان اشهر أسواق العرب شبه الجزيرة العربية قبل الإسلام سوق عكاظ وسوق وفى المجاز
2. من اشهر شعراء العرب النابغة الذبياني
3. حظى بعض النساء بمكانة عالية مثل السيدة خديجة
4. اكثر سكان شبه الجزيرة العربية عملاً بالتجارة هم أهل مكة

**السؤال الثالث : بم تفسر :**

1. حاجة العالم إلى مجيء الرسول ﷺ
  - لكى يرشد الناس إلى عبادة الله الواحد
  - \* ينشر العدل والتسامح والرحمة في العالم
2. كان اهل مكة اكثر سكان شبه الجزيرة العربية مكانه تجارية
  - بسبب قيام أهل مكة برحلتين هما ( رحلة الشتاء إلى بلاد اليمن - رحلة الصيف إلى بلاد الشام )
3. شهرة أسواق العرب قبل الإسلام ( لم تكن أسواق العرب قبل الإسلام للتجارة فقط )
  - لأن دورها لم يقتصر علي التجارة فقط بل كانت ميداناً للتنافس الأدبي في مجالات الشعر والخطابة .
  - مثل ( سوق عكاظ - سوق ذي المجاز )
4. قلة أنتشار حرفة الزراعة في شبه الجزيرة العربية . بسبب
  - بسبب ندرة الأمطار .
5. كان الرعي هو الحرفة السائدة في البادية . بسبب
  - الطبيعة الصحراوية التي تتميز بها شبه الجزيرة العربية
6. ساد النظام القبلي شبه الجزيرة العربية
  - لأن شبه الجزيرة العربية كانت عبارة عن قبائل متفرقة
  - لكل قبيلة قانون يحدد حقوق وواجبات الأفراد

\* كل قبيلة يحكمها شيخ



• الدول التي احتلتها \* العبادات السائدة في كل منهما قبل ظهور الإسلام

الدولة	الدول التي احتلتها	العبادة
الفرس	العراق – اليمن	العبادات الوثنية
الروم	مصر – بلاد الشام	المسيحية

**السؤال الخامس : ماذا يحدث اذا :**

1. لم تقم مكة برحلتى الشتاء والصيف
  - لم تتمتع مكة بالمكانة التجارية الهامة في شبه الجزيرة العربية
2. اقتضرت الأسواق عند العرب على البيع والشراء فقط
  - عدم تميز أسواق العرب وعدم شهرتها ( ستكون مثل باقي الأسواق )

**السؤال السادس : اكتب ما تشير اليه العبارات التالية**

1. عبادة الله الواحد الأحد على دين سيدنا إبراهيم ( عليه السلام ) (الحنيفية)
2. مجموعة من الأفراد ينتمون إلى أصل واحد وتربطهم رابطة الدم والعصبية (القبيلة)
3. أشهر القبائل وكانت تسكن مكة (قبيلة قريش)
4. نظام سياسي ساد في شبه الجزيرة العربية (النظام القبلي)
5. مدينة كان لها شهرة تجارية في شبه الجزيرة العربية (مكة)

**السؤال السابع : أيد بالأدلة**

1. تعددت الديانات والعبادات في شبه الجزيرة العربية : حيث كانت
  - الحنيفية ( عبادة الله الواحد ) ظل قليل من الناس عليها ( دين سيدنا إبراهيم ) عليه السلام بعد انتشار الأوثان
  - اليهودية في مناطق قليلة من شبه الجزيرة ( دين سيدنا موسى ) عليه السلام
  - المسيحية في مناطق قليلة من شبه الجزيرة ( دين سيدنا عيسى ) عليه السلام
2. اتصف العرب بالأخلاق الحميدة كما كان لديهم بعض العادات السيئة
  - العادات الطيبة ( الشجاعة – الكرم الوفاء بالعهد – العفو عند المقدرة – حماية الجار – الصبر )
  - العادات السيئة ( وأد البنات (الدفن حيا) شرب الخمر – لعب الميسر – الأخذ بالثأر )
3. كانت شبه الجزيرة العربية ارض الحضارات ومهد لكثير من الأنبياء
  - حيث ظهرت عدة حضارات قديمة مثل ( قوم عاد – قوم ثمود )
  - حيث كانت مهد لكثير من الأنبياء ومنهم
    - هود عليه السلام \* صالح عليه السلام
    - شعيب عليه السلام \* إبراهيم و إسماعيل عليهما السلام



## السؤال الثامن ما النتائج المترتبة على

1. موقع مكة المتميز على طريق التجارة

- أدى ذلك إلى سيادة حرفة التجارة
- أصبحت مكة من أكثر المدن مكانه تجارية

## السؤال التاسع اختر الإجابة الصحيحة مما بين الأقواس

1. كانت .....مهذا للحضارات والأنبياء
2. كانت الحرفة السائدة في البادية هي حرفة .....
3. انتشرت الديانة المسيحية بدولة .....
4. قامت مملكتنا الحيرة والغساسنة فى ..... شبه الجزيرة العربية ( جنوب - شمال - غرب - شرق )
5. تقع مدينتنا مكة ويثرب ..... شبه الجزيرة العربية ( جنوب - شمال - غربي - شرقي )

Walid Nassir



## الدرس الأول ( محمد ﷺ ) المولد والنشأة )

**السؤال الأول : ضع علامة ( ✓ ) أمام العبارة الصحيحة وعلامة ( x ) أمام العبارة الخاطئة : مع تصحيح الخطأ .**

1. يمتد نسب الرسول ﷺ إلى عدنان من ولد إسماعيل بن إبراهيم عليهما السلام ( ✓ )
2. كانت السيدة آمنه بنت وهب والدة الرسول ﷺ ( ✓ )
3. توفيت السيدة آمنه بنت وهب والدة الرسول وهو في السادسة من عمره ( ✓ )
4. أرسلت السيدة خديجة إلى محمد ﷺ ليخرج بمالها إلى الشام مع غلامها ميسرة ( ✓ )
5. عرف الرسول ﷺ في شبابه بالصادق الأمين ( ✓ )
6. تزوج الرسول ﷺ السيدة خديجة ( كانت أول زوجة ) ( ✓ )
7. استمر الرسول ﷺ في شبابه يسعى للكسب الحلال من خلال رعيه للأغنام ( ✓ )

**السؤال الثاني : اكمل الجمل الآتية :**

1. ولد الرسول ﷺ عام 570 م عام الفيل
2. ولد الرسول ﷺ يوم الاثنين الموافق 12 ربيع الأول من عام الفيل في مدينة مكة
3. بعد وفاة عبد المطلب جد الرسول ﷺ كفله عمه أبو طالب وكان الرسول ﷺ في سن الثامنة
4. والد الرسول ﷺ هو عبد الله بن عبد المطلب والذي توفى أثناء عودته من الشام ودفن في يثرب
5. كانت مرضعة الرسول تسمى هليمة السعدية وهي من بني سعد ومكث عندها 4 سنوات
6. عاش سيدنا محمد ﷺ أربع سنوات عند مرضعته من بني سعد
7. أنجبت السيد خديجة من الرسول ﷺ ولدين هما القاسم و عبد الله وأربع بنات زينب ورقية و أم كلثوم وفاطمة

**السؤال الثالث : بم تفسر :**

1. تسمية العام الذي ولد فيه الرسول ﷺ بعام الفيل
  - لان في هذا العام حاول أبرهة الحبشي هدم الكعبة
  - الله سبحانه وتعالى حفظ الكعبة واهلك أبرهة وجيشه .
2. حرص السيدة خديجة على الزواج من الرسول ﷺ
  - لان السيدة خديجة أعجبت بأخلاق وأمانه وصفات النبي ﷺ
3. محاولة أبرهة الحبشي هدم الكعبة .
  - ليصرف العرب عن زيارتها وتعظيمها ليتجهوا إلى كنيسته التي بناها بأرض اليمن .
4. حرصت السيدة خديجة على ان يتاجر الرسول ﷺ بمالها
  - بسبب ما عرف عن الرسول ﷺ من ( الأمانة - الصدق - رجاحة العقل - العفه - الطهارة )
5. ولد الرسول ﷺ بتيمماً .
  - حيث توفى والده " عبدالله بن عبدالمطلب " قبل مولده ودفن في يثرب أثناء عودته من رحلة تجارية لبلاد الشام.
6. فرم عبد المطلب وبني هاشم بمولد الرسول ﷺ .
  - لأنه كان عطاء لهم من الله وتعويضا لهم عن فقد أبيه



7. اختيار عبد المطلب جد الرسول ﷺ ( اسم "محمد" )

- ليكون محموداً في الأرض والسماء

8. إرسال إشراف مكة أبنائهم لمرضعات في البادية ( الصحراء ) ( إرسال الرسول ﷺ الى ديار بني سعد )

- لان العيش في البادية يكسب الأبناء
- ( فصاحة اللسان - قوة البنيان - رجاحة العقل ) لذلك أرسل الرسول ﷺ لديار بني سعد.

9. كانت طفولة الرسول (ﷺ) تؤكد انه سيكون له شأن عظيم

- كانت الأربع سنوات التي قضاها في بني سعد عند حليلة السعدية
- سنوات خير وبركة للإنسان والحيوان والنبات

10. خروج سيدنا "محمد" ﷺ للعمل في رعي الأغنام رغم صغر سنه وهو في كفالته عمه.

- لان عمه أبو طالب كان فقيراً كثير العيال فأبى "صلى الله عليه وسلم" أن يكون عبئاً عليه
- فضل أن يساعد عمه ، فخرج في هذا السن الصغير ليرعى الأغنام .

### السؤال الرابع : ما النتائج المترتبة على :

1. وفاة والده الرسول (ﷺ) وهو في سن السادسة

- كفله جدة عبد المطلب

2. إرسال الرسول ﷺ الى البادية .

- أكتسب الرسول فصاحة اللسان وقوة البنيان ورجاحة العقل.

3. عمل الرسول ﷺ بحرفة الرعي.

- تعلم من حرفة الرعي كثير من الصفات منها ( الصبر - التواضع - الشجاعة - الرحمة والعطف ).

4. عرف محمد ﷺ في شبابه بـ "الأمانة والصدق" .

- ترتب على ذلك ان لقب (ﷺ) "بالصادق الأمين"

- أرسلت اليه السيدة خديجة ليتاجر بمالها إلى بلاد الشام مع غلامها ميسرة

### السؤال الخامس : لمن تنتسب الأعمال التالية

1. طاف بالرسول حول الكعبة وسماه محمداً

2. خرج بجيشة لمحاولة هدم الكعبة

3. العام الذي أراد فيه أبرهة الحبشي هدم الكعبة والذي ولد فيه الرسول (ﷺ)

4. غلام السيدة خديجة خرج مع الرسول (ﷺ) للتجارة في الشام

5. اسهم في تربية الرسول (ﷺ) وكان فقيراً كثير الأبناء

( جدة عبد المطلب )

( أبرهة الحبشي )

( عام الفيل )

( ميسرة )

( عمه أبو طالب )

### السؤال السادس : ما رأيك في :

1. خروج الرسول (ﷺ) للعمل برعى الأغنام وهو في بيت عمه

- تصرف يدل على عزة نفس النبي (ﷺ) و تحمله المسؤولية وهو في سن صغير
- لم يرضى ان يكون عبأ على عمه فخرج يعمل ليساعد عمه ويكسب قوت يومه



الأعمال	اهم الشخصيات
هاجم الكعبة بالأفيال لهدمها ليحج الناس إلى الكنيسة التي بناها في اليمن	أبرهة الحبشي
والد الرسول (ﷺ) مات قبل مولد النبي (ﷺ) أثناء رجوعه من التجارة من يثرب	عبد الله بن عبد المطلب
ام الرسول (ﷺ) توفيت وهو في السادسة من عمره	امنه بنت وهب
جد الرسول الذي تولى تربيته والذي سماه (محمدًا) توفى وهو في الثامنة من عمره	عبد المطلب
عم الرسول الذي تولى تربيته ودافع عنه	أبو طالب
مرضعة الرسول من بنى سعد مكث عندها اربع سنوات	حليمة السعدية
زوجة الرسول (ﷺ) أول من اسلم من النساء	السيدة خديجة
أبناء الرسول الأولاد من السيدة خديجة	القاسم - عبد الله
أبناء الرسول البنات من السيدة خديجة	زينب ورقية وأم كلثوم و فاطمه
غلام السيدة خديجة ( صاحب الرسول في تجارة السيدة خديجة )	ميسرة

الأحداث	اهم التواريخ
مولد الرسول (ﷺ)	12 من ربيع أول عام 570
عام الفيل ( حاول أبرهة هدم الكعبة بالأفيال )	عام 570



## الوطن العربي (الموقع والمساحة)

\* تنتمي بلدنا مصر إلى وطن أكبر هو الوطن العربي الذي يضم كل الدول العربية التي قامت على أرضها حضارات عريقة وكانت مهبطاً للديانات السماوية ويجمعها: مكان واحد - لغة واحدة - تاريخ مشترك.

### أولاً موقع الوطن العربي

#### الموقع الجغرافي

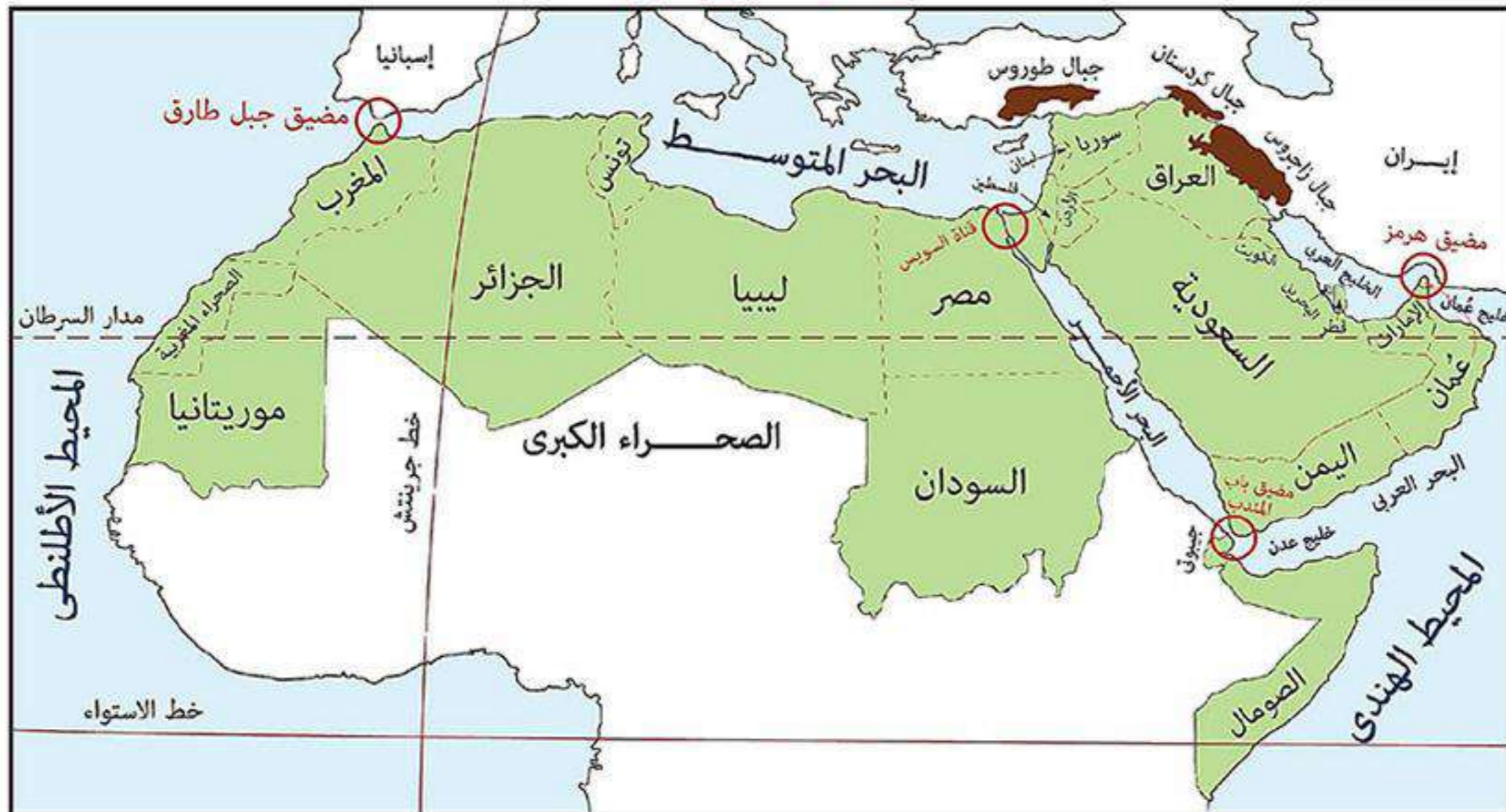
هو الموقع بالنسبة لليابس والماء.

- يقع الوطن العربي في قلب العالم وسط قارات العالم القديم (آسيا - أفريقيا - أوروبا)
- يمتد الوطن العربي في قارتي: آسيا - أفريقيا. ويفصل بينهما البحر الأحمر.
- يطغى الوطن العربي على:
  - محيطين: المحيط الهندي - المحيط الأطلنطي.
  - ثلاث بحار: البحر المتوسط - البحر الأحمر - البحر العربي.
  - ثلاثة خلجان: الخليج العربي - خليج عمان - خليج عدن.
- \* كل الدول العربية تمتلك سواحل تطل على بحار أو محيطات أو الاثنين معاً.

#### الموقع الفلكي

هو الموقع بالنسبة لخطوط الطول ودوائر العرض.

- يمتد الوطن العربي (ما عدا دولة جزر القمر) فيما بين:
  - خطي طول: ٦٠° شرقاً إلى ١٧° غرباً. (أي يشغل ٧٧ خط طول).
  - دائرتي عرض: ٣٧° ٥' شمالاً إلى ٢° جنوباً. (أي يشغل ٣٩,٥ دائرة).
- يمر في الوطن العربي:
  - دائرتي عرض رئيسيتين: خط الاستواء - مدار السرطان.
  - خط طول رئيسي: خط جرينتش.
- \* دولة جزر القمر: تقع في المحيط الهندي وهي الدولة العربية الوحيدة التي تقع خارج نطاق الموقع الفلكي للوطن العربي حيث تقع جنوب خط الاستواء عند تقاطع دائرة عرض ١٢° جنوباً مع خط طول ٤٤° شرقاً.





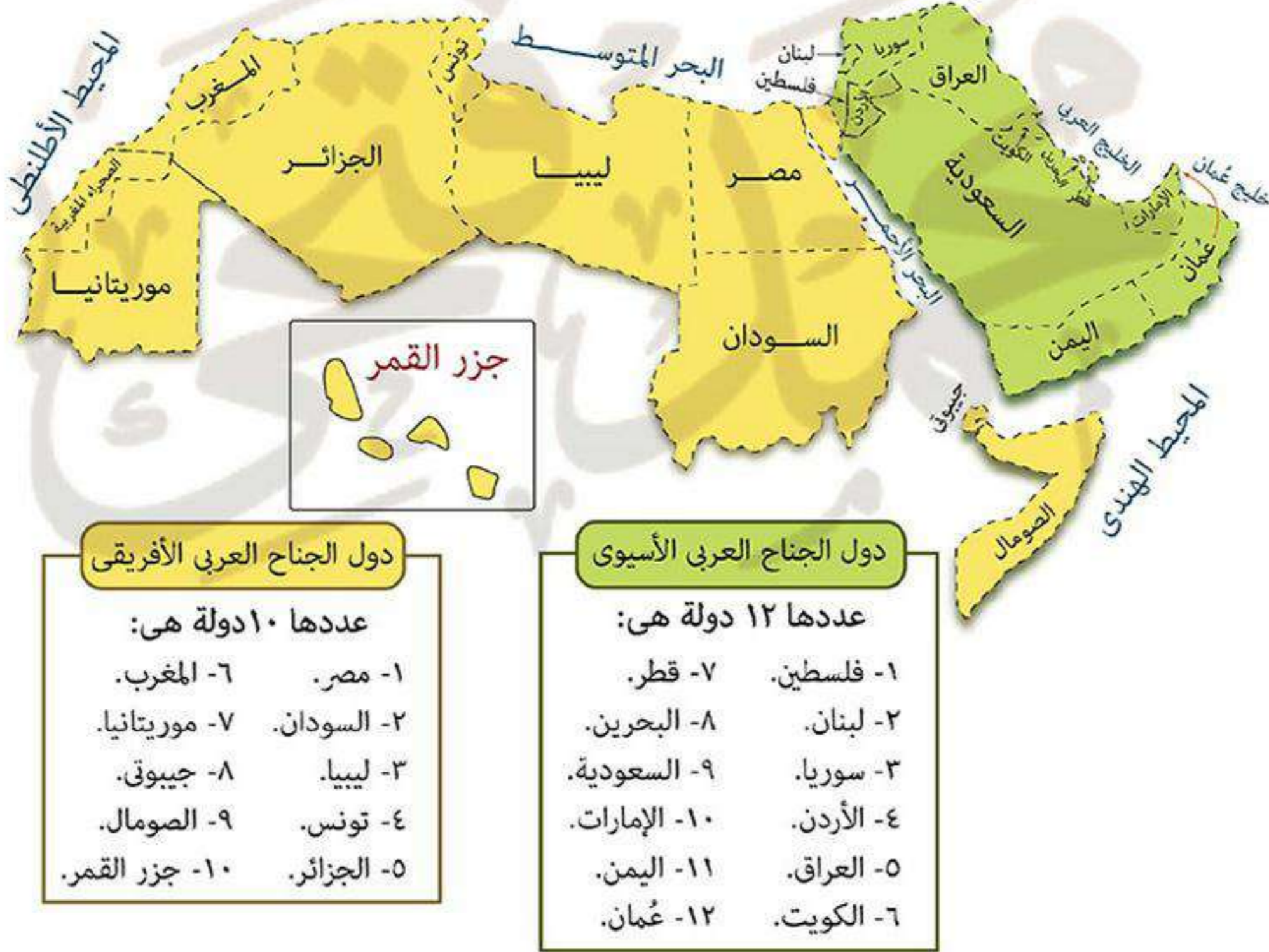
## ثانياً حدود الوطن العربي

- \* يحد الوطن العربي من:
  - الشمال الشرقي: جبال زاغروس - جبال كردستان.
  - الشمال: جبال طوروس - البحر المتوسط.
  - الجنوب: المحيط الهندي - دول وسط أفريقيا.
  - الشرق: البحر العربي - خليج عمان - الخليج العربي.
  - الغرب: المحيط الأطلنطي.

**ما النتائج المترتبة على: امتداد حدود الوطن العربي مع ظواهر طبيعية في معظم الجهات؟**  
 كم ترتب على ذلك: (١) احتفاظ الوطن العربي بشخصيته العربية المميزة بين الأمم.  
 (٢) اتصاله الوطن العربي بالعالم الخارجي.

## ثالثاً مساحة ودول الوطن العربي

- \* تبلغ مساحة الوطن العربي نحو ١٣ مليون كم<sup>٢</sup>.
- \* يضم الوطن العربي ٢٢ دولة تتوزع بين قارتي آسيا - أفريقيا كالتالي:



## رابعاً أهمية موقع الوطن العربي

### ١ الأهمية الحضارية للوطن العربي

**بم تفسر: الأهمية الحضارية للوطن العربي؟**

**كم بسبب: قيام حضارات قديمة على أرض الوطن العربي:**

- (١) الحضارة المصرية القديمة (الفرعونية).
- (٢) حضارات بلاد الشام.
- (٣) حضارات بلاد العراق القديم (بلاد ما بين النهرين).
- (٤) حضارات بلاد اليمن.







مسجد قبة الصخرة



الكعبة المشرفة

## ٢ الأهمية الدينية للوطن العربي

بم تفسر: الأهمية الدينية للوطن العربي؟  
 كم بسبب أن الوطن العربي:

- (١) مهد للديانات السابوية الثلاث (اليهودية - المسيحية - الإسلامية) ومنه انتشرت إلى العالم.
- (٢) يوجد به أماكن مقدسة يقصدها الناس لزيارتها مما جعل له قيمة روحية عظيمة مثل:
  - الكعبة المشرفة: في السعودية.
  - المسجد الأقصى ومسجد قبة الصخرة - كنيسة المهد: في فلسطين.

## ٣ الأهمية الاقتصادية والاستراتيجية للوطن العربي

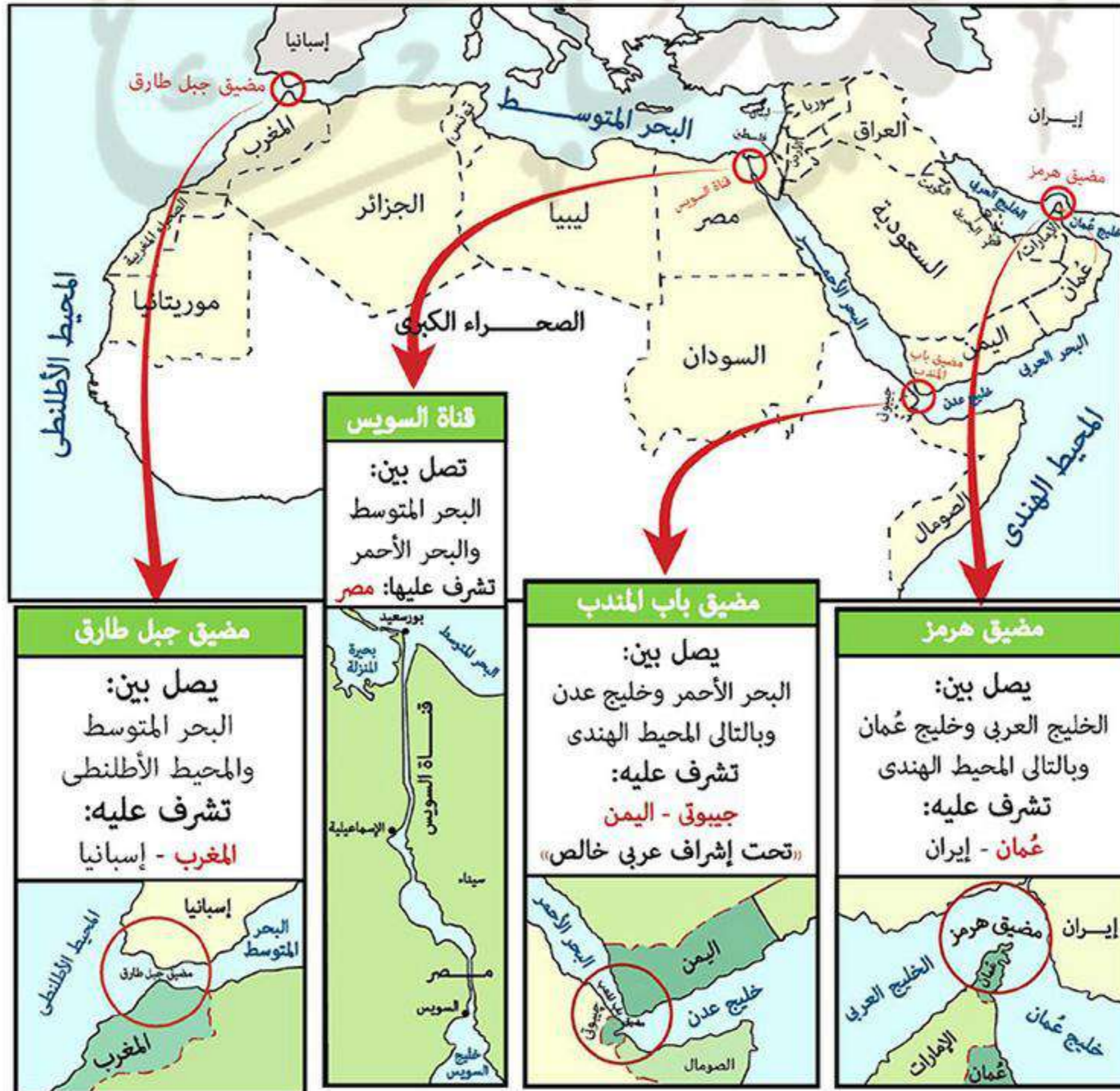
بم تفسر: الأهمية الاقتصادية والاستراتيجية للوطن العربي؟

- (١) تنوع موارده الاقتصادية بسبب: تنوع الأقاليم المناخية والحياة النباتية والتكوينات الجيولوجية به.
- (٢) وجود البترول والغاز الطبيعي على أرضه.
- (٣) تحكمه في طرق التجارة العالمية على مر العصور بسبب:
  - موقعه المتوسط بين قارات العالم.

### الأهمية الاستراتيجية

هي الأهمية وقت الحروب والأزمات والسلام.

- إشرافه على ثلاثة أذرع مائية (البحر المتوسط - البحر الأحمر - الخليج العربي).
- تحكمه في أربع ممرات مائية مهمة زادت من أهميته الاقتصادية والاستراتيجية هي:
  - (مضيق هرمز - مضيق باب المندب - مضيق جبل طارق - قناة السويس).





**ما النتائج المترتبة على: أهمية الوطن العربي الاستراتيجية؟**  
**كم ترتب على ذلك: تعرض الوطن العربي للاستعمار الأوربي الذي قام:**  
 (١) بنهب خيرات الوطن العربي.  
 (٢) تقسيم الوطن العربي إلى دول مختلفة في المساحة وعدد السكان  
 يفصل بينها حدود سياسية مصطنعة.



حملت جميع الدول العربية على استقلالها ماعدا:  
 - فلسطين يكافح شعبها للحصول على الاستقلال.  
 - سبتة ومليلة من المدن المغربية.  
 - بعض الجزر الإماراتية.

**ما النتائج المترتبة على: الاستعمار الأوربي للوطن العربي؟**  
**كم ترتب على ذلك: حدوث بعض المشكلات السياسية مثل:**  
 (١) مشكلة فلسطين: واحتلال اليهود لها.  
 (٢) مشكلتي جنوب السودان و دارفور.  
 (٣) مشكلة بعض المدن المغربية مثل سبتة ومليلة.

## أختبر

### أكمل:

١. يقع الوطن العربي بين دائرتي عرض ..... شمالاً إلى ..... جنوباً.
٢. تمتد أراضي الوطن العربي في قارتي ..... و ..... ويفصل بينهما .....
٣. يجد الوطن العربي غرباً .....
٤. من الأماكن المقدسة في الوطن العربي ..... بالسعودية.
٥. من الممرات المائية المهمة التي تشرف عليها مصر .....
٦. من المشكلات التي ظهرت في الوطن العربي نتيجة الاستعمار مشكلة ..... واحتلال اليهود لها.
٧. يقع الوطن العربي بين قارات العالم القديم ..... و ..... و .....
٨. يمتد الوطن العربي بين خطي طول ..... شرقاً و ..... غرباً.
٩. من المدن المغربية التي ما زالت غير مستقلة حتى الآن ..... و .....
١٠. يمر في الوطن العربي دائرتي عرض رئيسيتين هما ..... و .....
١١. تقع دولة جزر القمر عند تقاطع دائرة عرض ..... جنوباً مع خط طول ..... شرقاً.
١٢. الأهمية الاستراتيجية تكون وقت ..... والأزمات ووقت .....

### ما النتائج المترتبة على:

١. تعرض الوطن العربي للاستعمار؟

.....

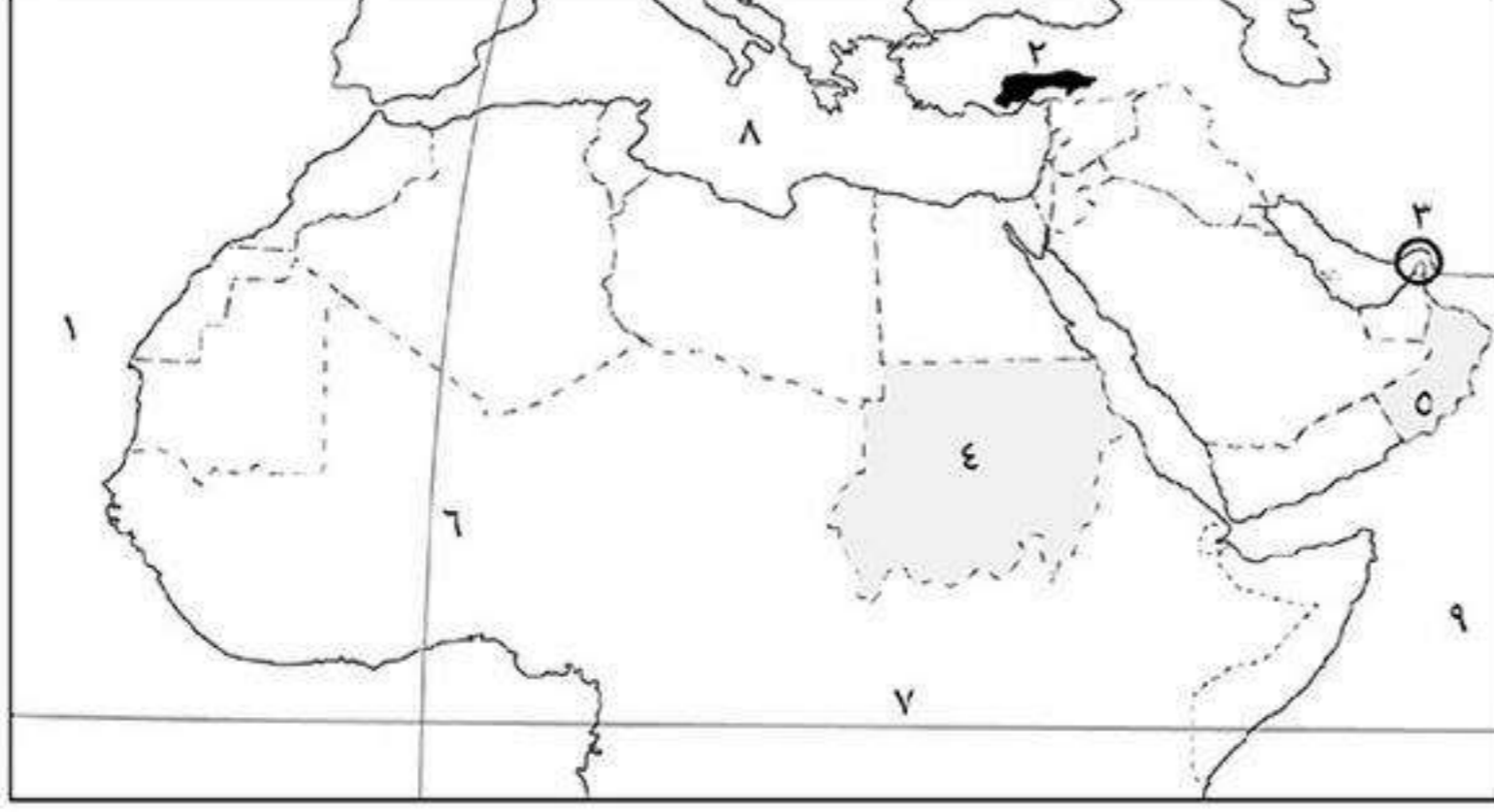
٢. إشراف الوطن العربي على ممرات مائية مهمة؟

.....

٣. امتداد ظواهر طبيعية مع حدود الوطن العربي؟

.....



**أكتب ما تشير إليه الأرقام الآتية :**

- (١) المحيط : .....
- (٢) جبال .....
- (٣) مضيق: .....
- (٤) دولة .....
- (٥) دولة .....
- (٦) خط طول رئيسي .....
- (٧) دائرة عرض رئيسية .....
- (٨) البحر .....
- (٩) المحيط .....

**بم تفسر :**

١. للوطن العربي أهمية دينية ؟

.....  
 .....

٢. تقسيم الوطن العربي إلى دول مختلفة المساحة ؟

.....  
 .....

٣. للوطن العربي أهمية اقتصادية واستراتيجية ؟

.....  
 .....

٤. حدوث مشكلة فلسطين ؟

.....  
 .....

٥. تنوع موارد الوطن العربي ؟

.....  
 .....

**ضع علامة (✓) أو (×) مع التصويب:**

- ( ) ١ كل الدول العربية تمتلك سواحل تطل على البحار والمحيطات.
- ( ) ٢ يجد الوطن العربي من الشمال الشرقي جبال طوروس وكرديستان.
- ( ) ٣ يمر خط جريتش غرب الوطن العربي في دولة المغرب.
- ( ) ٤ يضم الوطن العربي ٢٢ دولة في آسيا وأفريقيا وأوروبا.
- ( ) ٥ يقع مضيق باب المندب تحت اشراف عربي تام.
- ( ) ٦ يربط مضيق هرمز بين خليج عمان والخليج العربي.
- ( ) ٧ يربط مضيق جبل طارق بين البحر الأحمر والمحيط الهندي.

**ما المقصود بالمصطلحات الآتية:**

١. الأهمية الاستراتيجية: .....
٢. الموقع الفلكي: .....
٣. الموقع الجغرافي: .....



## تضاريس الوطن العربي

\* تضاريس يوجد بالوطن العربي تضاريس متنوعة وهي لا تمثل عائقاً أمام وحدته بل عامل يسهم في الوحدة بين أبنائه.

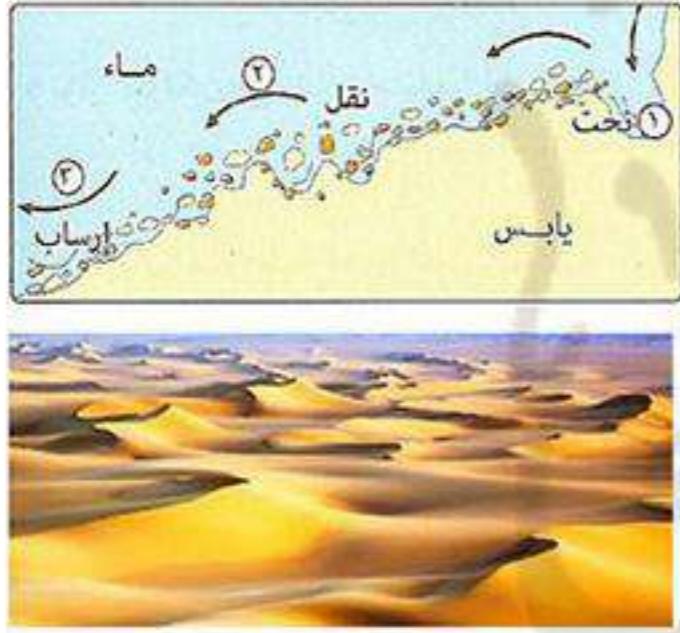
## عوامل تشكيل سطح الوطن العربي

١ العوامل الباطنية تحدث من باطن الأرض وتتمثل فـهـ:

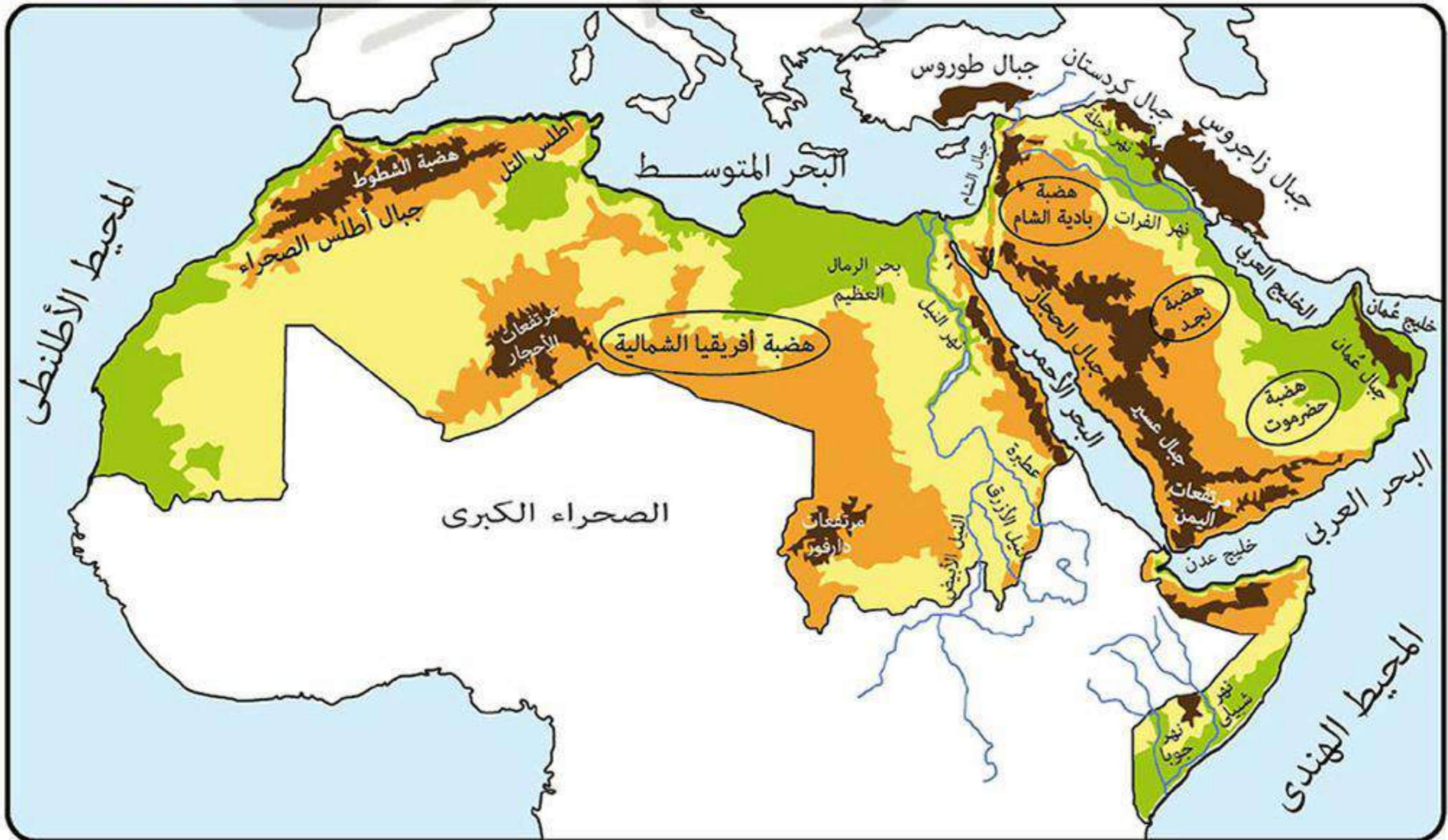


الحركات الالتوائية	أدت إلى تكون سلاسل جبلية مرتفعة.
الحركات الانكسارية	هي حركات أصابت الصخور الصلبة وأدت إلى: انخفاض بعض الصخور مكونة بحار وارتفاع بعض الصخور مكونة جبال.
الثورات البركانية	أدت إلى ظهور الجبال والهضاب البركانية. مثل: هضبة اليمن.

٢ العوامل الخارجية تحدث فوق سطح الأرض وتتمثل فـهـ:



التعرية المائية (نهرية - بحرية)	تقوم المياه بنحت الصخور ونقلها وإرسائها مما يؤدي إلى تكوين أشكال سطح متعددة مثل: الشواطئ - الدالات.
التعرية الهوائية (الرياح)	تقوم الرياح بنحت الصخور ونقلها وإرسائها مما يؤدي إلى تكوين أشكال سطح متعددة مثل: الكثبان الرملية.





## أهم مظاهر سطح الوطن العربي

## أولاً الجبال

تنقسم الجبال حسب تكوينها إلى:

الجبال الانكسارية	الجبال الالتوائية
هي جبال نشأت نتيجة الحركات الإنكسارية التي أصابت الصخور الصلبة من القشرة الأرضية. مثل: (١) جبال البحر الأحمر. (٢) جبال الشام.	هي جبال نشأت نتيجة الحركات الالتوائية التي تعرضت لها صخور القشرة الأرضية. مثل: (١) جبال زاغروس. (٢) جبل كردستان. (٣) جبال أطلس. (٤) جبال عُمان.

## ١ الجبال الالتوائية من أمثلتها:

**جبال أطلس:** الامتداد: تمتد من الغرب إلى الشرق في (المغرب - تونس - الجزائر).

تتكون من: مجموعة سلاسل جبلية أهمها: - أطلس التل في الشمال.  
- أطلس الصحراء في الجنوب.

تنحصر بينهما  
هضبة الشطوط

## ٢ الجبال الانكسارية من أمثلتها:

**جبال البحر الأحمر:** الامتداد: تمتد على جانبي البحر الأحمر.

تتكون من: عدة مرتفعات في: • الجناح الأفريقي تعرف في مصر والسودان بجبال البحر الأحمر.  
• الجناح الآسيوي تعرف في: - السعودية: باسم جبال الحجاز وجبال عسير.  
- اليمن: باسم مرتفعات اليمن.

**جبال الشام:** الامتداد: تمتد على طول الساحل الشرقي للبحر المتوسط في (سوريا - لبنان - فلسطين).

تتكون من: سلاسل جبلية تحصر بينها عدة سهول تجرى فيها عدة أنهار مثل:

• نهر الليطاني: في لبنان.

• نهر العاصي: في سوريا.

## ثانياً الهضاب

هضاب الجناح الآسيوي	هضاب الجناح الأفريقي
هضبة حزموت: تمتد في جنوب شبه الجزيرة العربية. هضبة نجد: تمتد في وسط شبه الجزيرة العربية. هضبة بادية الشام: تمتد في شمال شبه الجزيرة العربية.	هضبة أفريقيا الشمالية: • تمتد من: - جبال البحر الأحمر شرقاً إلى المحيط الأطلنطي غرباً. - البحر المتوسط شمالاً إلى وسط أفريقيا جنوباً. * تعتبر هضبة الشطوط أهم مظاهرها.



## \* تنتشر بعض الظواهر الطبيعية فوق هضاب الوطن العربي مثل:

هي أرض منخفضة في الصحراء صالحة للحياة وتعتمد على المياه الجوفية من الآبار والعيون العذبة.

## الواحات

- مثل: • واحة سيوة: في مصر.
- واحة الكفرة: في ليبيا.

## بم تفسر: أهمية الواحات؟

■ لأنها: يوجد بها مياه جوفية وأرضها خصبة صالحة للزراعة ويعمل سكانها بالزراعة وتربية الحيوانات.



هي أودية كانت تجري بها المياه قديماً ثم جفت.

## الأودية الجافة

- مثل: وادي العلاقي: في مصر.

## بم تفسر: أهمية الأودية الجافة؟

■ لأنها: (١) تستخدم كطرق للمواصلات. (٢) يسهل الحصول منها على المياه الجوفية.



هي أراضي سهلية منبسطة من سطح اليابس (القارات) تتميز باستواء سطحها.

## السهول

## ثلاثاً

## \* تنقسم السهول في الوطن العربي إلى:

## ٢ السهول الساحلية

أراضي منخفضة مستوية السطح مختلفة الاتساع وتمتد على سواحل البحار والمحيطات.

بعضها صالح للزراعة وبعضها مليء بالثروات المعدنية ومصادر الطاقة.

- سهول البحر المتوسط: وهي صالحة للزراعة.
- سهول البحر الأحمر: يستخرج منها الثروات المعدنية ومصادر الطاقة.
- سهول الخليج العربي:

## ١ السهول الفيضية

أراضي مستوية أو شبه مستوية السطح كونتها الأنهار عن طريق ترسيب المواد العالقة بمياهها على جانبي الأنهار.

ترتبتها خصبة صالحة للزراعة.

لذلك يرتفع بها كثافة السكان.

• سهول نهر النيل: في مصر والسودان.

• سهول نهري دجلة والفرات: في العراق.

• سهول نهري جوبا وشبيلي: في الصومال.

• سهول نهر الأردن: في الأردن.

تربتها

أهميتها

مثل



كثبان رملية

هي سهول كونتها الرياح عن طريق النحت أو الإرساب.

## ٣ السهول الصحراوية

- أنواعها: • سهول صخرية.
- إرسابات رملية.



## تدريبات (١)

## أكمل:

- ١) تتكون جبال أطلس من سلسلة جبال ..... في الشمال وجبال ..... في الجنوب وتُحصر بينهما هضبة .....
- ٢) من الجبال الانكسارية في السعودية جبال ..... و.....
- ٣) من الهضاب البركانية في الجناح العربي الآسيوي .....
- ٤) من العوامل الباطنية التي شكلت سطح الأرض الحركات ..... والحركات ..... والثورات البركانية.
- ٥) من أشكال سطح الأرض الناتجة عن التعرية المائية ..... و.....
- ٦) من هضاب الجناح العربي الأفريقي هضبة ..... ومن أهم مظاهرها .....
- ٧) من أمثلة الواحات في الوطن العربي واحة ..... في مصر وواحة ..... في ليبيا.
- ٨) من أمثلة التكوينات الرملية بين مصر وليبيا .....
- ٩) من السهول الساحلية التي تصلح للزراعة سهول .....
- ١٠) من السهول الفيضية في دولة الصومال سهول نهري ..... و.....

## ضع علامة (✓) أو (×) مع التصويب:

- ١) تكونت هضبة اليمن نتيجة حركات التوائية. ( )
- ٢) من هضاب الجناح العربي الأفريقي هضبة الشطوط. ( )
- ٣) جبال عُمان تعتبر من الجبال الالتوائية بالوطن العربي. ( )
- ٤) تضاريس الوطن العربي تمثل عائقاً أمام وحدته. ( )
- ٥) من السهول الساحلية التي يستخرج منها مصادر طاقة سهول نهر الأردن. ( )
- ٦) كون نهري دجلة والفرات سهل فيضي في العراق. ( )
- ٧) وادي العلاقي من أمثلة الأودية الجافة في مصر. ( )
- ٨) توجد هضبة نجد جنوب شبه الجزيرة العربية. ( )

## بم تفسر:

- ١) تكون السلاسل الجبلية ؟
- ٢) أهمية الواحات في الوطن العربي ؟
- ٣) أهمية السهول الفيضية الخصبة لسكان الوطن العربي ؟
- ٤) أهمية الأودية الجافة ؟

## أكتب ما تشير إليه العبارات الآتية:

- ١) نحت الماء للصخور ونقلها وإرسابها.
- ٢) أراضي مستوية أو شبه مستوية تمتد على سواحل البحار والمحيطات.
- ٣) أودية كانت تجري بها المياه في العصور القديمة ثم جفت.
- ٤) أراضي منخفضة في الصحراء يعيش بها السكان وتربى فيها الحيوانات.
- ٥) سهول كونتها الانهار عن طريق ترسيب المواد العالقة بمياهها.

## ماذا يحدث إذا:

- ١) لم يتعرض الوطن العربي للحركات الالتوائية ؟



## اختبار

## أكمل:

- (١) نشأت جبال البحر الأحمر نتيجة حركات ..... بينما نشأت جبال عُمان نتيجة حركات .....
- (٢) تعرف جبال البحر الأحمر في السعودية باسم جبال ..... وجبال .....
- (٣) تمتد هضبة أفريقيا الشمالية من ..... غرباً إلى ..... شرقاً.
- (٤) من أشهر قبائل العرب بمكة .....
- (٥) تمتد هضبة ..... وسط شبه الجزيرة العربية.
- (٦) من أسواق العرب سوق ..... وسوق .....
- (٧) من النساء اللاتي اشتهرن بالطب في المجتمع العربي قديماً السيدة ..... من بنى .....

## بم نفيسر:

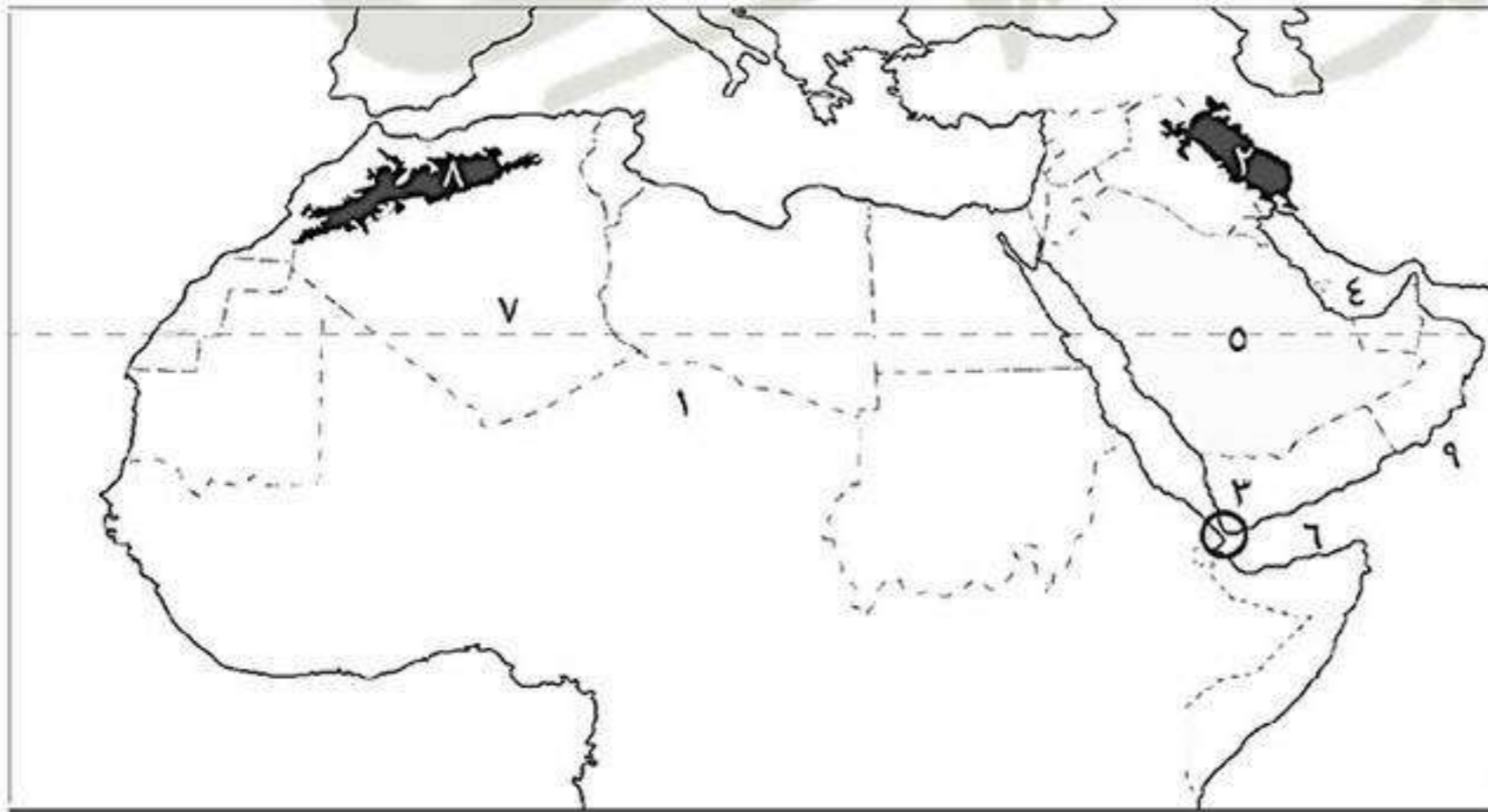
- (١) تكون السهول الفيضية ؟
- (٢) أهمية سهول البحر الأحمر ؟
- (٣) سيادة النظام القبلي في شبه الجزيرة العربية ؟
- (٤) الأهمية الاقتصادية للوطن العربي ؟

## اكتب ما تشير إليه الجمل الآتية:

- (١) أرض منخفضة ومستوية السطح تمتد على جوانب الأنهار. (.....)
- (٢) عملية نحت الماء للصخور ونقلها وإرسابها فيؤدي لتكون الأنهار والشواطئ. (.....)
- (٣) الأهمية وقت الحرب والسلام. (.....)
- (٤) ممر مائي يقع تحت إشراف عربي خالص. (.....)
- (٥) دولة قديمة اتخذت الديانة المسيحية ديناً رسمياً لها قبل الإسلام. (.....)

## اكتب مدلول الأرقام الآتية:

- (١) هضبة .....
- (٢) جبال .....
- (٣) مضيق .....
- (٤) الخليج .....
- (٥) هضبة .....
- (٦) خليج .....
- (٧) دائرة عرض .....
- (٨) جبال .....
- (٩) البحر .....



## اختر الإجابة الصحيحة:

- (١) الظاهرة التضاريسية التي توجد في الجناح العربي الإفريقي والأسوي هي .....  
(جبال أطلس - هضبة بادية الشام - سهول نهر النيل - جبال البحر الأحمر)
- (٢) اعترفت دولة الروم بالديانة ..... ديناً رسمياً للبلاد.  
(اليهودية - المسيحية - الوثنية - الحنيفية)
- (٣) يجري نهر ..... في دولة لبنان.  
(النيل - الفرات - الليطاني - العاصي)







## أحوال شبه الجزيرة العربية قبل ظهور الإسلام

## ١ الحياة الدينية

- كانت شبه الجزيرة العربية مهداً لكثير من الأنبياء ومنهم: **هود** عليه السلام - **صالح** عليه السلام - **شُعيب** عليه السلام - **إسماعيل** بن إبراهيم عليه السلام.
- \* **لذلك** عرف أهل مكة ومن حولها التوحيد والإيمان بالله قبل عبادة الأوثان والأصنام.
- تعددت الديانات والعبادات في شبه الجزيرة العربية حيث ظهر بها:
  - الحنيفية: هي عبادة الله وحده لا شريك له على دين **سيدنا إبراهيم** عليه السلام وبقي القليل على الحنيفية بعد انتشار عبادة الأصنام.
  - عبادة الأصنام: عرفها الناس مع مرور الوقت واتخذت كل قبيلة صنم.
  - اليهودية: هي دين **سيدنا موسى** عليه السلام.
  - المسيحية: وهي دين **سيدنا عيسى** عليه السلام.

## ٢ الحياة السياسية (النظام السياسي)

## قبيلة

مجموعة من الناس ينتمون إلى أصل واحد تربطهم رابطة الدم والعصبية والنسب.

- **بم تفسر:** ساد النظام القبلي شبه الجزيرة العربية ؟
- **لأنها:** كانت عبارة عن قبائل متفرقة ولكل قبيلة شيخ يحكمها وقانون يحدد حقوق وواجبات كل فرد في القبيلة.
- \* من أشهر القبائل العربية في شبه الجزيرة العربية قبيلة **قريش** في مكة.

## ٣ الحياة الاقتصادية

مارس أهل شبه الجزيرة العربية عدة أنشطة منها:

- الرعي: كانت هي الحرفة السائدة في البادية (الصحراء).
- الزراعة: كانت قليلة لندرة الأمطار.
- الصناعة: قاموا ببعض الصناعات مثل: صناعة السيوف والرماح.
- التجارة: كان لأهل مكة مكانة تجارية متميزة.

■ **بم تفسر:** المكانة التجارية المتميزة لأهل مكة ؟

- **لأنهم** قاموا بتنظيم رحلتين: • رحلة الشتاء: إلى اليمن.
- رحلة الصيف: إلى بلاد الشام.



## ٤ الحياة الثقافية

- اشتهر العرب بالشعر والخطابة ومن أشهر شعراء العرب: **النابغة الذبياني**.
- **بم تفسر:** لم تكن الأسواق في شبه الجزيرة العربية للتجارة فقط ؟
- **لأنها:** كانت أيضاً ميداناً لتنافس الشعراء والخطباء.
- من أشهر الأسواق في شبه الجزيرة العربية: **سوق عكاظ** - **سوق ذي المجاز**.





## ٥ الحياة الاجتماعية

- كان المجتمع العربى ينقسم إلى: • بدو: هم سكان الصحراء.
- حضر: هم سكان المدن.
- اتصف العرب قبل الإسلام ببعض الأخلاق ومنها:

## عادات سيئة

- وأد البنات (دفن البنات أحياء).
- شرب الخمر.
- لعب الميسر (القمار).
- الأخذ بالثأر.

## أخلاق حميدة

- الشجاعة والكرم.
- الصبر.
- حماية الجار.
- العفو عند المقدرة.
- الوفاء بالعهد.

- تمتعت بعض النساء بمكانة عالية فى المجتمع العربى قبل الإسلام مثل: السيدة خديجة رضي الله عنها.
- مارست بعض النساء مهنة الطب مثل: السيدة زينب من بنى أود.

**بم تفسر:** كان العالم فى حاجة إلى مجيء النبى ﷺ ؟  
 لكى: (١) يرشد الناس إلى عبادة الله وحده.  
 (٢) ينشر قيم العدل والمساواة والرحمة والتسامح.

## أسئلة

## أكمل:

- (١) من البلاد العربية التى احتلها الفرس ..... و.....
- (٢) ظهرت ديانات فى شبه الجزيرة العربية مثل ..... و..... واليهودية والمسيحية.
- (٣) من الحضارات القديمة التى قامت فى شبه الجزيرة العربية حضارة قوم ..... وحضارة قوم .....
- (٤) من ممالك شمال شبه الجزيرة العربية ..... و..... فى الشمال.
- (٥) من أشهر مدن شبه الجزيرة العربية ..... و.....
- (٦) من أشهر شعراء العرب قديماً .....

## أكتب ما تشير إليه الجمل الآتية:

- (١) مجموعة من الناس ينتمون إلى أصل واحد تربطهم رابطة الدم والعصبة والنسب. (.....)
- (٢) دولة قديمة اتخذت المسيحية دين رسمى لها واحتلت مصر وبلاد الشام. (.....)
- (٣) بلاد كانت قبيلة قريش تقوم برحلة تجارية إليها فى فصل الشتاء. (.....)

## ضع علامة (✓) أو (×) مع التصويب:

- ( ) (١) كان النظام الملكى هو النظام السياسى السائد فى شبه الجزيرة العربية.
- ( ) (٢) من أشهر أسواق العرب فى شبه الجزيرة العربية سوق عكاظ وسوق الجمعة.
- ( ) (٣) عرف أهل مكة عبادة الأصنام قبل الحنيفية دين سيدنا إبراهيم عليه السلام.

## بم تفسر:

- (١) حاجة العالم إلى مجيء النبى محمد ﷺ ؟



## اختبار

## أكمل:

- ١) يمتد الوطن العربي بين خطى طول ..... و.....
- ٢) يمر في الوطن العربي خط طول رئيسى هو ..... ويمر في دولة .....
- ٣) من الدول العربية التى تقع خارج نطاق الوطن العربي دولة .....
- ٤) من الدول التى كانت قبل مجىء الإسلام دولة ..... وقام أهلها بتقديس البقر والزواحف.
- ٥) انقسم المجتمع العربى فى شبه الجزيرة العربية إلى ..... و.....
- ٦) من العادات السيئة عند العرب قبل الإسلام ..... البنات وشرب ..... ولعب ..... والأخذ .....
- ٧) من ممالك جنوب شبه الجزيرة العربية ..... و..... و.....

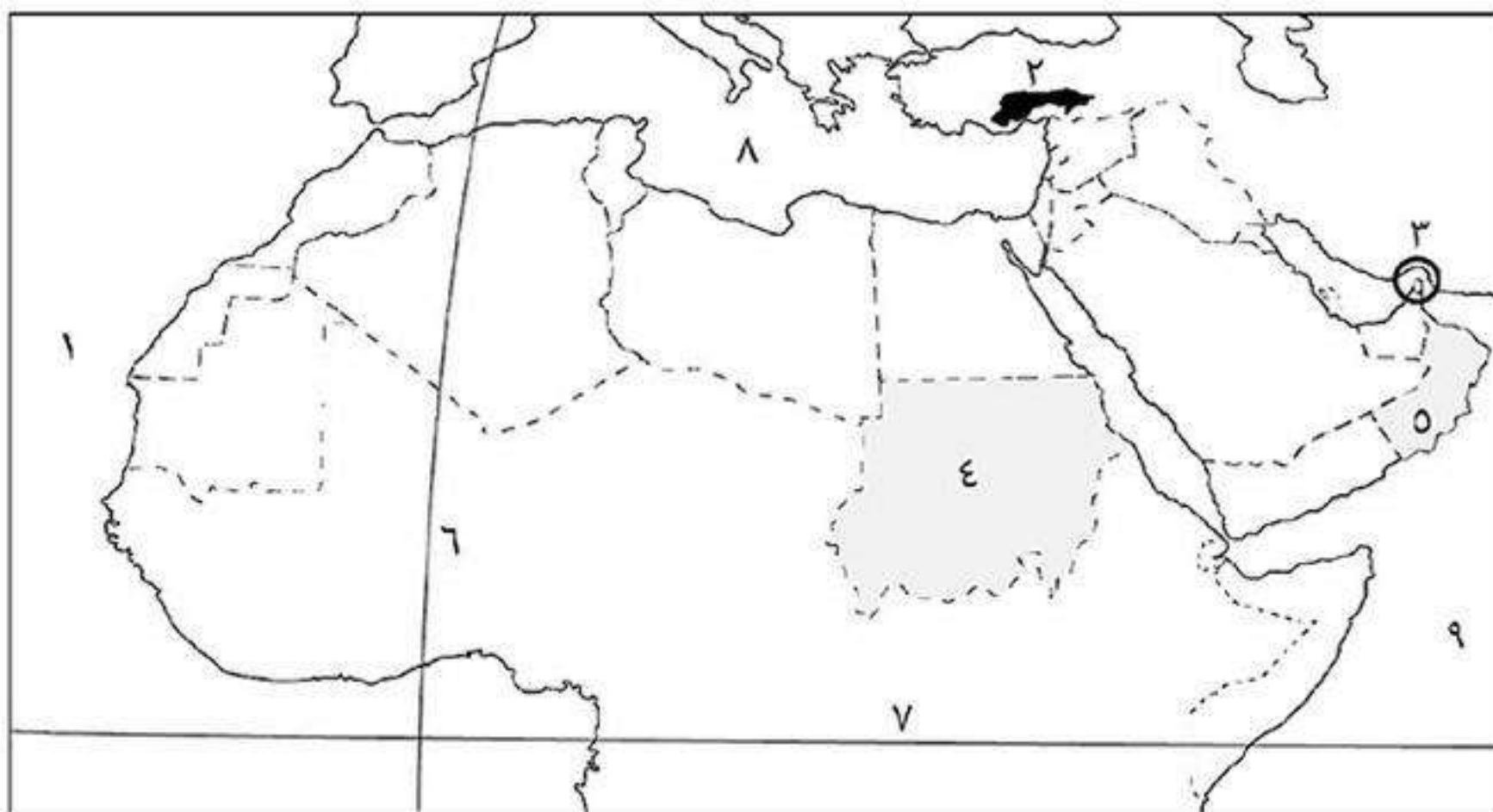
## بم تفسر:

- ١) للوطن العربى أهمية استراتيجية ؟
- ٢) الأهمية الحضارية للوطن العربى ؟
- ٣) سيادة النظام القبلى فى شبه الجزيرة العربية قبل الإسلام ؟
- ٤) لم تكن أسواق العرب للتجارة فقط ؟
- ٥) تمتع أهل مكة بمكانة تجارية متميزة ؟

## أكتب ما تشير إليه الجمل الآتية:

- ١) موقع المكان بالنسبة لليابس والماء. (.....)
- ٢) موقع المكان بالنسبة لخطوط الطول ودوائر العرض. (.....)
- ٣) الأهمية وقت الحرب والسلام. (.....)
- ٤) دولة عربية ما زالت محتلة حتى الآن. (.....)
- ٥) مجموعة من الناس يتمون إلى أصل واحد تربطهم رابطة الدم والعصبية والنسب. (.....)

## اكتب مدلول الأرقام الآتية:



- ١) المحيط .....
- ٢) جبال .....
- ٣) مضيق .....
- ٤) دولة .....
- ٥) دولة .....
- ٦) خط طول .....
- ٧) دائرة عرض .....
- ٨) البحر .....
- ٩) المحيط .....

## قارن بين:

- ١) دولة الفرس ودولة الروم من حيث: (الديانة - الدول التى احتلتها) ؟
- ٢) دول الجناح العربى الإفريقى ودول الجناح العربى الأسيوى من حيث: (العدد - المسطحات المائية التى تطل عليها) ؟

ما النتائج المترتبة على: امتداد حدود الوطن العربى مع ظواهر طبيعية ؟



## مولد ونشأة النبي محمد ﷺ

## مولد النبي محمد ﷺ

■ ولد النبي محمد ﷺ في مكة يوم الاثنين الموافق الثاني عشر من شهر ربيع الأول عام ٥٧٠م وعرف هذا العام بـ (عام الفيل).



**بم تفسر:** تسمية عام ٥٧٠م بعام الفيل؟

**كـ لأن:** في هذا العام حاول أبرهة الحبشي حاكم اليمن هدم الكعبة وجهد جيشاً كبيراً يضم عدد من الأفيال ولكن الله حفظ بيته وأهلك أبرهة وجيشه.

**بم تفسر:** محاولة أبرهة الحبشي هدم الكعبة؟

**كـ لكي:** يصرف العرب عن زيارة وتعظيم الكعبة ويتجهوا لزيارة كنيسته التي بناها بأرض اليمن.

■ ولد النبي ﷺ يتيماً: حيث مات أبوه أثناء عودته من رحلة تجارية لبلاد الشام ودفن في يثرب (المدينة المنورة حالياً).

■ فرح بمولد النبي ﷺ جده عبد المطلب وبنى هاشم **لأنه:** كان عطاء لهم من الله وتعويضاً عن فقد أبيه وأخذه جده وطاف به حول الكعبة.

■ سماه جده «محمد» ليكون محموداً في الأرض وفي السماء، وهو اسم لم يكن مألوفاً عند العرب وقتها.

## نسب النبي محمد ﷺ

■ كان من أفضل الأنساب حيث:

• أبوه: هو عبدالله بن عبد المطلب بن هاشم بن عبد مناف بن قصي بن كلاب ويمتد نسبه إلى عدنان

من ولد سيدنا إسماعيل بن سيدنا إبراهيم ﷺ.

• أمه: هي أمينة بنت وهب من خيرة قريش.

## طفولة النبي محمد ﷺ

■ كان من عادات أشرف قريش يرسلون أبناءهم لمرضعات في البادية (الصحراء).

**بم تفسر:** إرسال أشرف مكة أبناءهم إلى البادية؟

**كـ لأن العيش في البادية يكسبهم:** قوة البنيان - رجاحة العقل - فصاحة اللسان.

■ أرسل النبي ﷺ للعيش في البادية عند مرضعة هي حليلة السعدية فأقام النبي ﷺ عندها أربعة أعوام

كانت كلها خير وبركة على بني سعد ثم أعادته إلى أمه.

■ أقام النبي ﷺ مع أمه حتى توفيت وهو في السادسة من عمره.

■ ثم كفله جده عبد المطلب لكنه توفي والنبي ﷺ في الثامنة من عمره فكفله عمه أبو طالب.



## حياة النبي محمد ﷺ فيه بيت عمه «أبو طالب»

- عاش النبي ﷺ في بيت عمه أبو طالب وكان أحب إليه من أولاده فأحسن تربيته ورعايته.
- اشتغل النبي ﷺ في طفولته برعى الأغنام ليساعد عمه ويخفف عنه العبء لأنه كان فقيراً كثير الأبناء.
- ما النتائج المترتبة على: اشتغال النبي محمد ﷺ برعى الأغنام؟
- كم ترتب على ذلك: اكتساب النبي ﷺ عدة صفات هي: الشجاعة - الرحمة والعطف - الصبر - التواضع.

## شباب النبي محمد ﷺ

- استمر النبي ﷺ يعمل في شبابه برعى الأغنام ثم عمل بحرفة التجارة وخرج في أكثر من رحلة تجارية إلى الشام.
- حفظ الله النبي ﷺ من أي سوء أو انحراف طوال فترة شبابه حيث عُرف عنه: العفة والطهارة ورجاحة العقل والصدق والأمانة فلقبوه بـ (الصادق الأمين).
- زواج النبي ﷺ من السيدة خديجة رضي الله عنها:
  - عندما سمعت السيدة خديجة بمحمد ﷺ أرسلت إليه ليخرج تاجراً يباهيها إلى بلاد الشام مع غلامها (خادمها) ميسرة فوافق النبي ﷺ.
  - بعد عودة النبي ﷺ وميسرة من الرحلة، أخبر ميسرة السيدة خديجة بصفات النبي ﷺ ولمست أمانته في التجارة.
  - ثم تزوج النبي ﷺ السيدة خديجة فكانت خير زوجة لخير شاب.
- أبناء النبي محمد ﷺ من السيدة خديجة:
  - ولدان: عبدالله - القاسم.
  - ٤ بنات: زينب - رقية - أم كلثوم - فاطمة.

## النبي محمد ﷺ

أبوه: عبد الله  
 جده: عبد المطلب  
 مرضعته: حليمة السعديّة  
 زوجته: السيدة خديجة  
 أبنائه (أولاد): عبد الله - القاسم  
 أبنائه (بنات): رقية - زينب - أم كلثوم - فاطمة



## أسئلة

## أكمل:

- ١) ولد الرسول ﷺ في مدينة ..... يوم ..... من شهر ربيع الأول عام .....
- ٢) سُمي عام ..... الذي ولد فيه الرسول ﷺ بعام .....
- ٣) توفت ..... أم النبي ﷺ وهو في سن .....
- ٤) بعد موت أم النبي ﷺ كفله جده ..... ثم توفي وكفله عمه .....
- ٥) عمل النبي ﷺ في طفولته بحرفة ..... ثم اشتغل بحرفة ..... في شبابه.
- ٦) خرج النبي ﷺ ليتاجر بهال السيدة ..... ومعه غلامها .....

## ضع علامة (✓) أو (×) مع التصويب:

- ١) يمتد نسب الرسول ﷺ إلى سيدنا إسماعيل. ( )
- ٢) بعد مولد الرسول ﷺ توفي والده عبدالله. ( )
- ٣) مكث الرسول ﷺ عند حليلة السعدية ثلاثة أعوام. ( )
- ٤) بدأ النبي ﷺ بممارسة حرفة التجارة ثم عمل بالرعى. ( )
- ٥) عرف الرسول ﷺ في شبابه بالصادق الأمين. ( )

## بم تفسر:

- ١) تسمية عام الفيل بهذا الاسم؟
- ٢) رغبة أبرهة الحبشي في هدم الكعبة المشرفة؟
- ٣) إرسال النبي ﷺ للعيش في البادية مع حليلة السعدية؟

## أكتب ما تشير إليه الجمل الآتية:

- ١) خرج بجيشه وحاول هدم الكعبة عام ٥٧٠م. (.....)
- ٢) طاف بالرسول ﷺ حول الكعبة وسماه محمد. (.....)
- ٣) المرضعة التي أقام النبي ﷺ عندها أربعة أعوام. (.....)
- ٤) تولى تربية النبي ﷺ بعد موت جده عبد المطلب. (.....)
- ٥) حرفة عمل بها النبي ﷺ أكسبته صفات كالرحمة والعطف والصبر والشجاعة. (.....)
- ٦) خرج مع النبي ﷺ في رحلة للشام ليتاجر بهال السيدة خديجة. (.....)

## أختر الإجابة الصحيحة مما بين القوسين:

- ١) اكتسب النبي ﷺ عدة صفات من عمله بحرفة. (التجارة - النجارة - الرعى)
- ٢) أبو النبي ﷺ هو. (عبد المطلب - أبو طالب - عبدالله)
- ٣) توفي جد النبي ﷺ وهو في سن. (السادسة - الثامنة - الثانية عشر)
- ٤) أرسلت السيدة خديجة إلى النبي ﷺ ليتاجر بهاها مع غلامها. (أبرهة - ميسرة - بحيرا)
- ٥) دفن أبو النبي ﷺ في مدينة. (الشام - مكة - يثرب)
- ٦) ولد النبي ﷺ في مدينة ..... (يثرب - المدينة - الشام - مكة)

## ما النتائج المترتبة على:

- ١) عمل النبي ﷺ بحرفة الرعى؟
- ٢) شهرة النبي ﷺ بـ (الصادق الأمين)؟



## اختبار

حدد أوجه الشبه والاختلاف بين: (جبال الشام – جبال البحر الأحمر) ؟

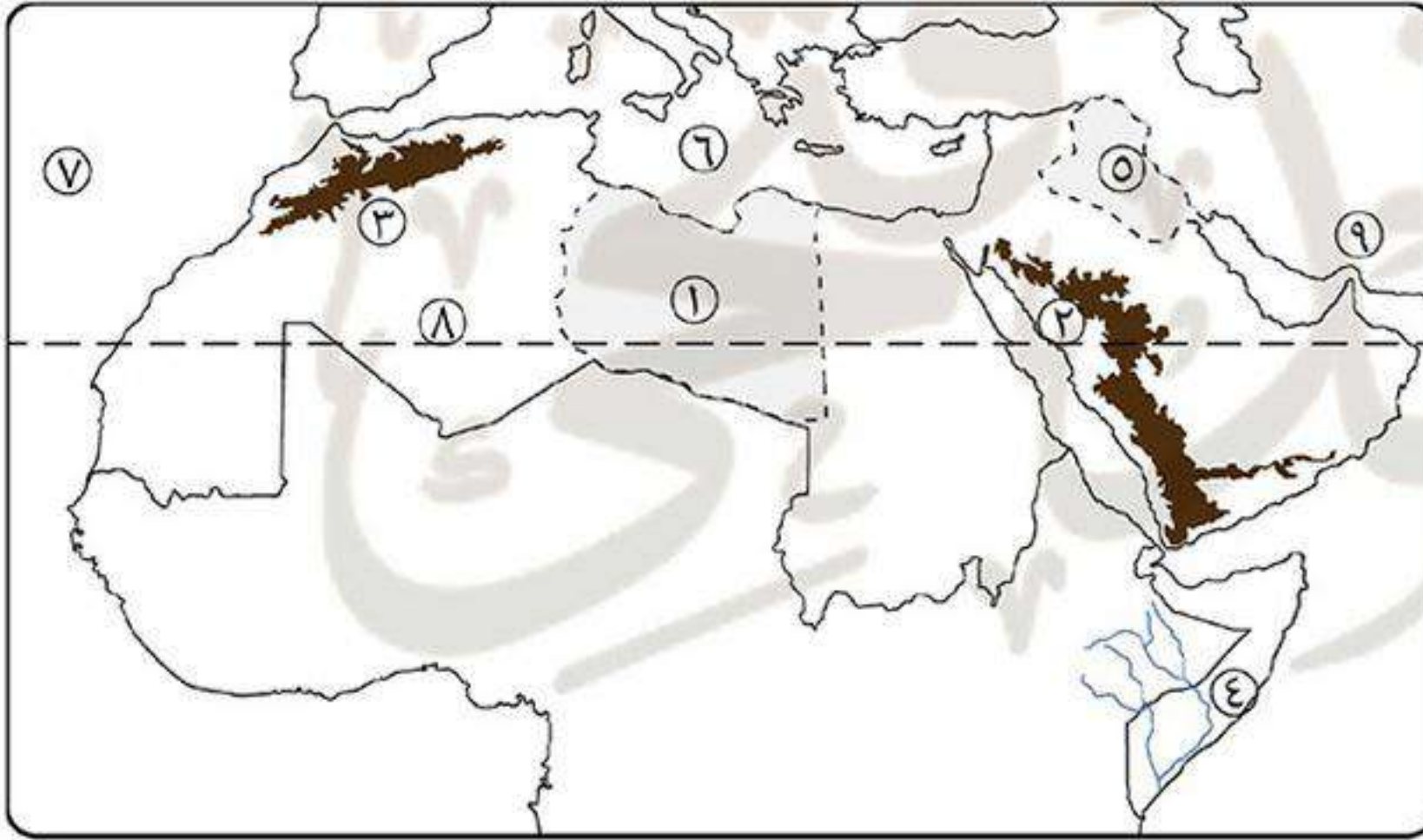
بم تفسر:

- (١) تقسيم الوطن العربي إلى دول مختلفة المساحة ؟
- (٢) أهمية الأودية الجافة ؟
- (٣) أهمية أسواق العرب قديماً ؟

أكتب ما تشير إليه الجمل الآتية:

- (١) موقع المكان بالنسبة لليابس والماء.
- (٢) موقع المكان بالنسبة لخطوط الطول ودوائر العرض.
- (٣) الأهمية وقت الحرب والسلام.
- (٤) دولة عربية ما زالت محتلة حتى الآن.
- (٥) مجموعة من الناس يتمون إلى أصل واحد تربطهم رابطة الدم والعصية والنسب. (.....)

اكتب مدلول الأرقام الآتية:



- (١) دولة .....
- (٢) جبال .....
- (٣) جبال .....
- (٤) نهر .....
- (٥) دولة .....
- (٦) البحر .....
- (٧) المحيط .....
- (٨) دائرة عرض .....
- (٩) مضيق .....

ما المقصود بالمصطلحات الآتية:

- (١) حنيقية ؟
- (٢) حركات انكسارية ؟
- (٣) قبيلة ؟
- (٤) أهمية استراتيجية ؟

ما النتائج المترتبة على:

- (١) تعرض الوطن العربي للاستعمار الأوروبي ؟

اختر الإجابة الصحيحة:

- (١) توجد هضبة بادية الشام في ..... شبه الجزيرة العربية.
  - (٢) تعد سهول ..... من السهول الساحلية الصالحة للزراعة.
  - (٣) تشرف دولة إيران وعمان على مضيق .....
  - (٤) احتلت دولة ..... العراق واليمن قبل الإسلام.
  - (٥) أكبر هضاب الوطن العربي هضبة .....
- (جنوب - شمال - وسط - غرب)
- (البحر الأحمر - الخليج العربي - البحر المتوسط - المحيط الأطلنطي)
- (باب المنذب - جبل طارق - هرمز - قناة السويس)
- (الروم - الفرس - الهند - مصر)
- (نجد - بادية الشام - أفريقيا الشمالية - حضرموت)



## بنك أسئلة البروفيسور الشامل في مادة " الدراسات الاجتماعية "

## علي مقررات " أكتوبر "

## الجغرافيا

## أولا

س ١: ضع علامة (✓) امام العبارة الصحيحة او (x) امام العبارة الخاطئة مع التصويب :-

- ١ - يطل الوطن العربي علي المحيط الهندي غربا . ( )
- ٢ - حافظت حدود الوطن العربي علي وحدته . ( )
- ٣ - يطل وطننا العربي علي اربع اذرع مائية مهمة . ( )
- ٤ - قامت علي ارض الوطن العربي العديد من الحضارات منها : الحضارة المصرية . ( )
- ٥ - تقع دولة جزر القمر في المحيط الهندي شمال دائرة الاستواء . ( )
- ٦ - يبلغ دول الجناح الاسيوي تسع والجناح الافريقي اثنتي عشر دولة . ( )
- ٧ - جبال البحر الاحمر جبال التوائية . ( )
- ٨ - من امثلة الودية الجافة وادي العلاقي في سوريا . ( )
- ٩ - حافظت تضاريس وطننا العربي علي وحدته . ( )
- ١٠ - من امثلة الجبال الانكسارية جبال اطلس . ( )
- ١١ - من هضاب الجناح الافريقي للوطن العربي هضبة الشطوط . ( )
- ١٢ - من الجبال الانكسارية في الوطن العربي جبال زاغروس . ( )
- ١٣ - يحد وطننا العربي من الشمال البحر الاحمر وجبال طوروس . ( )
- ١٤ - الموقع الجغرافي هو الموقع بالنسبة لخطوط الطول ودوائر العرض . ( )
- ١٥ - تتكون الجبال الالتوائية من اطلس التل في الشمال والصحراء في الجنوب . ( )
- ١٦ - تقع هضبة بادية الشام شمال شبه الجزيرة العربية . ( )
- ١٧ - هضبة الشطوط من اهم مظاهر هضاب قارة اسيا الشمالية . ( )
- ١٨ - الجبال الالتوائية نشأت نتيجة حدوث انكسار في القشرة الارضية ومنها جبال البحر الاحمر وجبال الشام . ( )
- ١٩ - الجبال الانكسارية نشأت نتيجة الحركات الباطنية التي تعرضت لها الارض منها جبال كردستان - زاغروس - عمان - اطلس . ( )



س ٢ : اختر الاجابة الصحيحة مما بين القوسين :-

- ١ - سبتة ومليلة من المدن التابعة لدولة.....  
( المغرب - ايران - الإمارات - السودان ) .
- ٢ - يمر في جنوب الوطن العربي.....  
( دائرة الاستواء - مدار السرطان - مدار الجدي - الدائرة القطبية ) .
- ٣ - من الدول التي مازالت تعاني من سيطرة الاستعمار.....  
( مصر - السودان - فلسطين - ليبيا ) .
- ٤ - تقع دولة جزر القمر جنوب دائرة الاستواء في.....  
( البحر المتوسط - البحر الاحمر - المحيط الاطلسي - المحيط الهندي ) .
- ٥ - مضيق..... يصل بين المحيط الاطلسي والبحر المتوسط .  
( هرمز - جبل طارق - باب المندب - قناة السويس ) .
- ٦ - يصل مضيق..... بين الخليج العربي وخليج عمان .  
( باب المندب - هرمز - جبل طارق - ماجلان ) .
- ٧ - من الجبال الانكسارية في الوطن العربي جبال.....  
( اطلس - الشام - عمان - كردستان ) .
- ٨ - ادت ثورات البراكين الي تكوين هضبة.....  
( الشطوط - نجد - بادية الشام - اليمن ) .
- ٩ - من اثار التعرية الهوائية.....  
( السهول الفيضية - الاودية الجافة - الكثبان الرملية - السهول الساحلية ) .
- ١٠ - من امثلة الواحات في الوطن العربي واحة.....  
( سيوة - الشام - عمان - كردستان ) .
- ١١ - تقع هضبة الشطوط بين سلاسل جبال.....  
( البحر الاحمر - الحجاز - عسير - اطلس ) .
- ١٢ - من الجبال الالتوائية في وطننا العربي جبال.....  
( البحر الاحمر - كردستان - عسير - اليمن ) .
- ١٣ - من المشكلات السياسية في الوطن العربي.....  
( دار فور - فلسطين - سبتة ومليلة - جميعهم ) .





- ١٤- يحد الوطن العربي من الشمال.....
- ( الخليج العربي - البحر المتوسط - المحيط الهندي - غير ذلك ) .
- ١٥- يربط بين البحر الاحمر وخليج عدن.....
- ( باب المنذب - هرمز - ماجلان - قناة السويس ) .
- ١٦ - ادت الي تكوين سلاسل جبلية مرتفعة جبال.....
- ( التوائية - انكسارية - ثورانات بركانية - لا يوجد شيء مما سبق )
- ١٧- حركات باطنية عند ارتفاعها كونت الجبال وعند انخفاضها كونت البحار.....
- ( الالتوائية - الانكسارية - الثورانات البركانية - لا توجد اجابة صحيحة ) .
- ١٨ - تتمثل في نحت الماء للصخور وتكوين الدالات والشواطئ.....
- ( التعرية الهوائية - التعرية المائية - التعرية الجليدية - الثورانات البركانية ) .
- ١٩ - تتمثل في نحت الرياح للصخور وينتج عنها الكثبان الرملية.....
- ( التعرية الهوائية - التعرية المائية - التعرية الجليدية - الثورانات البركانية ) .

### س٣ :- اكتب ماتشير اليه العبارات :-

- ١ - الموقع بالنسبة للماء واليابس .
- ٢ - الموقع بالنسبة لدوائر العرض وخطوط .
- ٣ - اودية كانت تملؤها المياه في العصور القديمة ثم جفت .
- ٤ - منخفضات في الصحراء يعيش بها السكان وتربي فيها الحيوانات .

### س٤ : صوب ما تحته :-

- ١ - من المدن التي تكافح لتحصل علي استقلالها سبتة ومليلة في تونس .
- ٢ - يتحكم في مضيق هرمز دولتا المغرب واسبانيا .
- ٣ - وجود البترول والغاز الطبيعي في الوطن العربي اعطاه اهمية حضرية .
- ٤ - الدولة العربية التي تشرف علي مضيق هرمز دولة اليمن .
- ٥ - مضيق جبل طارق تشرف عليه الدول العربية فقط .
- ٦ - الواحات اودية كانت تملؤها المياه في العصور القديمة ثم جفت .
- ٧ - ادت الحركات الانكسارية الي تكوين السلاسل الجبلية المرتفعة .
- ٨ - تتمثل التعرية المائية في نحت الرياح للصخور وارسابها .
- ٩ - تقع هضبة حضر موت شمال شبه الجزيرة العربية .



- ١٠ - السهول الصحراوية تربتها خصبة وصالحة للزراعة .
- ١١ - من مميزات السهول الصحراوية تربتها خصبة صالحة للزراعة .
- ١٢ - من السهول الفيضية سهول نهري دجلة والفرات في مصر والسودان .
- ١٣ - سهول كونتها الرياح عن طريق النحت والإرساب السهول الساحلية .
- ١٤ - الاودية الجافة ارض منخفضة في الصحراء صالحة للحياة .

### س ٥ : يم تفسر :-

١ - اهمية الحدود الطبيعية للوطن العربي .

٢ - للوطن العربي مكانة دينية مهمة .

٣ - الاهمية الحضارية للوطن العربي .

٤ - اهمية الاودية الجافة في الوطن العربي .

٥ - لم تقف التضاريس عائقا امام الوحدة العربية .

٦ - السهول الساحلية بالوطن العربي متنوعة الموارد والاستخدام .

٧ - الاهمية الاقتصادية للوطن العربي .

٨ - الاهمية الاقتصادية للسهول الفيضية .



## س ٦ :- ماالنتائج المترتبة علي :-

١ - تعرض وطننا العربي للاستعمار الاوروبي .

٢ - وجود الاماكن المقدسة بالوطن العربي .

٣ - الاهمية الاستراتيجية للوطن العربي .

٤ - تحكم الوطن العربي في طرق التجارة العالمية .

## س ٥ : حدد اوجه الشبه والاختلاف بين كل من :-

١ - الواحات والأودية مع ذكر مثال لكل منهم .

الواحات	الودية الجافة

٢ - السهول الساحلية و السهول الفيضية مع ذكر مثال لكل منها .

السهول الساحلية	السهول الفيضية

ب : ما العلاقة بين :-

١ - اتجاه الكتل الجبلية - توزيع كمية المطر .



## التاريخ

## ثانيا

س ١: ضع علامة (✓) امام العبارة الصحيحة او (×) امام العبارة الخاطئة مع التصويب :-

- ١ - كانت حرفت الزراعة هي الحرفة السائدة في شبه الجزيرة العربية . ( )
- ٢ - احتلت دولة الروم بلاد العراق واليمن . ( )
- ٣ - انقسم المجتمع العربي قديما الي بدو وحضر . ( )
- ٤ - حظيت بعض النساء بمكانة عالية في المجتمع العربي مثل السيدة رقية . ( )
- ٥ - انتشرت الديانة اليهودية في اجزاء قليلة من شبه الجزيرة العربية قبل الاسلام . ( )
- ٦ - تعتبر قبيلة ثقيف بالطائف اشهر القبائل العربية في بلاد الحجاز . ( )
- ٧ - فرح عبد المطلب وبنو هاشم جميعا بمولد الرسول (ص) . ( )
- ٨ - مكث الرسول (ص) في بيت حليلة السعدية ثلاث سنوات . ( )
- ٩ - عرف العام الذي ولد فيه الرسول (ص) بعام الحزن . ( )
- ١٠ - يمتد نسب الرسول (ص) الي عدنان ولد اسماعيل بن ابراهيم عليه السلام . ( )
- ١١ - عرف الرسول (ص) في شبابه بالصادق الأمين . ( )
- ١٢ - ولد الرسول (ص) يتيما حيث مات أبوه ودفن في مكة . ( )
- ١٣ - انتشرت الديانة المسيحية بدولة الفرس . ( )
- ١٤ - دخلت عبادة الاصنام شبه الجزيرة العربية قبل دين ابراهيم . ( )

س ٢ : اختر الاجابة الصحيحة مما بين القوسين :-

- ١ - من الديانات التي ظهرت في شبه الجزيرة العربية.....  
( اليهودية - المسيحية - عبادة الاصنام - كل ما سبق )
- ٢ - كانت الحرفة السائدة في البادية هي.....  
( الزراعة - الصناعة - الرعي - التجارة )
- ٣ - احتلت دولة الفرس بعض البلاد العربية مثل.....  
( مصر - سوريا - الاردن - العراق )
- ٤ - كانت قبيلة..... اشهر القبائل بمكة .  
( هوزان - ثقيف - قريش - العبادة )



- ٥ - من اشهر اسواق العرب قبل الاسلام سوق.....  
( الحجاز - مدين - حمير - عكاظ ) .
- ٦ - احتل.....بعض البلاد العربية مثل مصر والشام .  
( الفرس - الروم - الاتراك - الاحباش ) .
- ٧ - مرضعة الرسول (ص) هي السيدة.....  
( خديجة - فاطمة - حليلة - ام كلثوم ) .
- ٨ - يمتد نسب الرسول (ص) الي عدنان ولد.....  
( ابراهيم - اسماعيل - يوسف - نوح ) .
- ٩ - خرج النبي (ص) تاجرا بمال خديجة مع غلامها ميسرة الي.....  
( مصر - اليمن - الشام - العراق ) .
- ١٠ - عمل النبي (ص) بحرفة.....ليساعد عمه ابا طالب .  
( الرعي - التجارة - الزراعة - الصناعة ) .
- ١١ - كفل الرسول (ص) بعد وفاة أمه آمنة بنت وهب.....  
( بنو النجار - جده عبد المطلب - عمه أبو طالب - حليلة السعدية ) .
- ١٢ - ولد الرسول (ص) بمكة يوم الاثنين الثاني عشر من شهر.....  
( رمضان - ربيع الاول - محرم - ربيع اخر ) .
- ١٣ - سمي العام الذي مات فيه ابو طالب والسيدة خديجة عام.....  
( الفيل - النصر - الحزن - الايذاء ) .
- ١٤ - ولد الرسول يوم الاثنين ١٢ من ربيع الاول عام ٥٧٠ م في.....  
( الطائف - المدينة - مكة - حلب ) .
- ١٥ - حاول هدم الكعبة.....  
( هرقل - رستم - ابرهة - النجاشي )
- ١٦ - عاش سيدنا محمد عند مرضعته اربع سنوات في ديار.....  
( عدنان - قحطان - سعد - النضير ) .



س ٣ : اكتب ماتشير اليه العبارة :-

- ١ - كانت مجالا لتنافس الشعراء والادباء .
- ٢ - حرفة كانت قليلة في شبه الجزيرة العربية بسبب ندرة الامطار .

س ٤ : صوب ما تحته :-

- ١ - من اشهر الأسواق العربية التي تنافس فيها الشعراء سوق بغداد .
- ٢ - كانت الحرفة السائدة في البادية الزراعة .
- ٣ - كانت قبيلة ثقيف اشهر القبائل بمكة .
- ٤ - عبادة الله الواحد الأحد علي ديانة سيدنا ابراهيم هي المسيحية .
- ٥ - من العادات الايجابية للعرب قبل الاسلام وأد البنات .
- ٦ - ولد الرسول (ص) في يثرب في العام المعروف بعام الوفود .
- ٧ - ولد الرسول (ص) يتيما حيث توفي أبوه عبد الله ودفن في الطائف .

س ٥ : لمن تنسب الأعمال الآتية :-

- ١ - كفل الرسول (ص) بعد وفاة جده عبد المطلب .
- ٢ - حاول هدم الكعبة ليصرف الناس عن زيارتها .
- ٣ - تولي تربية الرسول (ص) بعد وفاة أمه .
- ٤ - مرضعة من بني سعد أقام عندها الرسول (ص) وظل عندها اربع سنوات .
- ٥ - فرح بمولد الرسول (ص) وظاف به حول الكعبة وسماه محمدا .

س ٦ : اكمل العبارات الآتية بكلمات مناسبة :-

- ١ - كان اهل مكة يقومون برحلة الشتاء الي.....
- ٢ - كان العالم قبل الاسلام يحكمه قوتان هما.....و.....
- ٣ - كان النظام السياسي السائد في شبه الجزيرة العربية قبل الاسلام هو.....
- ٤ - كانت من اشهر القبائل العربية قبيلة.....
- ٥ - اكثر سكان شبه الجزيرة العربية عملا بالتجارة هم اهل.....

س ٧ : بم تفسر :-

- ١ - المكانة التجارية المتميزة لمكة .



٢ - حاجة العالم الي مجيء محمد (ص) .

٣ - شهرة سوق عكاظ وذي المجاز في شبه الجزيرة العربية .

٤ - فرح عبد المطلب بميلاد الرسول (ص) .

٥ - كان من عادات العرب إرسال أبناءهم الي البادية .

٦ - محاولة أبرهة الحبشي هدم الكعبة .

٧ - تسمية محمد (ص) بهذا الاسم .

٨ - تسمية العام الذي ولد فيه الرسول ص بعام الفيل .

س ٨ : ماالنتائج المترتبة علي :-

١ - موقع مكة المتميز علي طريق التجارة .

٢ - ندرة الامطار في الجزيرة العربية .

٣ : دلل علي صحة العبارة :- تباينت اخلاق العرب قبل الاسلام .

٤ - عرف الرسول (ص) في شبابه بالصفات الحميدة قبل الدعوة .

٥ - عمل الرسول (ص) بحرفة الرعي .



## بنك أسئلة البروفيسور الشامل في مادة " الدراسات الاجتماعية "

## علي مقررات " أكتوبر "

## الجغرافيا

## أولا

س ١: ضع علامة (✓) امام العبارة الصحيحة او (×) امام العبارة الخاطئة مع التصويب :-

- ١ - يطل الوطن العربي علي المحيط الهندي غربا . شرقا . ( × )
- ٢ - حافظت حدود الوطن العربي علي وحدته . ( ✓ )
- ٣ - يطل وطننا العربي علي اربع اذرع مائية مهمة . ثلاث . ( × )
- ٤ - قامت علي ارض الوطن العربي العديد من الحضارات منها : الحضارة المصرية . ( ✓ )
- ٥ - تقع دولة جزر القمر في المحيط الهندي شمال دائرة الاستواء . جنوب . ( × )
- ٦ - يبلغ دول الجناح الاسيوي تسع والجناح الافريقي اثنتي عشر دولة . ١٢,١٠ . ( × )
- ٧ - جبال البحر الاحمر جبال التوائية . انكسارية . ( × )
- ٨ - من امثلة الودية الجافة وادي العلاقي في سوريا . مصر . ( × )
- ٩ - حافظت تضاريس وطننا العربي علي وحدته . ( ✓ )
- ١٠ - من امثلة الجبال الانكسارية جبال اطلس . التوائية . ( × )
- ١١ - من هضاب الجناح الافريقي للوطن العربي هضبة الشطوط . ( ✓ )
- ١٢ - من الجبال الانكسارية في الوطن العربي جبال زاجروس . الشام . ( × )
- ١٣ - يحد وطننا العربي من الشمال البحر الاحمر وجبال طوروس . البحر المتوسط . ( × )
- ١٤ - الموقع الجغرافي هو الموقع بالنسبة لخطوط الطول ودوائر العرض الفلكي . ( × )
- ١٥ - تتكون الجبال الالتوائية من اطلس التل في الشمال والصحراء في الجنوب . ( ✓ )
- ١٦ - تقع هضبة بادية الشام شمال شبه الجزيرة العربية . ( ✓ )
- ١٧ - هضبة الشطوط من اهم مظاهر هضاب قارة اسيا الشمالية . افريقيا . ( × )
- ١٨ - الجبال الالتوائية نشأت نتيجة حدوث انكسار في القشرة الارضية ومنها جبال البحر الاحمر وجبال الشام . ( × )
- ١٩ - الجبال الانكسارية نشأت نتيجة الحركات الباطنية التي تعرضت لها الارض منها جبال كردستان - زاجروس - عمان - اطلس . الالتوائية . ( × )



س ٢ : اختر الاجابة الصحيحة مما بين القوسين :-

- ١ - سبتة ومليلة من المدن التابعة لدولة.....  
( **المغرب** - ايران - الإمارات - السودان ) .
- ٢ - يمر في جنوب الوطن العربي.....  
( **دائرة الاستواء** - مدار السرطان - مدار الجدي - الدائرة القطبية ) .
- ٣ - من الدول التي مازالت تعاني من سيطرة الاستعمار.....  
( مصر - السودان - **فلسطين** - ليبيا ) .
- ٤ - تقع دولة جزر القمر جنوب دائرة الاستواء في.....  
( البحر المتوسط - البحر الاحمر - المحيط الاطلسي - **المحيط الهندي** ) .
- ٥ - مضيق..... يصل بين المحيط الاطلسي والبحر المتوسط .  
( هرمز - **جبل طارق** - باب المندب - قناة السويس ) .
- ٦ - يصل مضيق..... بين الخليج العربي وخليج عمان .  
( باب المندب - **هرمز** - جبل طارق - ماجلان ) .
- ٧ - من الجبال الانكسارية في الوطن العربي جبال.....  
( اطلس - **الشام** - عمان - كردستان ) .
- ٨ - ادت ثورات البراكين الي تكوين هضبة.....  
( الشطوط - نجد - بادية الشام - **اليمن** ) .
- ٩ - من اثار التعرية الهوائية.....  
( السهول الفيضية - الاودية الجافة - **الكثبان الرملية** - السهول الساحلية ) .
- ١٠ - من امثلة الواحات في الوطن العربي واحة.....  
( **سيوة** - الشام - عمان - كردستان ) .
- ١١ - تقع هضبة الشطوط بين سلاسل جبال.....  
( البحر الاحمر - الحجاز - عسير - **اطلس** ) .
- ١٢ - من الجبال الالتوائية في وطننا العربي جبال.....  
( البحر الاحمر - **كردستان** - عسير - اليمن ) .
- ١٣ - من المشكلات السياسية في الوطن العربي.....  
( دار فور - فلسطين - سبتة ومليلة - **جميعهم** ) .



- ١٤ - يحد الوطن العربي من الشمال.....
- ( الخليج العربي - البحر المتوسط - المحيط الهندي - غير ذلك ) .
- ١٥ - يربط بين البحر الاحمر وخليج عدن.....
- ( باب المنذب - هرمز - ماجلان - قناة السويس ) .
- ١٦ - ادت الي تكوين سلاسل جبلية مرتفعة جبال.....
- ( التوائية - انكسارية - ثورانات بركانية - لا يوجد شيء مما سبق )
- ١٧ - حركات باطنية عند ارتفاعها كونت الجبال وعند انخفاضها كونت البحار.....
- ( الالتوائية - الانكسارية - الثورانات البركانية - لا توجد اجابة صحيحة ) .
- ١٨ - تتمثل في نحت الماء للصخور وتكوين الدالات والشواطئ.....
- ( التعرية الهوائية - التعرية المائية - التعرية الجليدية - الثورانات البركانية ) .
- ١٩ - تتمثل في نحت الرياح للصخور وينتج عنها الكثبان الرملية.....
- ( التعرية الهوائية - التعرية المائية - التعرية الجليدية - الثورانات البركانية ) .

س ٣ :- اكتب ماتشير اليه العبارات :-

- ١ - الموقع بالنسبة للماء واليابس . الموقع الجغرافي
- ٢ - الموقع بالنسبة لدوائر العرض وخطوط . الموقع الفلكي
- ٣ - اودية كانت تملؤها المياه في العصور القديمة ثم جفت . الودية الجافة
- ٤ - منخفضات في الصحراء يعيش بها السكان وتربي فيها الحيوانات . الواحات

س ٤ : صوب ما تحته :-

- ١ - من المدن التي تكافح لتحصل علي استقلالها سبتة ومليلة في تونس . المغرب
- ٢ - يتحكم في مضيق هرمز دولتا المغرب واسبانيا . جبل طارق
- ٣ - وجود البترول والغاز الطبيعي في الوطن العربي اعطاه اهمية حضرارية . اقتصادية
- ٤ - الدولة العربية التي تشرف علي مضيق هرمز دولة اليمن . عمان - ايران
- ٥ - مضيق جبل طارق تشرف عليه الدول العربية فقط . باب المنذب
- ٦ - الواحات اودية كانت تملؤها المياه في العصور القديمة ثم جفت . الودية الجافة
- ٧ - ادت الحركات الانكسارية الي تكوين السلاسل الجبلية المرتفعة . الالتوائية
- ٨ - تتمثل التعرية المائية في نحت الرياح للصخور وارسابها . الهوائية
- ٩ - تقع هضبة حضر موت شمال شبه الجزيرة العربية . بادية الشام



- ١٠ - السهول الصحراوية تربتها خصبة وصالحة للزراعة . الفيضية
- ١١ - من مميزات السهول الصحراوية تربتها خصبة صالحة للزراعة . السهول الفيضية
- ١٢ - من السهول الفيضية سهول نهري دجلة والفرات في مصر والسودان . نهر النيل
- ١٣ - سهول كونتها الرياح عن طريق النحت والإرساب السهول الساحلية . السهول الصحراوية
- ١٤ - الاودية الجافة ارض منخفضة في الصحراء صالحة للحياة . الواحات

### س ٥ : يم تفسر :-

- ١ - اهمية الحدود الطبيعية للوطن العربي .
- ساعدته علي الحفاظ علي شخصيته العربية المتميزة بين الامم .
- ٢ - للوطن العربي مكانة دينية مهمة .
- لأنه كان مهبط للعديد من الديانات السماوية (الاسلام - اليهودية - المسيحية) ووجود اماكن مقدسة به مثل الكعبة المشرفة .
- ٣ - الاهمية الحضارية للوطن العربي .
- لأنه قامت علي ارضه عدة حضارات منها ( الفرعونية المصرية - بلاد الشام - اليمن - العراق ) .
- ٤ - اهمية الاودية الجافة في الوطن العربي .
- تستخدم كطرق للمواصلات - يسهل الحصول منها علي المياه الجوفية .
- ٥ - لم تقف التضاريس عائقا امام الوحدة العربية .
- ساعدت علي الحفاظ علي شخصيته العربية - تحقيق الوحدة بين ابنائه - الاتصال بالعالم الخارجي .
- ٦ - السهول الساحلية بالوطن العربي متنوعة الموارد والاستخدام .
- حيث تتميز ب استخراج الثروات المعدنية ومصادر الطاقة منها .
- ٧ - الاهمية الاقتصادية للوطن العربي .
- تنوع موارده بسبب تنوع الاقاليم المناخية والحياة النباتية والتكوينات الجيولوجية به .
- ٨ - الاهمية الاقتصادية للسهول الفيضية .
- حيث ان تربتها خصبة صالحة للزراعة - تتميز ب ارتفاع الكثافة السكانية .



س ٦ :- ماالنتائج المترتبة علي :-

- ١ - تعرض وطننا العربي للاستعمار الاوروبي .  
ادي الي نهب خيراته ، تقسيمه ، اصطناع مشكلة الحدود السياسية .
- ٢ - وجود الاماكن المقدسة بالوطن العربي .  
ادي الي اكتسابه اهمية دينية وقيم روحية عظيمة في نفوس سكان العالم .
- ٣ - الاهمية الاستراتيجية للوطن العربي .  
أدي الي زيادة اهميته وقت السلم ووقت الحرب من خلال تحكمه في طرق التجارة العالمية وتعرضه للاستعمار .
- ٤ - تحكم الوطن العربي في طرق التجارة العالمية .  
ادي الي زيادة اهميته الاقتصادية والاستراتيجية .

س ٥ : حدد اوجه الشبه والاختلاف بين كل من :-

- ١ - الواحات والأودية مع ذكر مثال لكل منهم .

الواحات	الودية الجافة
صالحة للحياة وتعتمد علي المياه الجوفية من الابار والعيون تنتشر بها اراضي صالحة للزراعة امثلتها : واحة سيوة بمصر - الكفرة بليبيا	يسهل الحصول منها علي المياه الجوفية تستخدم كطرق للمواصلات امثلتها : وادي العلاقي في مصر

- ٢ - السهول الساحلية و السهول الفيضية مع ذكر مثال لكل منها .

السهول الساحلية	السهول الفيضية
تربة خصبة صالحة للزراعة ارتفاع الكثافة السكانية امثلتها : نهر النيل بمصر والسودان - دجلة والفرات بالعراق	تتميز بصلاحياتها للزراعة اختلاف الاتساع امثلتها : سهول البحر المتوسط - الاحمر

ب : ما العلاقة بين :-

- ١ - اتجاه الكتل الجبلية - توزيع كمية المطر .  
حيث ان اتجاه الكتل الجبلية تؤثر في توزيع كمية المطر حيث تزداد الامطار في سفوح الجبال المواجهة للبحر عن السفوح الداخلية .



## التاريخ

## ثانيا

س ١: ضع علامة (✓) امام العبارة الصحيحة او (×) امام العبارة الخاطئة مع التصويب :-

- ١ - كانت حرفت **الزراعة** هي الحرفة السائدة في شبه الجزيرة العربية . **الرعي** ( × ) .
- ٢ - احتلت دولة **الروم** بلاد العراق واليمن . **الفرس** ( × ) .
- ٣ - انقسم المجتمع العربي قديما الي بدو وحضر . ( ✓ ) .
- ٤ - حظيت بعض النساء بمكانة عالية في المجتمع العربي مثل السيدة **رقية** . **خديجة** ( × ) .
- ٥ - انتشرت الديانة اليهودية في اجزاء قليلة من شبه الجزيرة العربية قبل الاسلام . ( ✓ ) .
- ٦ - تعتبر قبيلة **ثقيف** بالطائف اشهر القبائل العربية في بلاد الحجاز . **قريش** ( × ) .
- ٧ - فرح عبد المطلب وبنو هاشم جميعا بمولد الرسول (ص) . ( ✓ ) .
- ٨ - مكث الرسول (ص) في بيت حليلة السعدية **ثلاث** سنوات . **اربع** ( × ) .
- ٩ - عرف العام الذي ولد فيه الرسول (ص) بعام **الحرز** . **الفيل** ( × ) .
- ١٠ - يمتد نسب الرسول (ص) الي عدنان ولد اسماعيل بن ابراهيم عليه السلام . ( ✓ ) .
- ١١ - عرف الرسول (ص) في شبابه بالصادق الأمين . ( ✓ ) .
- ١٢ - ولد الرسول (ص) يتيما حيث مات أبوه ودفن في **مكة** . **يثرب** ( × ) .
- ١٣ - انتشرت الديانة المسيحية بدولة **الفرس** . **الروم** ( × ) .
- ١٤ - دخلت عبادة الاصنام شبه الجزيرة العربية قبل دين ابراهيم . **بعد** ( × ) .

س ٢ : اختر الاجابة الصحيحة مما بين القوسين :-

- ١ - من الديانات التي ظهرت في شبه الجزيرة العربية.....  
( اليهودية - المسيحية - عبادة الاصنام - كل ما سبق ) .
- ٢ - كانت الحرفة السائدة في البادية هي.....  
( الزراعة - الصناعة - **الرعي** - التجارة ) .
- ٣ - احتلت دولة الفرس بعض البلاد العربية مثل.....  
( مصر - سوريا - الاردن - **العراق** ) .
- ٤ - كانت قبيلة..... اشهر القبائل بمكة .  
( هوزان - ثقيف - **قريش** - العبادة ) .



- ٥ - من اشهر اسواق العرب قبل الاسلام سوق.....  
 ( الحجاز - مدين - حمير - **عكاظ** ) .
- ٦ - احتل.....بعض البلاد العربية مثل مصر والشام .  
 ( الفرس - **الروم** - الاتراك - الاحباش ) .
- ٧ - مرضعة الرسول (ص) هي السيدة.....  
 ( خديجة - فاطمة - **حليمة** - ام كلثوم ) .
- ٨ - يمتد نسب الرسول (ص) الي عدنان ولد.....  
 ( ابراهيم - **اسماعيل** - يوسف - نوح ) .
- ٩ - خرج النبي (ص) تاجرا بمال خديجة مع غلامها ميسرة الي.....  
 ( مصر - اليمن - **الشام** - العراق ) .
- ١٠ - عمل النبي (ص) بحرفة.....ليساعد عمه أبا طالب .  
 ( الرعي - **التجارة** - الزراعة - الصناعة ) .
- ١١ - كفل الرسول (ص) بعد وفاة أمه آمنة بنت وهب.....  
 ( بنو النجار - **جده عبد المطلب** - عمه أبو طالب - حليمة السعدية ) .
- ١٢ - ولد الرسول (ص) بمكة يوم الاثنين الثاني عشر من شهر.....  
 ( رمضان - **ربيع الاول** - محرم - ربيع اخر ) .
- ١٣ - سمي العام الذي مات فيه ابو طالب والسيدة خديجة عام.....  
 ( الفيل - النصر - **الحزن** - الايذاء ) .
- ١٤ - ولد الرسول يوم الاثنين ١٢ من ربيع الاول عام ٥٧٠ م في.....  
 ( الطائف - المدينة - **مكة** - حلب ) .
- ١٥ - حاول هدم الكعبة.....  
 ( هرقل - رستم - **ابرهة** - النجاشي )
- ١٦ - عاش سيدنا محمد عند مرضعته اربع سنوات في ديار.....  
 ( عدنان - قحطان - **سعد** - النضير ) .



س ٣ : اكتب ماتشير اليه العبارة :-

- ١ - كانت مجالا لتنافس الشعراء والادباء . **الأسواق**
- ٢ - حرفة كانت قليلة في شبه الجزيرة العربية بسبب ندرة الامطار . **الزراعة**

س ٤ : صوب ما تحته :-

- ١ - من اشهر الأسواق العربية التي تنافس فيها الشعراء سوق **بغداد** . **عكاظ**
- ٢ - كانت الحرفة السائدة في البادية **الزراعة** . **الرعي**
- ٣ - كانت قبيلة **ثقيف** اشهر القبائل بمكة . **قريش**
- ٤ - عبادة الله الواحد الأحد علي ديانة سيدنا ابراهيم هي **المسيحية** . **الحنيفية**
- ٥ - من العادات الايجابية للعرب قبل الاسلام وأد البنات . **حماية الجار**
- ٦ - ولد الرسول (ص) في **يثرب** في العام المعروف بعام **الوفود** . **مكة** - عام الفيل
- ٧ - ولد الرسول (ص) يتيما حيث توفي أبوه عبد الله ودفن في **الطائف** . **يثرب**

س ٥ : لمن تنسب الأعمال الآتية :-

- ١ - كفل الرسول (ص) بعد وفاة جده عبد المطلب . **عمه ابو طالب**
- ٢ - حاول هدم الكعبة ليصرف الناس عن زيارتها . **ابرهة الحبشي**
- ٣ - تولي تربية الرسول (ص) بعد وفاة أمه . **جده عبد المطلب**
- ٤ - مرضعة من بني سعد أقام عندها الرسول (ص) وظل عندها اربع سنوات . **حليمة السعدية**
- ٥ - فرح بمولد الرسول (ص) وظاف به حول الكعبة وسماه محمدا . **جده عبد المطلب**

س ٦ : اكمل العبارات الآتية بكلمات مناسبة :-

- ١ - كان اهل مكة يقومون برحلة الشتاء الي **اليمن** .
- ٢ - كان العالم قبل الاسلام يحكمه قوتان هما **الفرس و الروم**
- ٣ - كان النظام السياسي السائد في شبه الجزيرة العربية قبل الاسلام هو **النظام القبلي** .
- ٤ - كانت من اشهر القبائل العربية قبيلة **قريش** .
- ٥ - اكثر سكان شبه الجزيرة العربية عملا بالتجارة هم اهل **مكة** .

س ٧ : بم تفسر :-

- ١ - المكانة التجارية المتميزة لمكة .

لتنظيمهم اكبر رحلتين : الشتاء الي بلاد اليمن ، الصيف الي بلاد الشام .



- ٢ - حاجة العالم الي مجيء محمد (ص) .
- ليرشد الناس الي عبادة الله الواحد - لينشر قيم العدل والرحمة والتسامح .
- ٣ - شهرة سوق عكاظ وذي المجاز في شبه الجزيرة العربية .
- حيث كانت الاسواق ميدانا يتنافس فيه الشعراء والخطباء .
- ٤ - فرح عبد المطلب بميلاد الرسول (ص) .
- لأنه كان عطاء لهم من الله وتعويضا عن فقد ابيه .
- ٥ - كان من عادات العرب إرسال أبناءهم الي البادية .
- لان العيش في البادية يكسبهم فصاحة اللسان - قوة البنيان - رجاحة العقل .
- ٦ - محاولة أبرهة الحبشي هدم الكعبة .
- ليصرف العرب عن زيارتها وتعظيمها ويتوجهوا الي كنيسة التي بناها ب ارض اليمن .
- ٧ - تسمية محمد (ص) بهذا الاسم .
- ليكون محمودا في الارض وفي السماء .
- ٨ - تسمية العام الذي ولد فيه الرسول ص بعام الفيل .
- لأنه في هذا العام حاول ابرهة الحبشي هدم الكعبة لكن الله حمي بيته .

### س ٨ : ماالنتائج المترتبة علي :-

- ١ - موقع مكة المتميز علي طريق التجارة .
- ادي الي شهرتها تجاريا وقياهما برحلتى الشتاء والصيف .
- ٢ - ندرة الامطار في الجزيرة العربية .
- ادي الي قلة حرفة الزراعة .
- ٣ : دلل علي صحة العبارة :- تباينت اخلاق العرب قبل الاسلام .
- اخلاق حميدة : حماية الجار - الصبر - الوفاء بالعهد - العفو عند المقدرة - الشجاعة والكرم .
- اخلاق سيئة : شرب الخمر - لعب الميسر - وأد البنات - الأخذ بالثأر .
- ٤ - عرف الرسول (ص) في شبابه بالصفات الحميدة قبل الدعوة .
- لقبوه بالصادق الامين .
- ٥ - عمل الرسول (ص) بحرفة الرعي .
- تعلم من حرفة الرعي ( الصبر - التواضع - الشجاعة - الرحمة - العطف ) .